


ใบงานที่ 1 เรื่อง ความหมายของการหาร

เติมตัวเลขแสดงจำนวนและเขียนประโยคสัญลักษณ์การหาร




1. ซาลาเปา ลูก จัดใส่จาน จานละ ลูก จัดได้ จาน

ประโยคสัญลักษณ์การหาร ÷ =



2. ขนมเปี๊ยะ ชิ้น แบ่งใส่ถุง ถุงละ ชิ้น แบ่งได้ ถุง

ประโยคสัญลักษณ์การหาร ÷ =

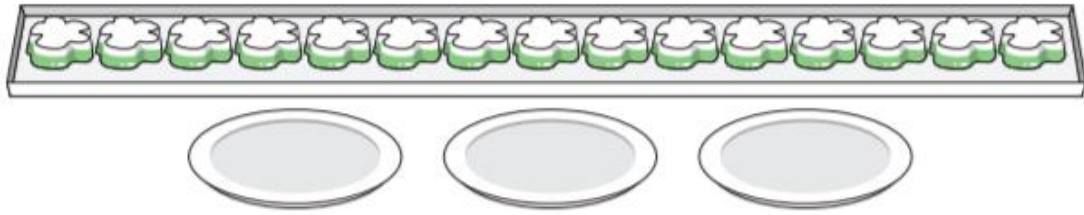


3. ตะโก้ 6 ชิ้น แบ่งใส่จาน จานละ ชิ้น แบ่งได้ จาน

ประโยคสัญลักษณ์การหาร ÷ =

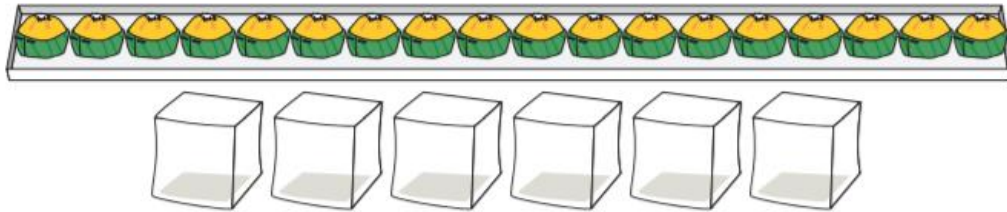
ใบงานที่ 2 เรื่อง ความหมายของการหาร

เติมตัวเลขแสดงจำนวนและเขียนประโยคสัญลักษณ์การหาร



1. รุ่ง ชิ้น แบ่งใส่จาน จาน จานละเท่า ๆ กัน
ได้จานละ ชิ้น

ประโยคสัญลักษณ์การหาร ÷ =



2. ชนมตาล ชิ้น จัดใส่ถุง ถุง ถุงละเท่า ๆ กัน

ได้ถุงละ ถุง
ประโยคสัญลักษณ์การหาร ÷ =

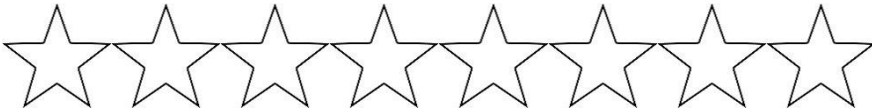
ชื่อ.....

เลขที่.....

ใบงานที่ 3 เรื่อง การหาผลหารโดยใช้ตัวนับ

เติมตัวเลขแสดงจำนวน

1. $8 \div 2 =$



ตัวนับ 8 อัน แบ่งเป็นกลุ่ม กลุ่มละ 2 อัน ได้ กลุ่ม

ดังนั้น $8 \div 2 =$


2. $15 \div 5 =$



ตัวนับ 15 อัน แบ่งเป็นกลุ่ม กลุ่มละ 5 อัน ได้ กลุ่ม

ดังนั้น $15 \div 5 =$

3. $21 \div 3 =$



ตัวนับ 21 อัน แบ่งเป็นกลุ่ม กลุ่มละ 3 อัน ได้ กลุ่ม

ดังนั้น $21 \div 3 =$


ใบงานที่ 4 เรื่อง ความสัมพันธ์ของการคูณและการหาร

เติมตัวเลขแสดงจำนวน




$$3 \times 4 = 12$$

$$12 \div 3 = \boxed{}$$




$$12 \div 4 = \boxed{}$$




$$6 \times 2 = 12$$

$$12 \div 6 = \boxed{}$$



$$12 \div 2 = \boxed{}$$



$$5 \times 5 = 25$$

$$25 \div 5 = \boxed{}$$

$$25 \div 5 = \boxed{}$$

ใบงานที่ 5 เรื่อง ความสัมพันธ์ของการคูณและการหาร

เติมคำตอบโดยใช้ความสัมพันธ์ของการคูณและการหาร

$$1. 25 \div 5 = \square$$

$$5 \times \square = 2$$

ตอบ

$$2. 9 \div 9 = \square$$

$$9 \times \square = 9$$

ตอบ

$$3. 24 \div 6 = \square$$

$$6 \times \square = 24$$

ตอบ

$$4. 27 \div 9 = \square$$

$$9 \times \square = 27$$

ตอบ

ชื่อ

เลขที่

ใบงานที่ 6 เรื่อง ความสัมพันธ์ของการคูณและการหาร

เติมตัวเลขแสดงจำนวน

1. $5 \times 2 = 10$

$$\boxed{} \div 2 = \boxed{}$$

$$10 \div \boxed{} = \boxed{}$$

2. $4 \times 4 = 16$

$$16 \div 4 = \boxed{}$$

$$16 \div 4 = \boxed{}$$

3. $6 \times 7 = 25$

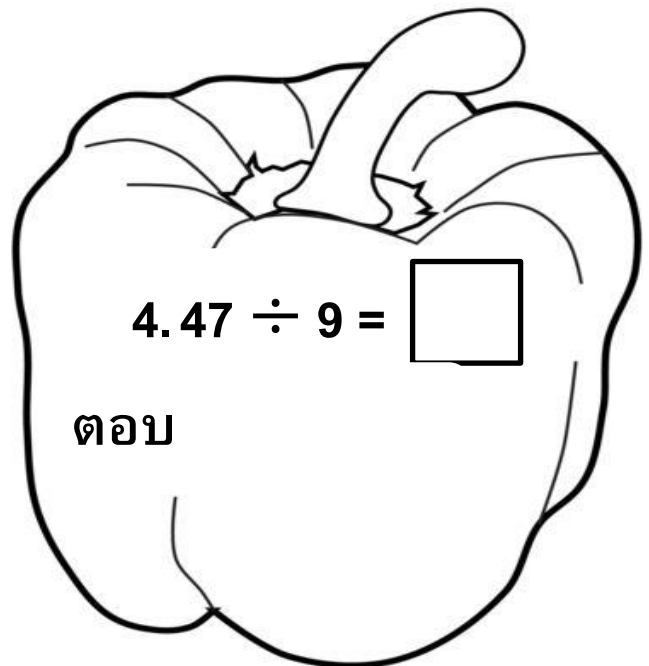
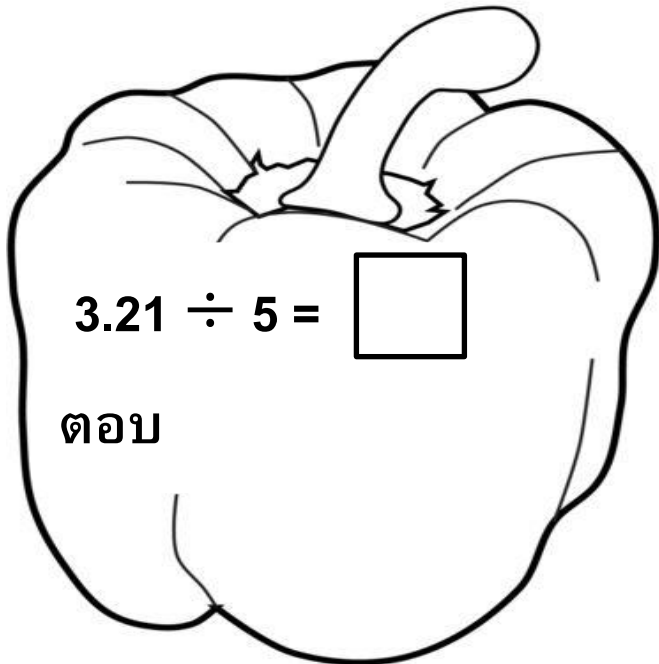
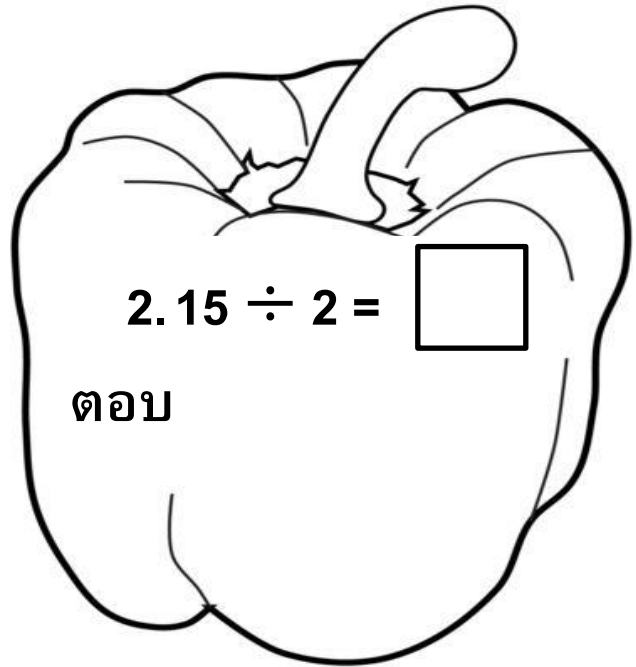
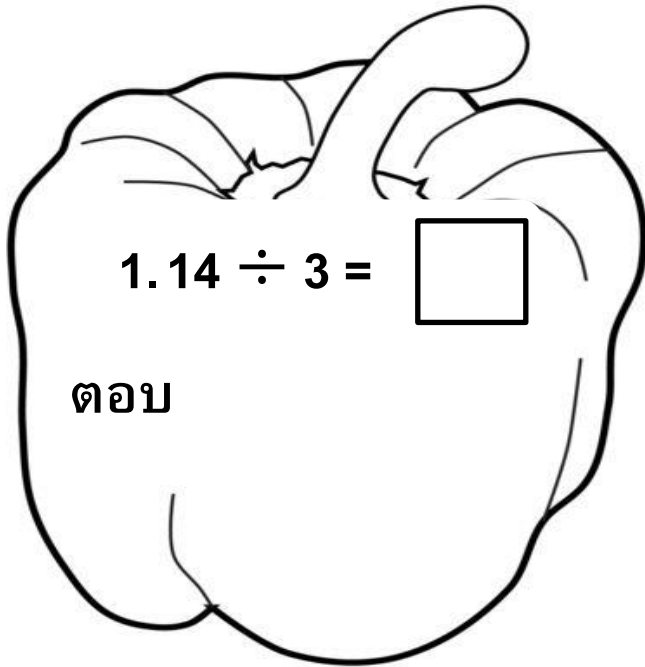
$$25 \div 6 = \boxed{}$$

$$25 \div 7 = \boxed{}$$

ชื่อ.....เลขที่.....

ใบงานที่ 7 เรื่อง การหาผลหารและเศษ

หาผลหารและเศษแล้วระบายสีให้สวยงาม



ใบงานที่ 8 เรื่อง การหาผลหารและเศษ

1. $12 \div 3 =$

ตอบ

2. $23 \div 7 =$

ตอบ

3. $21 \div 5 =$

ตอบ

4. $13 \div 4 =$

ตอบ

5. $32 \div 7 =$

ตอบ

6. $21 \div 5 =$

ตอบ

7. $47 \div 5 =$

ตอบ

8. $27 \div 5 =$

ตอบ

ชื่อ.....

เลขที่.....

ใบงานที่ 9 เรื่อง การหารลงตัวและการหารไม่ลงตัว
เขียนประโยคสัญลักษณ์การหารหรือเขียนในรูปการหารและหาคำตอบ

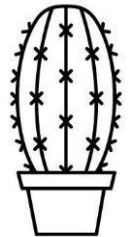
1. จัดลูกฟุตบอล 16 ลูก เป็นกลุ่ม กลุ่มละ 3 ลูก ได้กี่กลุ่มและเหลือลูกฟุตบอลกี่ลูก
ประโยคสัญลักษณ์การหาร




2. จัดรังนก 19 รัง เป็นกลุ่ม กลุ่มละ 4 อัน ได้กี่กลุ่ม และเหลือรังนกกี่รัง
ประโยคสัญลักษณ์การหาร



3. จัดต้นไม้ 17 ต้น เป็น 4 กลุ่ม กลุ่มละเท่า ๆ กัน ได้กลุ่มละกี่ต้นและเหลือต้นไม้กี่ต้น
ประโยคสัญลักษณ์การหาร



4. จัดสตอเบอร์รี่ 25 ลูก เป็น 2 กลุ่ม กลุ่มละเท่า ๆ กัน ได้กลุ่มละกี่อันและเหลือตัวอัน
ประโยคสัญลักษณ์การหาร



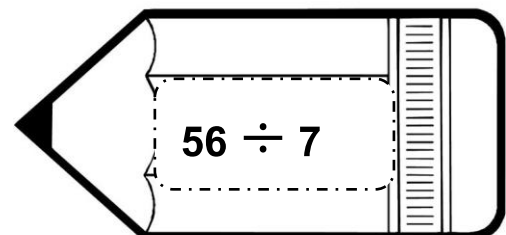

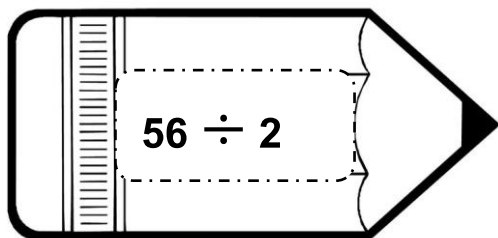
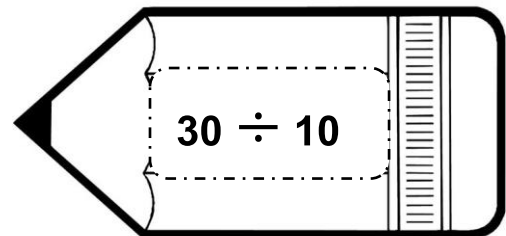

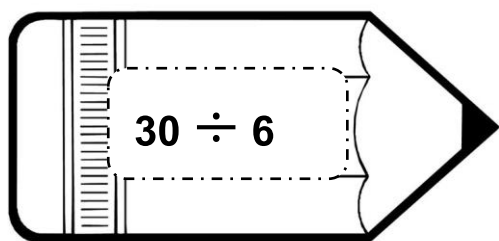
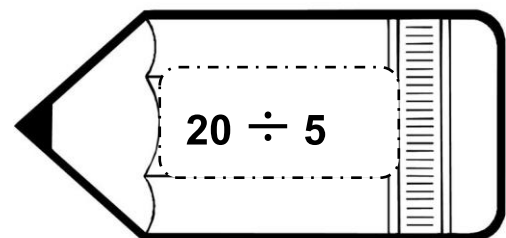

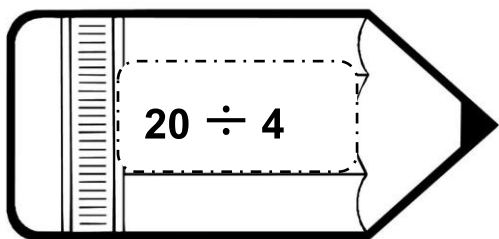
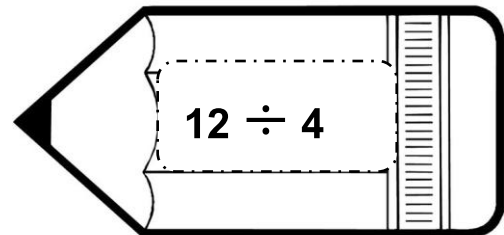

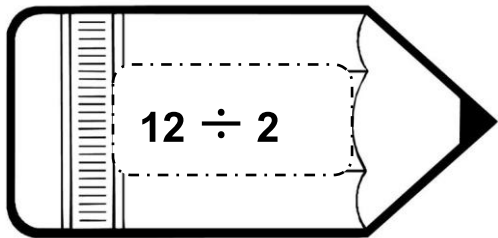
5. จัดตะกร้า 27 อัน เป็นกลุ่ม กลุ่มละ 5 อัน ได้กี่กลุ่ม เหลือตัวนับกี่อัน
ประโยคสัญลักษณ์การหาร



ชื่อ

เลขที่

ใบงานที่ 10 เรื่อง การพัฒนาความรู้สึกเชิงจำนวนเกี่ยวกับการหาร
เติมเครื่องหมาย > หรือ <



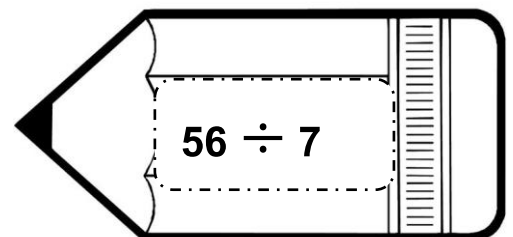
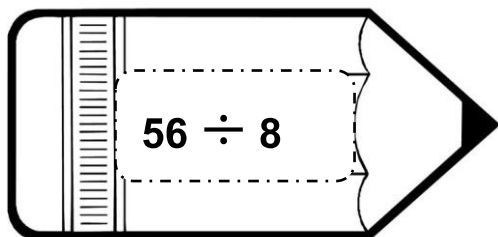
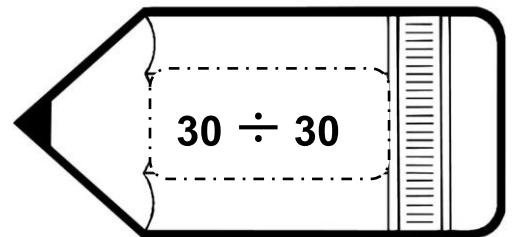
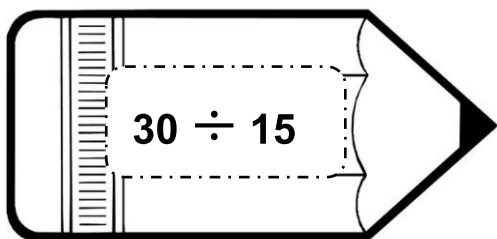
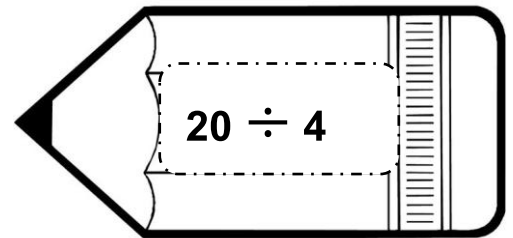
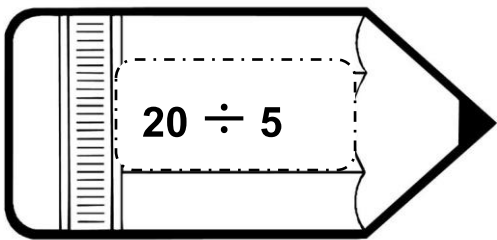
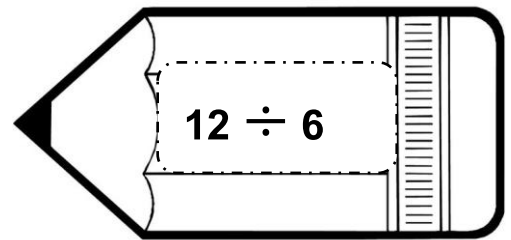
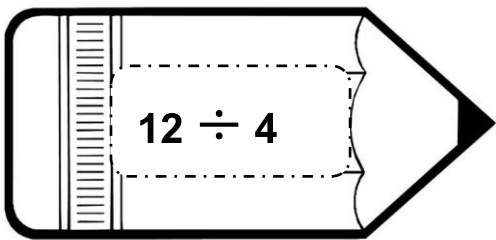
ชื่อ.....

เลขที่.....

ใบงานที่ 11 เรื่อง การพัฒนาความรู้สึกรับผิดชอบเกี่ยวกับการหาร
คำชี้แจง : เติมเครื่องหมาย > หรือ < ใน

$8 \div 4$

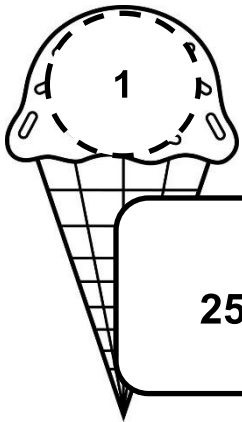
$8 \div 2$



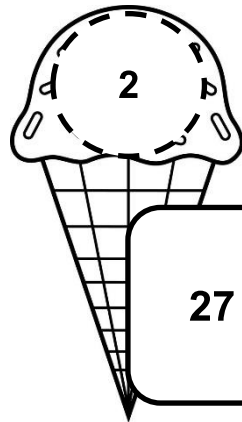
ชื่อ.....

เลขที่.....

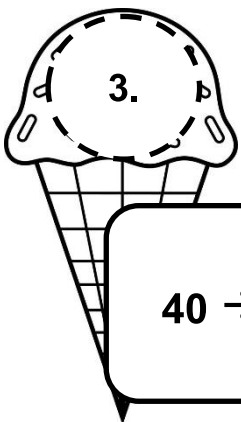
ใบงานที่ 12 เรื่อง หาค่าของตัวไม่ทราบค่าในประโยคสัญลักษณ์การหาร
คำชี้แจง : หาคำอาหาร




$$25 \div \square = 5$$



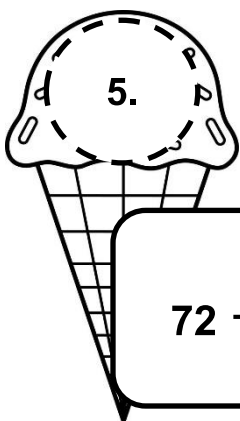
$$27 \div \square = 9$$



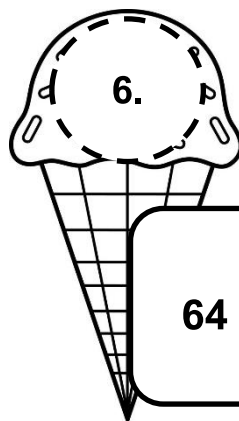
$$40 \div \square = 5$$



$$36 \div \square = 6$$



$$72 \div \square = 9$$



$$64 \div \square = 8$$

ชื่อ

เลขที่

ใบงานที่ 13 เรื่อง โจทย์ปัญหาการหาร (1)

เขียนประโยคสัญลักษณ์ และหาคำตอบ



1. แม่มีขนมเค้ก 49 ชิ้น จัดใส่ถุง ถุงละ 9 ชิ้น แม่จัดขนมเค้กได้กี่ถุง และเหลือขนมเค้กกี่ชิ้น




ประโยคสัญลักษณ์

ตอบ



2. แม่มีสับปะรด 41 ผล จัดใส่กล่อง กล่องละ 5 ผล จะต้องใช้กล่องกี่กล่อง และเหลือสับปะรดกี่ผล



ประโยคสัญลักษณ์

ตอบ



3. พ่อมีไข่ไก่ 37 ฟอง จัดใส่ตะกร้า 7 ใบ ใบละเท่า ๆ กัน ตะกร้าแต่ละใบมีไข่ไก่กี่ฟอง และเหลือไข่ไก่กี่ฟอง



ประโยคสัญลักษณ์

ตอบ

ชื่อ.....เลขที่.....


ใบงานที่ 14 เรื่อง โจทย์ปัญหาการหาร (1)

เขียนประโยคสัญลักษณ์ และหาคำตอบ

1. หนูขาวซื้อขนมชนิดเดียวกันและราคาเท่ากันจำนวน 7 ชิ้น จ่ายเงิน 49 บาท ขนมราคาชิ้นละกี่บาท

ประโยคสัญลักษณ์


ตอบ



2. นักเรียน 5 คน จ่ายเงินคนละเท่า ๆ กัน เพื่อซื้อน้ำอัดลมราคา 25 บาท นักเรียนต้องจ่ายเงินคนละกี่บาท

ประโยคสัญลักษณ์


ตอบ



3. พ้าไสมีขนมใส่ไส้ 36 ห่อ จัดทำเป็นมัด 6 มัด มัดละเท่า ๆ กัน พ้าไสจะได้ขนมใส่ไส้มัดละกี่ห่อ

ประโยคสัญลักษณ์

ตอบ



ชื่อ.....

เลขที่.....


ใบงานที่ 15 เรื่อง โจทย์ปัญหาการหาร

เขียนประโยคสัญลักษณ์ และหาคำตอบ

2. หนูขาวซื้อขนมชนิดเดียวกันและราคาเท่ากันจำนวน 8 ชิ้น จ่ายเงิน 64 บาท ขนมราคาชิ้นละกี่บาท

ประโยคสัญลักษณ์


ตอบ



2. นักเรียน 6 คน จ่ายเงินคนละเท่า ๆ กัน เพื่อซื้อน้ำอัดลมราคา 30 บาท นักเรียนต้องจ่ายเงินคนละกี่บาท

ประโยคสัญลักษณ์


ตอบ



3. ฟ้ายามีขนมใส่ไส้ 25 ห่อ จัดทำเป็นมัด 5 มัด มัดละเท่า ๆ กัน ฟ้ายาจะได้ขนมใส่ไส้มัดละกี่ห่อ

ประโยคสัญลักษณ์

ตอบ




ชื่อ.....

เลขที่.....

ใบงานที่ 16 เรื่อง โจทย์ปัญหาการหาร


คำชี้แจง : เขียนประโยคสัญลักษณ์และหาคำตอบ



1. แม่มีส้ม 15 ลูก ต้องการแบ่งให้ หนูดี หนูนา และหนูขาว
คนละเท่า ๆ กัน จะได้ส้มคนละกี่ผล

ประโยคสัญลักษณ์


ตอบ



2. เด็ก 7 คน จ่ายเงินคนละเท่า ๆ กัน เพื่อซื้อขนมราคา 49 บาท
เด็กต้องจ่ายเงินคนละกี่บาท

ประโยคสัญลักษณ์

ตอบ



3. แม่มีผักทอง 35 ลูก จัดใส่กล่อง กล่องละ 5 ลูก แม่จะจัดผักทองใส่กล่อง
กล่องละได้กี่ลูก

ประโยคสัญลักษณ์


ตอบ

ชื่อ.....

เลขที่.....

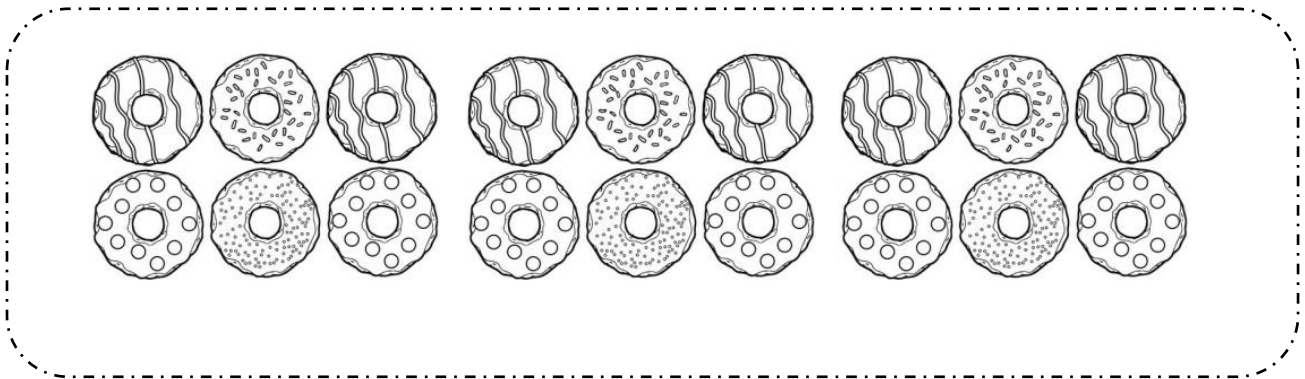
ใบงานที่ 17 เรื่อง การสร้างโจทย์ปัญหาการหารจากภาพ

เขียนประโยคสัญลักษณ์การหารจากภาพ และหาคำตอบ



1. ประโยคสัญลักษณ์

ตอบ




2. ประโยคสัญลักษณ์

ตอบ


ชื่อ

เลขที่

ใบงานที่ 18 เรื่อง การสร้างโจทย์ปัญหาการหารจากประโยคสัญลักษณ์
เขียนประโยคสัญลักษณ์การหารจากประโยคสัญลักษณ์ และหาคำตอบ



Blank writing area with horizontal dashed lines for the answer.



Blank writing area with horizontal dashed lines for the answer.