

ใบงานที่ 3 เรื่อง การวัดน้ำหนักเป็นกิโลกรัมและขีด
อ่านน้ำหนักจากเครื่องชั่งน้ำหนักตัว



1. น้ำหนัก

กิโลกรัม



2. น้ำหนัก

กิโลกรัม

ขีด

ชื่อ.....เลขที่.....

บงานที่ 4 เรื่อง การวัดน้ำหนักเป็นกรัม

อ่านน้ำหนักของสิ่งของเป็นกรัม




ต้นหอมหนัก

กรัม



ผักชีหนัก

กรัม



ผักกาดขาวหนัก

กรัม

ชื่อ


เลขที่

ใบงานที่ 6 เรื่อง ความสัมพันธ์ของหน่วยน้ำหนัก

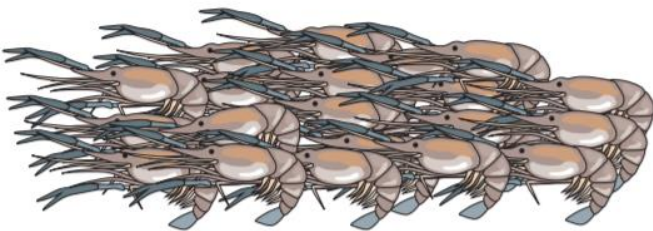
ตอบคำถาม



1. หอมหัวใหญ่หนัก 1,000 กรัม เท่ากับหอมหัวใหญ่หนักกี่ขีด



2. กระเทียมหนัก 24 ขีด เท่ากับกระเทียมหนักกี่กิโลกรัมกี่ขีด



3. กุ้งหนัก 5 กิโลกรัม 500 กรัม เท่ากับกุ้งหนักกี่ขีด

ชื่อ.....เลขที่.....

ใบงานที่ 7 เรื่อง การเปรียบเทียบน้ำหนัก (1)

คำชี้แจง : ข้อ 1 – 2 สิ่งใดหนักกว่า

1.



เนื้อปลาหนัก 1 กิโลกรัม 200 กรัม

ตอบ



เนื้อหมูหนัก 2 กิโลกรัม 400 กรัม

2.



แตงโมหนัก 3 กิโลกรัม 7 ชีด

ตอบ



ทุเรียนหนัก 4 กิโลกรัม 5 ชีด

คำชี้แจง : ข้อ 3 – 4 สิ่งใดเบากว่า

3.



ปูหนัก 3 กิโลกรัม 400 กรัม

ตอบ



ปูหนัก 3 กิโลกรัม 300 กรัม

4.



กล้วยหนัก 2 กิโลกรัม 300

ตอบ



สัปปะรดหนัก 2 กิโลกรัม 400 กรัม

ชื่อ.....เลขที่.....

ใบงานที่ 8 เรื่อง การเปรียบเทียบน้ำหนัก

บอกว่าสิ่งใดหนักกว่า



แ่งสาลีหนัก 2 กิโลกรัม 400 กรัม

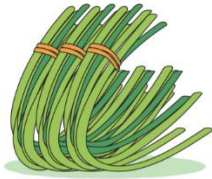
กับ



ข้าวสารหนัก 4 กิโลกรัม 3 ชีด

ตอบ

สิ่งใดเบากว่า



ถั่วฝักยาวหนัก 3 กิโลกรัม 4 ชีด

กับ



คะน้าหนัก 3 กิโลกรัม 200 กรัม

ตอบ

ชื่อ

เลขที่

ใบงานที่ 9 เรื่อง การบวกและการลบเกี่ยวกับน้ำหนัก (1)

แสดงวิธีหาคำตอบ

1. 4 กิโลกรัม 200 กรัม รวมกับ 5 กิโลกรัม 800 กรัม เท่ากับเท่าไร

วิธีทำ

| กิโลกรัม | | กรัม |
|----------|--|------|
| | | |
| | | |
| | | |
| | | |
| | | |

ตอบ

2. 4 กิโลกรัม 300 กรัม น้อยกว่า 7 กิโลกรัม อยู่เท่าไร

วิธีทำ

| กิโลกรัม | | กรัม |
|----------|--|------|
| | | |
| | | |
| | | |
| | | |
| | | |

ตอบ

ชื่อ

เลขที่

ใบงานที่ 10 เรื่อง การบวกและการลบเกี่ยวกับน้ำหนัก (2) 2

แสดงวิธีหาคำตอบ

1. 7 กิโลกรัม 150 กรัม รวมกับ 550 กรัม เท่ากับเท่าไร

วิธีทำ

| กิโลกรัม | | กรัม |
|----------|--|------|
| | | |
| | | |
| | | |
| | | |
| | | |

ตอบ

2. 6 กิโลกรัม มากกว่า 4 กิโลกรัมครึ่ง อยู่เท่าไร

วิธีทำ

| กิโลกรัม | | กรัม |
|----------|--|------|
| | | |
| | | |
| | | |
| | | |
| | | |

ตอบ

ชื่อ

เลขที่

ใบงานที่ 11 เรื่อง การบวกและการลบเกี่ยวกับน้ำหนัก

เขียนแสดงวิธีหาคำตอบ

1.14 กิโลกรัม 150 กรัม รวมกับ 12 กิโลกรัม 840 กรัม เท่ากับเท่าไร

.....

.....

.....

.....

.....

.....

2.25 กิโลกรัม มากกว่า 2 กิโลกรัม 500 กรัม อยู่เท่าไร

.....

.....

.....

.....

.....

.....

3.3 กิโลกรัม 700 กรัม รวมกับ 5 กิโลกรัม 200 กรัม เท่ากับเท่าไร

.....

.....

.....

.....

.....

.....

ชื่อ..... เลขที่.....

ใบงานที่ 12 เรื่อง การบวกและการลบเกี่ยวกับน้ำหนัก

เขียนแสดงวิธีหาคำตอบ

1. 1 กิโลกรัม 100 กรัม น้อยกว่า 3 กิโลกรัม อยู่เท่าไร

.....

.....

.....

.....

.....

2. 8 กิโลกรัม มากกว่า 2 กิโลกรัมครึ่ง อยู่เท่าไร

.....

.....

.....

.....

.....

3. 4 กิโลกรัม 800 กรัม รวมกับ 6 กิโลกรัม 200 กรัม เท่ากับเท่าไร

.....

.....

.....

.....

.....

ชื่อ..... เลขที่.....

ใบงานที่ 13 เรื่อง โจทย์ปัญหาการบวกและโจทย์ปัญหาการลบ

แสดงวิธีหาคำตอบ

1. ปลานิลหนัก 3 กิโลกรัม 4 ชีด ปลาตะเพียนหนัก 1 กิโลกรัม 8 ชีด ปลานิลหนักกว่าปลาตะเพียนกี่กิโลกรัม กี่ชีด



วิธีทำ

.....
.....
.....

| กิโลกรัม | | ชีด |
|----------|--|-----|
| | | |
| | | |
| | | |
| | | |

ตอบ

.....

3. ในถุงมีแอปเปิ้ล 4 กิโลกรัม 8 ชีด ฟ้าใส่หยิบแอปเปิ้ลใส่ถุงเพิ่มอีก 7 ชีด แอปเปิ้ลในถุงหนักกี่กิโลกรัม กี่ชีด



วิธีทำ

.....
.....
.....

| กิโลกรัม | | ชีด |
|----------|--|-----|
| | | |
| | | |
| | | |
| | | |

ตอบ

.....

ชื่อ

.....

เลขที่

ใบงานที่ 14 เรื่อง โจทย์ปัญหาการบวกและโจทย์ปัญหาการลบ

เขียนแสดงวิธีหาคำตอบ

1. แก้วตาซื้อส้ม 1 กิโลกรัม 8 ชีด และ ชมพู่ 1 กิโลกรัม 4 ชีด แก้วตาซื้อส้มและชมพู่ทั้งหมดกี่ กิโลกรัม กี่ชีด

| |
|-------|
| |
| |
| |
| |
| |
| |

2. ชาวประมงจับปลาได้ 24 กิโลกรัม 4 ชีด นำไปขายที่ตลาด เหลือปลา 18 กิโลกรัม 6 ชีด ชาวประมงขายปลาไปกี่กิโลกรัม กี่ชีด

| |
|-------|
| |
| |
| |
| |
| |
| |

ชื่อ.....เลขที่.....

ใบงานที่ 15 เรื่อง โจทย์ปัญหาการบวกและโจทย์ปัญหาการลบ (1) 2

แสดงวิธีหาคำตอบ

1. พ่อมีมะม่วง 10 กิโลกรัม 8 ชีด แบ่งให้ป้าแล้วเหลือมะม่วง 5 กิโลกรัม 5 ชีด พ่อแบ่งมะม่วงให้ป้ากี่กิโลกรัม กี่ชีด



วิธีทำ

.....
.....
.....

| กิโลกรัม | | ชีด |
|----------|--|-----|
| | | |
| | | |
| | | |

ตอบ

.....

2. พ่อซื้อข้าว 5 กิโลกรัม 4 ชีด ลุงซื้อข้าว 2 กิโลกรัม 8 ชีด ลุงซื้อข้าวน้อยกว่าพ่อกี่กิโลกรัม กี่ชีด

วิธีทำ

.....
.....
.....

| กิโลกรัม | | ชีด |
|----------|--|-----|
| | | |
| | | |
| | | |

ตอบ

.....



ชื่อ

.....

เลขที่

ใบงานที่ 16 เรื่อง โจทย์ปัญหาการบวกและโจทย์ปัญหาการลบ


เขียนแสดงวิธีหาคำตอบ

- แม่ซื้อทุเรียน 2 ผล ผลแรกหนัก 2 กิโลกรัม 150 กรัม ผลที่สองหนัก 2 กิโลกรัม 350 กรัม ทุเรียนสองผลหนักรวมกันเป็นกี่กิโลกรัม กี่กรัม

| |
|-------|
| |
| |
| |
| |
| |
| |
| |

- แม่มีข้าวสาร 500 กรัม ต้องซื้อมาเพิ่มอีกกี่กิโลกรัม กี่กรัม แม่จึงจะมีข้าวสาร 5 กิโลกรัม

| |
|-------|
| |
| |
| |
| |
| |
| |
| |



ชื่อ.....

เลขที่.....