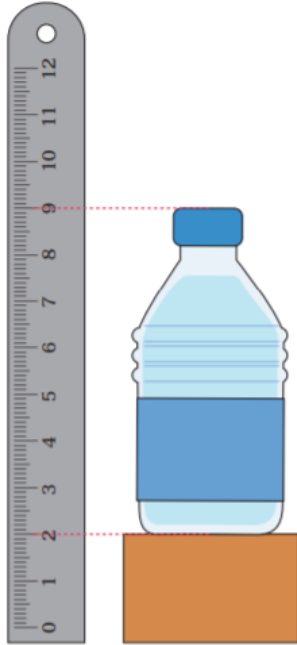


ใบงานที่ 2 เรื่อง การแก้ปัญหาการวัดความยาวเป็นเซนติเมตร
บอกความสูงหรือความยาวของสิ่งต่อไปนี้

1. ขวดน้ำสูงกี่เซนติเมตร

.....



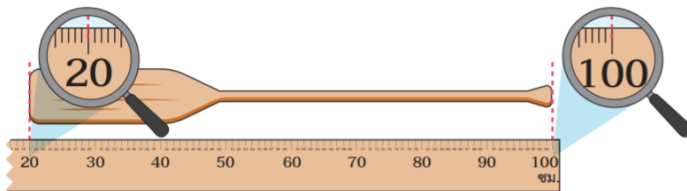
2. กล่องนมสูงกี่เซนติเมตร

.....



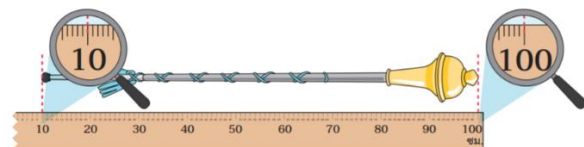
3. ไม้พายยาวกี่เซนติเมตร

.....

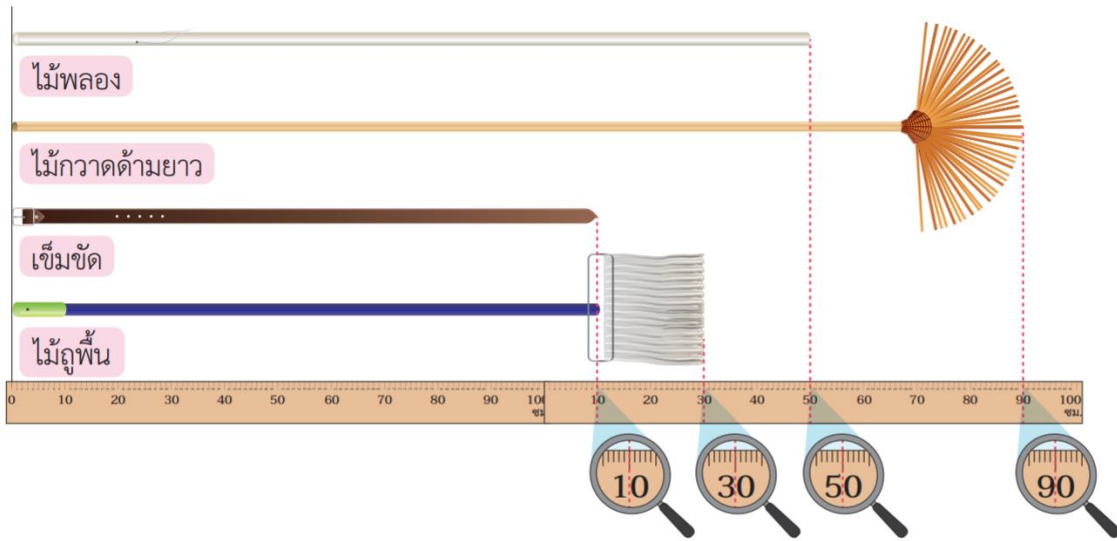


4. ไม้คทวยาวกี่เซนติเมตร

.....



ใบงานที่ 3 เรื่อง การวัดความยาวเป็นเมตรและเซนติเมตร



บอกความยาวของสิ่งต่อไปนี้

1. เข็มขัด ยาว.....เมตร.....เซนติเมตร

2. ไม้ถูพื้น ยาว.....เมตร.....เซนติเมตร

3. ไม้กวาดด้ามยาว ยาว.....เมตร.....เซนติเมตร

4. ไม้พลอง ยาว.....เมตร.....เซนติเมตร

ชื่อ.....เลขที่.....

ใบงานที่ 4 เรื่อง ความสัมพันธ์ระหว่างเมตรกับเซนติเมตร

บอกความยาวที่เท่ากับความยาวที่กำหนดให้

1. 240 เซนติเมตร เท่ากับกี่เมตร กี่เซนติเมตร

.....
.....
.....
.....

2. 330 เซนติเมตร เท่ากับกี่เมตร กี่เซนติเมตร

.....
.....
.....
.....

3. 8 เมตร 4 เซนติเมตร เท่ากับกี่เซนติเมตร

.....
.....
.....
.....

4. 8 เมตร 50 เซนติเมตร เท่ากับกี่เซนติเมตร

.....
.....
.....
.....

ใบงานที่ 5 เรื่อง การคาดคะเนความยาวเป็นเมตร

ปฏิบัติกิจกรรมดังต่อไปนี้

1. โต้ะเรียน

	คาดคะเน	วัดจริง	ความคลาดเคลื่อน
ความกว้าง			
ความยาว			

2. โต้ะครู

	คาดคะเน	วัดจริง	ความคลาดเคลื่อน
ความกว้าง			
ความยาว			

3. แก้อี

	คาดคะเน	วัดจริง	ความคลาดเคลื่อน
ความกว้าง			
ความยาว			

4. กระดาน

	คาดคะเน	วัดจริง	ความคลาดเคลื่อน
ความกว้าง			
ความยาว			

ชื่อ.....เลขที่.....

ใบงานที่ 6 เรื่อง การเปรียบเทียบความยาว (2)

คำชี้แจง : สิ่งใดยาวกว่า

1. เชือกเส้นที่ 1 ยาว 415 ซม. กับ เชือกเส้นที่ 2 ยาว 405 ซม.

ตอบ

2. ลวดเส้นที่ 1 ยาว 6 ม. 50 ซม. กับ ลวดเส้นที่ 2 ยาว 6 ม. 60 ซม.

ตอบ

คำชี้แจง : สูงไดยาวกว่า

3. ต้นมะม่วงต้นที่ 1 สูง 8 ม. 40 ซม. กับ ต้นมะม่วงต้นที่ 2 สูง 8 ม. 50 ม.

ตอบ

4. ต้นมะพร้าวต้นที่ 1 สูง 8 ม. 20 ซม. กับ ต้นมะพร้าวต้นที่ 2 สูง 8 ม. 10

ซม.

ตอบ

ชื่อ

เลขที่

ใบงานที่ 7 เรื่อง การเปรียบเทียบความยาว (2) 2

คำชี้แจง : สิ่งใดยาวกว่า

1. ไม้ไผ่ยาว 440 ซม. กับ ไม้อัด ยาว 4 ม. 20 ซม.

ตอบ

2. เหล็กยาว 5 ม. 30 ซม. กับ ลวดยาว 640 ซม.

ตอบ

คำชี้แจง : สูงไดยาวกว่า

3. เสาไฟฟ้าต้นที่ 1 สูง 830 ซม. กับ ดึกหลังหนึ่ง สูง 60 ม.

ตอบ

4. หอระฆังสูง 990 ซม. กับ อาคารโรงเรียนสูง 9 เมตร

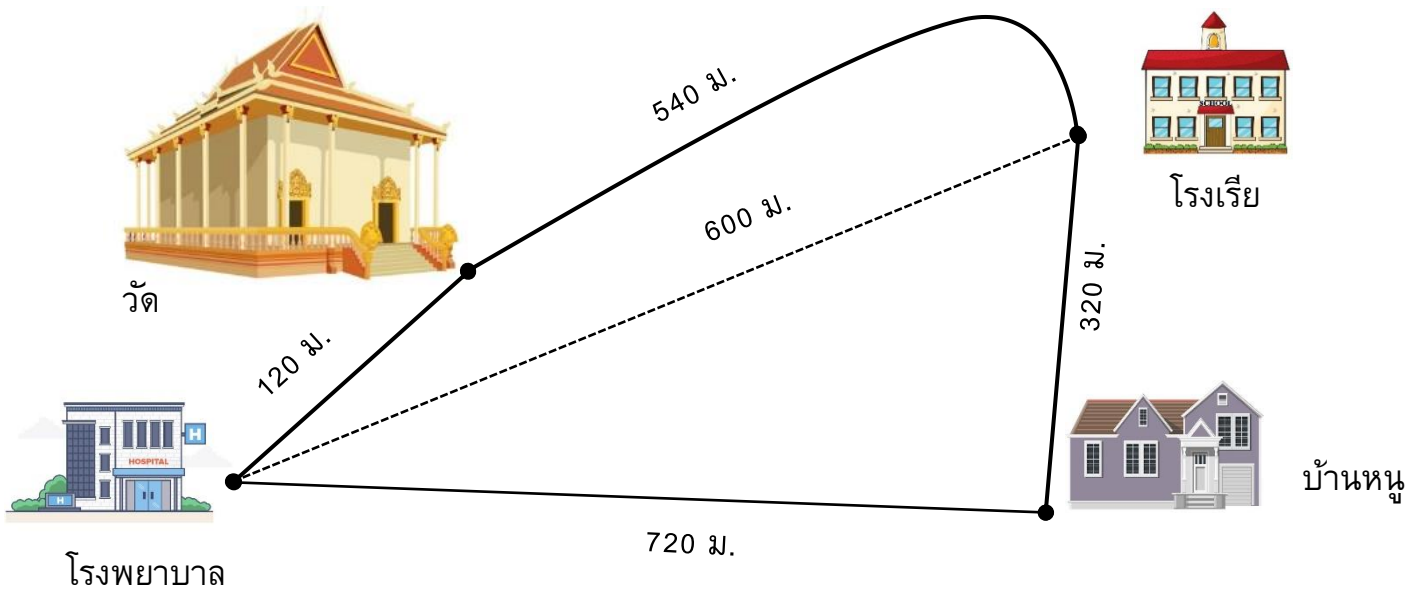
ตอบ

ชื่อ

เลขที่

ใบงานที่ 8 เรื่อง การเปรียบเทียบระยะทาง

ตอบคำถาม



1. ระยะห่างจากโรงพยาบาลกับโรงเรียนเป็นกี่เมตร

ตอบ

2. หนูขาเดินจากบ้านไปวัดโดยผ่านโรงเรียนจะเดินเป็นระยะทางเท่าไร

ตอบ

3. พระรูปหนึ่งเดินไปบ้านหนูขาโดยผ่านโรงพยาบาลจะเดินเป็นระยะทางเท่าไร

ตอบ

4. ระยะทางจากโรงพยาบาลไปโรงเรียนโดยผ่านบ้านหนูขา กับ ระยะทางจาก
โรงพยาบาลไปโรงเรียนโดยผ่านวัด ระยะทางใดยาวกว่า

ตอบ

ชื่อ..... เลขที่.....

ใบงานที่ 9 เรื่อง การบวกและการลบเกี่ยวกับความยาว

แสดงวิธีหาคำตอบ

1. 2 เมตร 74 เซนติเมตร รวมกับ 4 เมตร 80 เซนติเมตร เท่ากับเท่าไร

Blank area for solving problem 1, featuring a rounded rectangular box with horizontal dashed lines for writing.

2. 756 เซนติเมตร รวมกับ 6 เมตร 15 เซนติเมตร เท่ากับเท่าไร

Blank area for solving problem 2, featuring a rounded rectangular box with horizontal dashed lines for writing.

ชื่อ.....

เลขที่.....

ใบงานที่ 10 เรื่อง การบวกและการลบเกี่ยวกับความยาว

แสดงวิธีหาคำตอบ

1. 4 เมตร 35 เซนติเมตร รวมกับ 15 เมตร 80 เซนติเมตร เท่ากับเท่าไร

Blank area for solving problem 1, containing horizontal dashed lines for writing the answer.

2. 53 เมตร 6 เซนติเมตร น้อยกว่า 72 เมตร อยู่เท่าไร

Blank area for solving problem 2, containing horizontal dashed lines for writing the answer.

ชื่อ

เลขที่

ใบงานที่ 11 เรื่อง โจทย์ปัญหาการบวกและโจทย์ปัญหาการลบ

แสดงวิธีหาคำตอบ

1. ไม้หนึ่งยาว 2 เมตร 75 เซนติเมตร ตัดอีกไม้หนึ่งยาว 80 เซนติเมตรนำมาวางต่อกันจะยาว

.....

.....

.....

.....

.....

.....

2. แก้วตาเดินจากบ้านแวะซื้ออาหารที่รถขายอาหารแล้วเดินต่อไปที่โรงเรียนแก้วตาเดินเป็นระยะทางเท่าไร



175 ม.



220 ม. 50 ซม.



.....

.....

.....

.....

.....

.....

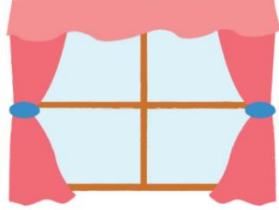
ชื่อ.....

เลขที่.....

ใบงานที่ 12 เรื่อง โจทย์ปัญหาการบวกและโจทย์ปัญหาการลบ

แสดงวิธีหาคำตอบ

1. แม่ซื้อผ้า 9 เมตร ตัดไปทำผ้าผืน 4 เมตร 50 เซนติเมตร แม่เหลือผ้าอยู่เท่าไร



A large rounded rectangular area containing ten horizontal dashed lines for writing the solution to the problem.

ชื่อ.....

เลขที่.....

ใบงานที่ 13 เรื่อง โจทย์ปัญหาการบวกและโจทย์ปัญหาการลบ

แสดงวิธีหาคำตอบ

1. พ่อสูง 1 เมตร 70 เซนติเมตร พ่อสูงกว่าแม่ 15 เซนติเมตร แม่สูงเท่าไร

.....

.....

.....

.....

.....

.....

.....

.....

2. ไม้ท่อนแรกยาว 300 เซนติเมตร ไม้ท่อนแรกสั้นกว่าไม้ท่อนที่สอง 1 เมตร 21 เซนติเมตร ไม้ท่อนที่สองยาวเท่าไร

.....

.....

.....

.....

.....

.....

.....

.....

ชื่อ

เลขที่

ใบงานที่ 14 เรื่อง โจทย์ปัญหาการบวกและโจทย์ปัญหาการลบ

แสดงวิธีหาคำตอบ

1. รับบิ้นสีแดงยาว 4 เมตร 15 เซนติเมตร รับบิ้นสีแดงยาวน้อยกว่ารับบิ้น สีเขียว 1 เมตร 90 เซนติเมตร รับบิ้นสีเขียวยาวเท่าไร

.....

.....

.....

.....

.....

.....

.....

.....

2. แก้วตามีเชือกฟางอยู่ม้วนหนึ่ง หลังจากใช้ทำพู่เซียวรักก็พาไป 84 เมตร 70 เซนติเมตร ยังเหลือเชือกฟางอยู่ 15 เมตร 30 เซนติเมตรเดิมเชือกฟางม้วนนี้ยาวเท่าไร

.....

.....

.....

.....

.....

.....

.....

ชื่อ

เลขที่