

ใบงานที่ 1 การเตรียมความพร้อม

ในการจัดงานปีใหม่ของนักเรียนชั้นประถมศึกษาปีที่ 2 มีผลไม้ต่างๆ ดังนี้

แอปเปิล	25	ผล	มะม่วง	13	ผล
เงาะ	40	ผล	ฝรั่ง	14	ผล
ส้มโอ	6	ผล	ชมพู	32	ผล
แตงโม	5	ผล	สับปะรด	4	ผล



เติมตัวเลขแสดงจำนวน

จำนวนแอปเปิลและมะม่วงรวมกันได้ 25 ผล

แก้วตาต้องนำแตงโมมาเพิ่มอีก ผล จึงจะเท่ากับจำนวนฝรั่ง

เงาะกับชมพูมีจำนวนต่างกัน ผล

สมชายและเพื่อนกินชมพูไป ผล ทำให้มีชมพูเหลืออยู่ 25 ผล

จำนวนสับปะรดส้มโอ และ ฝรั่ง รวมกันได้ ผล

ชื่อ.....

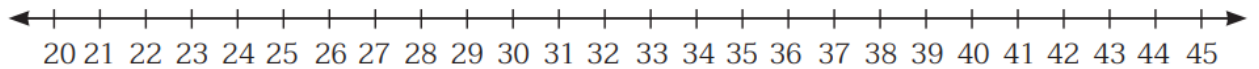
เลขที่.....

ใบงานที่ 2 เรื่อง การหาผลบวกโดยใช้เส้นจำนวน

แสดงวิธีหาผลบวกโดยใช้เส้นจำนวน

1.

$$24 + 53 = \square$$

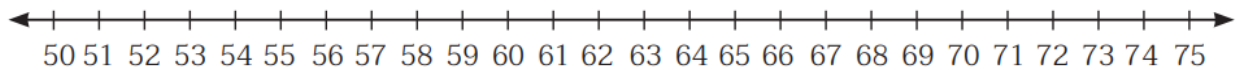


เริ่มจาก 23 แล้วต่อไปอีก

ดังนั้น

2.

$$51 + 21 = \square$$



เริ่มจาก 52 แล้วต่อไปอีก

ดังนั้น

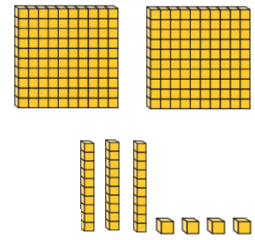
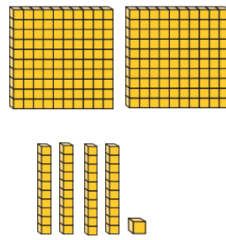
ชื่อ.....เลขที่.....

ใบงานที่ 3 เรื่อง การหาผลบวกโดยใช้แผ่นตารางร้อย แผ่นตารางสิบ แผ่นตารางหน่วย

คำชี้แจง : หาผลบวก

1.

$$241 + 235$$



ตอบ

2.

$$182 + 114$$



ตอบ

3.

$$544 + 200$$



ตอบ

4.

$$451 + 400$$



ตอบ

ใบงานที่ 4 เรื่อง การหาผลบวกโดยการตั้งบวกไม่มีการทด

แสดงวิธีหาผลบวก

$1.103 + 253 = \square$

วิธีทำ

+

ตอบ

$2.511 + 138 = \square$

วิธีทำ

+

ตอบ

$3.323 + 142 = \square$

วิธีทำ

+

ตอบ

$4.103 + 244 = \square$

วิธีทำ

+

ตอบ ๔๓๗

ชื่อ.....เลขที่.....

ใบงานที่ 5 เรื่อง การหาผลบวกโดยการตั้งบวกมีการทด (1)

แสดงวิธีหาผลบวก

$1.105 + 235 = \square$

วิธีทำ

+

ตอบ

$1.554 + 238 = \square$

วิธีทำ

+

ตอบ

$3.188 + 371 = \square$

วิธีทำ

+

ตอบ

$4.553 + 395 = \square$

วิธีทำ

+

ตอบ

ชื่อ.....เลขที่.....

ใบงานที่ 6 เรื่อง การหาผลบวกโดยการตั้งบวกมีการทด (2)

แสดงวิธีหาผลบวก

$1.377 + 234 = \square$

วิธีทำ

+

ตอบ

$2.695 + 138 = \square$

วิธีทำ

+

ตอบ

$3.379 + 148 = \square$

วิธีทำ

+

ตอบ

$4.919 + 99 = \square$

วิธีทำ

+

ตอบ

ชื่อ.....เลขที่.....

ใบงานที่ 7 เรื่อง การหาผลบวกของจำนวนสามจำนวน (1)

หาผลบวก

$$1.698 + 18 + 185 = \square$$

ตอบ

$$2.174 + 18 + 148 = \square$$

ตอบ

$$3.67 + 134 + 59 = \square$$

ตอบ

$$4.501 + 99 + 100 = \square$$

ตอบ

$$5.604 + 96 + 58 = \square$$

ตอบ

$$6.345 + 225 + 125 = \square$$

ตอบ

$$7.300 + 190 + 600 = \square$$

ตอบ

$$8.815 + 106 + 85 = \square$$

ตอบ

ชื่อ.....เลขที่.....

ใบงานที่ 8 เรื่อง การหาผลบวกของจำนวนสามจำนวน (2)

แสดงวิธีหาผลบวก

$1.178 + 29 + 689 = \square$

วิธีทำ

+

=====

ตอบ

$2.423 + 28 + 347 = \square$

วิธีทำ

+

=====

ตอบ

$3.458 + 47 + 376 = \square$

วิธีทำ

+

=====

ตอบ

$4.745 + 179 + 69 = \square$

วิธีทำ

+

=====

ตอบ

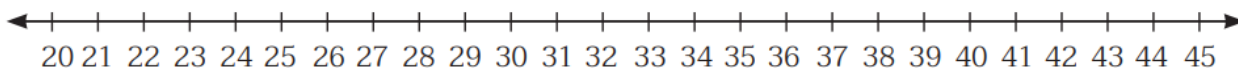
ชื่อ.....เลขที่.....

ใบงานที่ 9 เรื่อง การหาผลลบโดยใช้เส้นจำนวน

แสดงวิธีหาผลลบโดยใช้เส้นจำนวน

1.

$$44 - 10 = \square$$

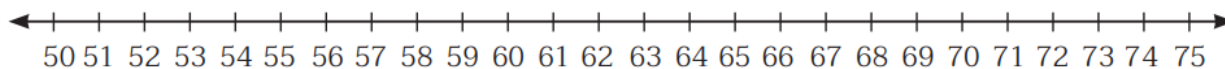


เริ่มจาก 45 ถอยไป

ดังนั้น

2.

$$72 - 13 = \square$$

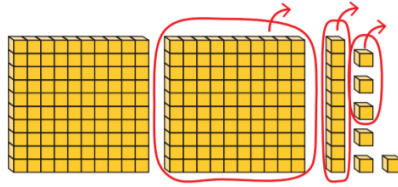


เริ่มจาก 75 แล้วต่อไปอีก

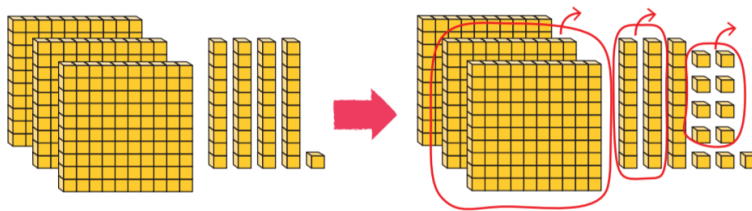
ดังนั้น

ชื่อ เลขที่

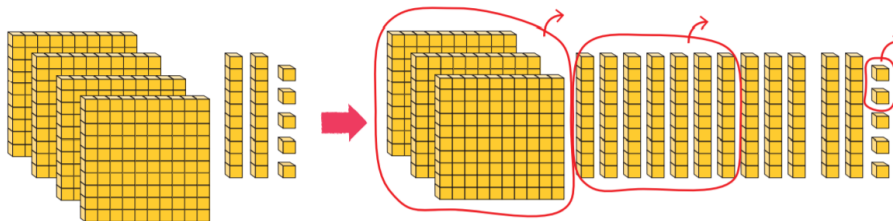
ใบงานที่ 10 เรื่อง การหาผลลบโดยแผ่นตารางร้อย แผ่นตารางสิบ และแผ่นตารางหน่วย
หาผลลบ



$$219 - 113 = \square$$



$$341 - 228 = \square$$



$$425 - 372 = \square$$

ใบงานที่ 12 เรื่อง การหาผลลบโดยการตั้งลบไม่มีการกระจาย

แสดงวิธีหาผลลบ

$$1.263 - 207 = \square$$

วิธีทำ

_____ -

ตอบ

$$2.823 - 140 = \square$$

วิธีทำ

_____ -

ตอบ

$$3.853 - 140 = \square$$

วิธีทำ

_____ -

ตอบ

$$4.852 - 140 = \square$$

วิธีทำ

_____ -

ตอบ

ชื่อ.....เลขที่.....

ใบงานที่ 13 เรื่อง การหาผลลบโดยการตั้งลบที่มีการกระจาย (1)

แสดงวิธีหาผลลบ

$$1.543 - 329 = \square$$

วิธีทำ

$$\begin{array}{r} 1543 \\ - 329 \\ \hline \\ \hline \end{array}$$

ตอบ

$$2.500 - 230 = \square$$

วิธีทำ

$$\begin{array}{r} 2500 \\ - 230 \\ \hline \\ \hline \end{array}$$

ตอบ

$$3.706 - 315 = \square$$

วิธีทำ

$$\begin{array}{r} 3706 \\ - 315 \\ \hline \\ \hline \end{array}$$

ตอบ

$$4.797 - 789 = \square$$

วิธีทำ

$$\begin{array}{r} 4797 \\ - 789 \\ \hline \\ \hline \end{array}$$

ตอบ

ชื่อ.....เลขที่.....

ใบงานที่ 14 เรื่อง การลบจำนวนสามจำนวนโดยการตั้งลบ

แสดงวิธีหาผลลบ

$$1.841 - 75 - 46 = \square$$

วิธีทำ

ตอบ

$$2.874 - 249 - 120 = \square$$

วิธีทำ

ตอบ

คำชี้แจง : หาผลลบ

$$3.567 - 134 - 29 = \square$$

ตอบ

$$4.900 - 186 - 295 = \square$$

ตอบ

$$5.890 - 95 - 380 = \square$$

ตอบ

$$6.1,000 - 226 - 299 = \square$$

ตอบ

ชื่อ.....เลขที่.....

ใบงานที่ 15 เรื่อง ความสัมพันธ์ของการบวกและการลบ

เติมตัวเลขแสดงจำนวน

$$1.620 + 290 = 910$$

$$\underline{\hspace{2cm}} - 620 = 290$$

$$910 - 290 = \underline{\hspace{2cm}}$$

$$2.448 + 256 = 704$$

$$\underline{\hspace{2cm}} - 448 = 256$$

$$704 - 256 = \underline{\hspace{2cm}}$$

$$3.689 + 311 = 1,000$$

$$\underline{\hspace{2cm}} - 689 = 311$$

$$\underline{\hspace{2cm}} - \underline{\hspace{2cm}} = 689$$

$$4.542 + 429 = 971$$

$$\underline{\hspace{2cm}} - 542 = 429$$

$$971 - 429 = \underline{\hspace{2cm}}$$

ใบงานที่ 16 เรื่อง การหาค่าของตัวไม่ทราบค่าในประโยคสัญลักษณ์การบวก
และประโยคสัญลักษณ์การลบ

แสดงวิธีทำหาค่าของตัวไม่ทราบค่าในประโยคสัญลักษณ์

1.

$$78 + \square = 100$$

วิธีทำ ใช้ความสัมพันธ์ของการบวกและการลบ

จะได้.....

.....

2.

$$\square + 256 = 888$$

วิธีทำ ใช้ความสัมพันธ์ของการบวกและการลบ

จะได้.....

.....

ตอบ.....

3.

$$554 + \square = 1,000$$

วิธีทำ ใช้ความสัมพันธ์ของการบวกและการลบ

จะได้.....

.....

4.

$$\square + 784 = 989$$

วิธีทำ ใช้ความสัมพันธ์ของการบวกและการลบ

จะได้.....

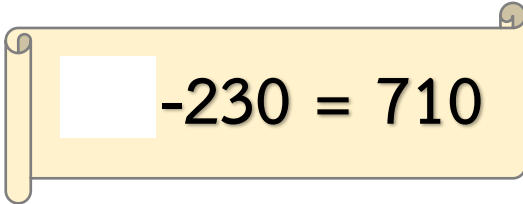
.....

ชื่อ.....เลขที่.....

ใบงานที่ 17 เรื่อง การหาค่าของตัวไม่ทราบค่าในประโยคสัญลักษณ์การบวกและ
ประโยคสัญลักษณ์การลบ 2

แสดงวิธีทำหาค่าของตัวไม่ทราบค่าในประโยคสัญลักษณ์

1.

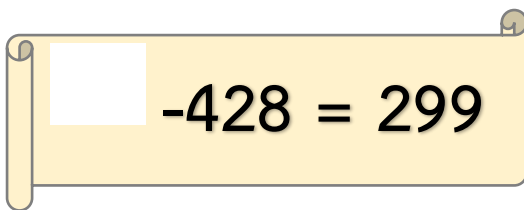


$\square - 230 = 710$

วิธีทำ ใช้ความสัมพันธ์ของการบวกและการลบ

จะได้.....
.....

2.

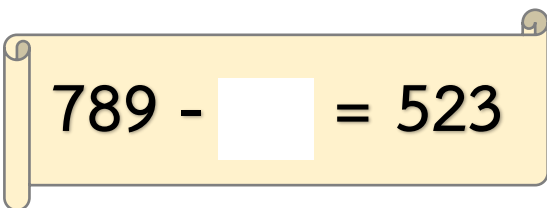


$\square - 428 = 299$

วิธีทำ ใช้ความสัมพันธ์ของการบวกและการลบ

จะได้.....
.....

3.

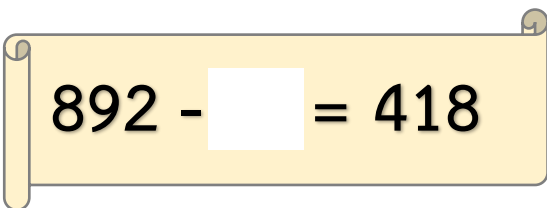


$789 - \square = 523$

วิธีทำ ใช้ความสัมพันธ์ของการบวกและการลบ

จะได้.....
.....

4.



$892 - \square = 418$

วิธีทำ ใช้ความสัมพันธ์ของการบวกและการลบ

จะได้.....
.....

ใบงานที่ 18 เรื่อง โจทย์ปัญหาการบวกและโจทย์ปัญหาการลบ (1)

เขียนประโยคสัญลักษณ์และหาคำตอบ

1.แม่ค้ามีปลานิล 281 ตัว ซื้อมาเพิ่มอีก 373 ตัว แม่ค้ามีปลานิลทั้งหมดกี่ตัว

โจทย์ถาม

โจทย์บอก.....

ประโยคสัญลักษณ์.....

.....

.....

ตอบ

2.ลุงมีมะม่วง 456 ผล ขายไป 289 ผล ลุงเหลือมะม่วงกี่ผล

โจทย์ถาม

โจทย์บอก.....

ประโยคสัญลักษณ์.....

.....

.....

ตอบ

ชื่อ.....เลขที่.....

ใบงานที่ 20 เรื่อง โจทย์ปัญหาการบวกและโจทย์ปัญหาการลบ (1) 2
เขียนประโยคสัญลักษณ์และหาคำตอบ

1. ป่ามีกุง 799 ตัว แบ่งให้พ่อ 202 ตัว ป่าเหลือกุงกี่ตัว

โจทย์ถาม

โจทย์บอก

ประโยคสัญลักษณ์

.....

.....

.....

ตอบ

2. ฟ้าใสมีเงิน 425 บาท แม่ให้เพิ่มอีก 300 บาท ฟ้าใสมีเงินทั้งหมดกี่บาท

โจทย์ถาม

โจทย์บอก

ประโยคสัญลักษณ์

.....

.....

.....

.....

ตอบ

ชื่อ

เลขที่

ใบงานที่ 21 เรื่อง โจทย์ปัญหาการบวกและโจทย์ปัญหาการลบ (1) 3
เขียนประโยคสัญลักษณ์และหาคำตอบ

1. วัตมีงานอยู่ในตู้ 545 ใบ นำออกมาใช้ 218 ใบ เหลืองานในตู้กี่ใบ

โจทย์ถาม

โจทย์บอก

ประโยคสัญลักษณ์

ตอบ

2. หนูแดงซื้อตุเรียน 899 บาท ซื้อมะม่วง 192 บาท หนูแดงจ่ายเงินทั้งหมดกี่บาท

โจทย์ถาม

โจทย์บอก

ประโยคสัญลักษณ์

ตอบ

ชื่อ เลขที่

ใบงานที่ 22 เรื่อง โจทย์ปัญหาการบวกและโจทย์ปัญหาการลบ (1) 3

เขียนประโยคสัญลักษณ์และหาคำตอบ

1. แม่ค้าขายไข่ไก่ได้ 249 ฟอง ขายไข่เป็ดได้ 279 ฟอง แม่ค้าขายไข่ไก่และไข่เป็ดได้ทั้งหมดกี่ฟอง

โจทย์ถาม

โจทย์บอก.....

ประโยคสัญลักษณ์.....

ตอบ

2.หนูขามีเงินได้ 1,000 บาท นำไปซื้อเนื้อหมู 498 บาท หนูขาเหลือเงินกี่บาท

โจทย์ถาม

โจทย์บอก.....

ประโยคสัญลักษณ์.....

ตอบ

ชื่อ.....เลขที่.....

ใบงานที่ 23 เรื่อง โจทย์ปัญหาการบวกและโจทย์ปัญหาการลบ (1) 3

เขียนประโยคสัญลักษณ์และหาคำตอบ

1. แม่ค้าขายไข่ไก่ได้ 258 ฟอง ขายไข่เป็ดได้ 269 ฟอง แม่ค้าขายไข่ไก่และไข่เป็ดได้ทั้งหมดกี่ฟอง

โจทย์ถาม

โจทย์บอก

ประโยคสัญลักษณ์

ตอบ

2. หนูขามีเงินได้ 1,000 บาท นำไปซื้อเนื้อหมู 599 บาท หนูขาเหลือเงินกี่บาท

โจทย์ถาม

โจทย์บอก

ประโยคสัญลักษณ์

ตอบ

ชื่อ เลขที่

ใบงานที่ 24 เรื่อง โจทย์ปัญหาการบวกและโจทย์ปัญหาการลบ (2) 1

เขียนประโยคสัญลักษณ์และหาคำตอบ

1. ลุงทองดีซื้อปลานิลได้ 446 ตัว ซื้อปลาตะเพียนได้ 294 ตัว ลุงทองดีซื้อปลานิลมากกว่าปลาตะเพียนกี่ตัว

โจทย์ถาม

โจทย์บอก

ประโยคสัญลักษณ์

ตอบ

2. เมื่อวานฟ้าใสอ่านหนังสือได้ 225 หน้า วันนี้อ่านได้ 149 หน้า วันนี้ฟ้าใสอ่านหนังสือได้มากกว่าเมื่อวานกี่หน้า

โจทย์ถาม

โจทย์บอก

ประโยคสัญลักษณ์

ตอบ

ชื่อ

เลขที่

ใบงานที่ 25 เรื่อง โจทย์ปัญหาการบวกและโจทย์ปัญหาการลบ (2) 2

เขียนประโยคสัญลักษณ์และหาคำตอบ

1. ร้านค้ามีไข่เป็ด 587 ฟอง มีไข่ไก่มากกว่าไข่เป็ด 168 ฟอง ร้านค้ามีไข่ไก่ทั้งหมดกี่ฟอง

โจทย์ถาม

โจทย์บอก

ประโยคสัญลักษณ์

ตอบ

2. เมื่อวานหนูขาวอ่านหนังสือได้ 350 หน้า วันนี้อ่านได้มากกว่าเมื่อวาน 40 หน้า วันนี้หนูขาวอ่านหนังสือได้กี่หน้า

โจทย์ถาม

โจทย์บอก

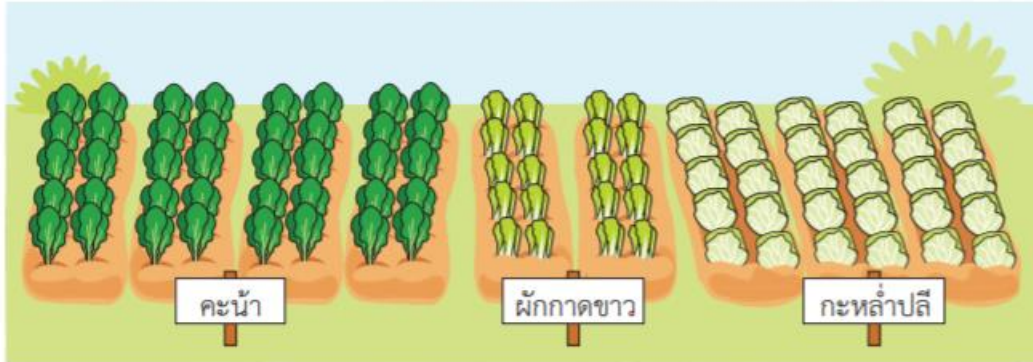
ประโยคสัญลักษณ์

ตอบ

ชื่อ

เลขที่

ใบงานที่ 26 เรื่อง การสร้างโจทย์ปัญหาการบวกและโจทย์ปัญหาการลบจากภาพ
สร้างโจทย์ปัญหาการบวกและโจทย์ปัญหาการลบจากภาพพร้อมทั้งเขียนประโยคสัญลักษณ์



โจทย์ปัญหาการบวก

.....

.....

.....

.....

โจทย์ปัญหาการลบ

.....

.....

.....

.....

ชื่อ.....เลขที่.....

ใบงานที่ 27 เรื่อง การสร้างโจทย์ปัญหาการบวกและโจทย์ปัญหาการลบจากประโยค
สัญลักษณ์

สร้างโจทย์ปัญหาจากประโยคสัญลักษณ์

$$1. 199 - 119 = \square$$

โจทย์ปัญหา.....

.....

.....

ประโยคสัญลักษณ์.....

วิธีทำ.....

.....

ตอบ.....

$$2. 587 + 189 = \square$$

โจทย์ปัญหา.....

.....

.....

ประโยคสัญลักษณ์.....

วิธีทำ.....

.....

ตอบ.....

.....

ชื่อ.....

เลขที่.....