

ใบงานที่ 1 เรื่อง การเตรียมความพร้อม

1.บอกจำนวนลูกฟักทองโดยการนับทีละ 2



1.มีฟักทอง.....

.....ลูก

2.บอกจำนวนกาต้มน้ำร้อนโดยการนับทีละ 5



2.มีกาต้มน้ำร้อน.....ตัว

3.บอกจำนวนกาต้มน้ำร้อนโดยการนับทีละ 10

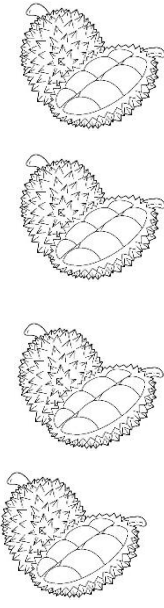

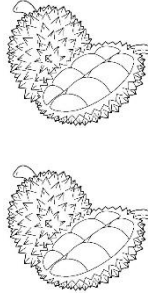



3.มีถังน้ำ.....ถัง


ชื่อ.....

เลขที่.....

ใบงานที่ 2 เรื่อง แผนภูมิรูปภาพที่กำหนดรูป 1 รูปแทน 2 หน่วย
จำนวนทุเรียนที่หนูแดงขายได้ใน 5 วัน

				
วันจันทร์	วันอังคาร	วันพุธ	วันพฤหัสบดี	วันศุกร์

กำหนดให้  แทนจำนวนทุเรียน 2 ลูก

1. แผนภูมิรูปภาพนี้แสดง
2.  แทนจำนวนทุเรียน ลูก
3. วัน ขายทุเรียนได้ 10 ลูก
4. วัน กับวัน แม่ค้าขายทุเรียนได้เท่ากัน แต่วันขาย
ทุเรียนได้ ลูก

ชื่อ


เลขที่

ใบงานที่ 3 เรื่อง แผนภูมิรูปภาพที่กำหนดรูป 1 รูปแทน 2 หน่วย
 ตอบคำถามจากแผนภูมิรูปภาพต่อไปนี้

จำนวนไก่ที่เลี้ยง 5 คนในหมู่บ้านแห่งหนึ่ง

ลุงแดง	
ลุงดำ	
ลุงทองดี	
ลุงขาว	
ลุงตา	




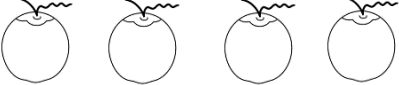

กำหนดให้  แทนจำนวนไก่ 2 ตัว

- แผนภูมิรูปภาพนี้แสดง
-  แทน จำนวนไก่ ตัว
- ลุงแดงเลี้ยงไก่น้อยกว่าลุงทองดี ตัว
- คนใดเลี้ยงไก่ได้มากกว่าเป็นลำดับ 2 จำนวน

ชื่อ เลขที่

ใบงานที่ 4 เรื่อง แผนภูมิรูปภาพที่กำหนดรูป 1 รูปแทน 5 หน่วย
 ตอบคำถามจากแผนภูมิรูปภาพต่อไปนี้

จำนวนผลไม้ชนิดต่างๆ ที่แม่ค้าขายได้ใน 1 วัน

สับปะรด	
สตอเบอรี่	
ส้ม	
มะพร้าว	
องุ่น	

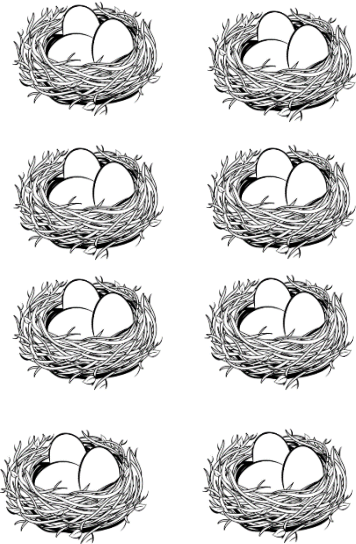


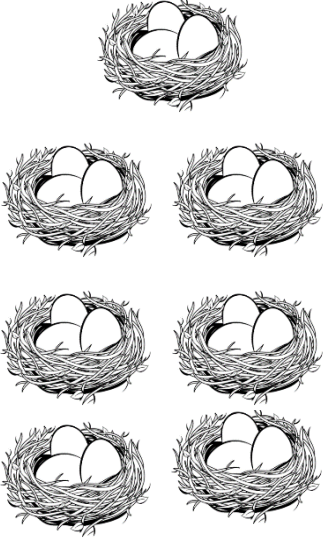
กำหนดให้รูป 1 รูป แทนจำนวนผลไม้ 5 ผล

1. แผนภูมิรูปภาพนี้แสดง
2. รูป 1 รูป แทนจำนวนผลไม้ ผล
3. แม่ค้าขายผลไม้ได้มากเป็นอันดับที่ 1 ขายได้ ผล
4. แม่ค้าขายได้ทั้งหมด ผล

ชื่อ..... เลขที่.....

ใบงานที่ 5 เรื่อง แผนภูมิรูปภาพที่กำหนดรูป 1 รูปแทน 5 หน่วย
 ตอบคำถามจากแผนภูมิรูปภาพต่อไปนี้

จำนวนไข่ไก่ที่ลุงพลซื้อในแต่ละวัน

			
<p>วันที่ 1</p>	<p>วันที่ 2</p>	<p>วันที่ 3</p>	<p>วันที่ 4</p>

กำหนดให้  แทนจำนวนไข่ 5 ฟอง

1. ลุงพลซื้อไข่ไก่น้อยที่สุดในวันที่เท่าไร และซื้อกี่ฟอง
2. วันที่ 4 ลุงพลซื้อไข่ไก่มากกว่าวันที่ 3 กี่ฟอง
3. ถ้าไข่ไก่ราคาฟองละ 4 บาท วันที่ 2 ลุงพลจ่ายเงินซื้อไข่ไก่ ทั้งหมดกี่บาท มีวิธีคิดอย่างไร





4. รวม 4 วัน ลุงพลซื้อไข่ไก่กี่ฟอง

ชื่อ

เลขที่

ใบงานที่ 5 เรื่อง แผนภูมิรูปภาพที่กำหนดรูป 1 รูปแทน 10 หน่วย
 ตอบคำถามจากแผนภูมิรูปภาพต่อไปนี้

จำนวนไข่ไก่ที่ลุงทองดีขายในแต่ละสัปดาห์

			
<p>สัปดาห์ที่ 1</p>	<p>สัปดาห์ที่ 2</p>	<p>สัปดาห์ที่ 3</p>	<p>สัปดาห์ที่ 4</p>

กำหนดให้  แทนจำนวนไข่ 10 ฟอง






1. สัปดาห์ใดลุงทองดีขายไข่ไก่มากเป็นอันดับที่ 1
2. สัปดาห์ใดลุงทองดีขายไข่ไก่มากเป็นอันดับที่ 3
3. สัปดาห์ที่ 4 ลุงทองดีขายไข่ไก่ได้น้อยกว่าสัปดาห์ที่ 1
4. ลุงทองดีขายไข่ไก่ได้ทั้งหมด ฟอง



ชื่อ เลขที่

ใบงานที่ 6 เรื่อง แผนภูมิรูปภาพที่กำหนดรูป 1 รูปแทน 10 หน่วย
 ตอบคำถามจากแผนภูมิรูปภาพต่อไปนี้

จำนวนลูกฟุตบอลที่นักเรียนนำมาเล่นในแต่ละวัน

				
วันจันทร์	วันอังคาร	วันพุธ	วันพฤหัสบดี	วันศุกร์

กำหนดให้  แทนจำนวนลูกฟุตบอล 10 ลูก

1. แผนภูมิรูปภาพนี้แสดง

2.  แทน จำนวนลูกฟุตบอล ลูก

3. วันใดนักเรียนนำลูกฟุตบอลเล่นมากเป็นลำดับที่ 1 จำนวนเท่าไร

.....

4. จำนวนลูกฟุตบอลที่นักเรียนนำมาเล่นในแต่ละวันได้ทั้งหมด ลูก

ชื่อ

เลขที่

