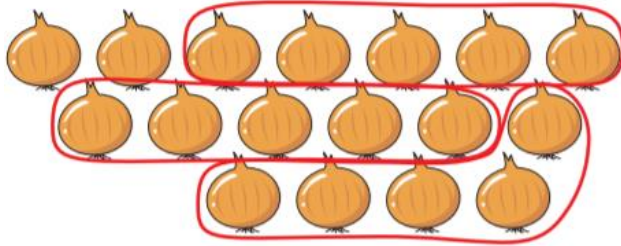


ใบงานที่ 2 เรื่อง การนับทีละ 5

วงรอบภาพแสดงการนับทีละ 5 และเขียนตัวเลขแสดงจำนวนของสิ่งต่างๆ

1.



มีหอมหัวใหญ่ หัว

2.



มีมะระขี้นก ผล

3.

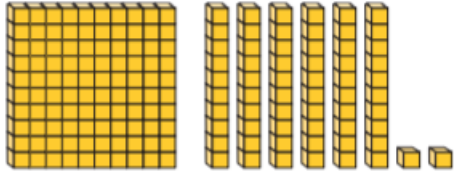


พริก ผล

ใบงานที่ 3 เรื่อง จำนวนนับไม่เกิน 200

เขียนตัวเลขฮินดูอารบิก ตัวเลขไทย และตัวหนังสือแสดงจำนวน

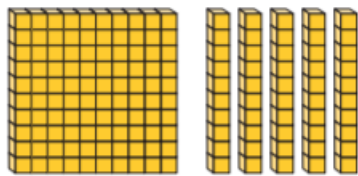
1.



ตอบ

.....
.....
.....

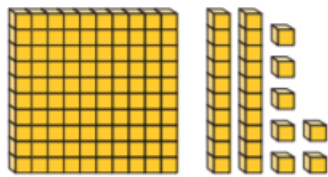
2.



ตอบ

.....
.....
.....

3.



ตอบ

.....
.....
.....

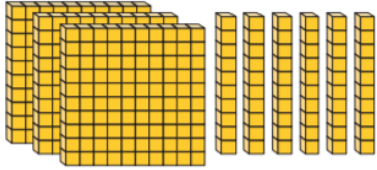
ชื่อ

เลขที่

ใบงานที่ 4 เรื่อง จำนวนนับ 201 ถึง 1,000

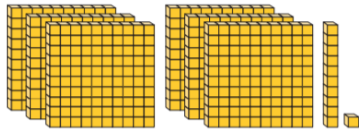
เขียนตัวเลขฮินดูอารบิก ตัวเลขไทย และตัวหนังสือแสดงจำนวน

1.



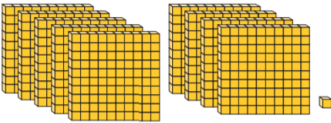
ตอบ

2.



ตอบ

3.



ตอบ

ชื่อ

เลขที่

ใบงานที่ 5 เรื่อง หลัก ค่าของเลขโดดในแต่ละหลักของจำนวนนับไม่เกิน 1,000

เขียนตัวเลขฮินดูอารบิก ตัวเลขไทย และตัวหนังสือแสดงจำนวน

125

.....ในหลักร้อย มีค่า.....

.....ในหลักสิบ มีค่า.....

.....ในหลักหน่วย มีค่า.....

.....

เขียนในรูปกระจาย.....

236

.....ในหลักร้อย มีค่า.....

.....ในหลักสิบ มีค่า.....

.....ในหลักหน่วย มีค่า.....

.....

เขียนในรูปกระจาย.....

225

.....ในหลักร้อย มีค่า.....

.....ในหลักสิบ มีค่า.....




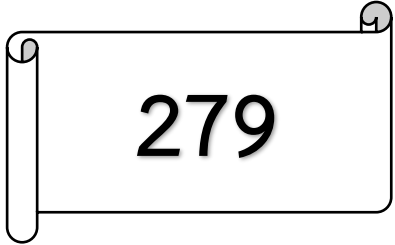














.....ในหลักหน่วย มีค่า.....

.....

เขียนในรูปกระจาย.....

ใบงานที่ 6 เรื่อง การเปรียบเทียบจำนวน (1)




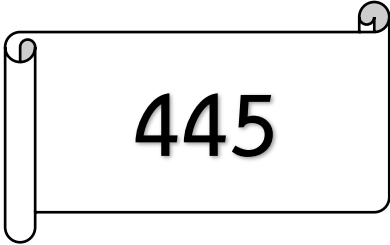





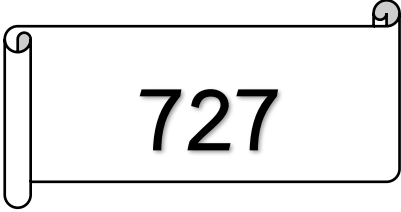

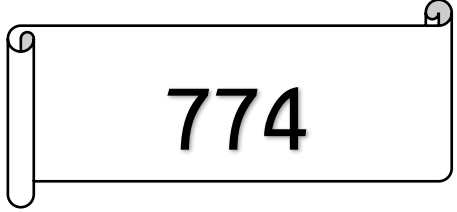


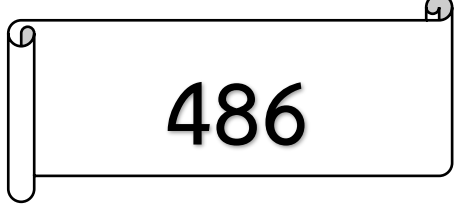



เปรียบเทียบจำนวนโดยใช้เครื่องหมาย < หรือ >

1.			
2.			
3.			
4.			
5.			
6.			

ชื่อ.....เลขที่.....

ใบงานที่ 7 เรื่อง การเปรียบเทียบจำนวน (2)

เปรียบเทียบจำนวนโดยใช้เครื่องหมาย < หรือ >

1.   
2.   
3.   
4.   
5.   
6.   

ชื่อ.....เลขที่.....

ใบงานที่ 8 เรื่อง การเรียงลำดับจำนวน (1)

เติมคำตอบให้ถูกต้อง

1. เรียงลำดับจากน้อยไปมาก 180 390 310

ตอบ

2. เรียงลำดับจากน้อยไปมาก 899 710 519

ตอบ

3. เรียงลำดับจากมากไปน้อย 610 850 828

ตอบ

4. เรียงลำดับจากมากไปน้อย 839 739 597

ตอบ

ชื่อ

เลขที่

ใบงานที่ 9 เรื่อง การเรียงลำดับจำนวน

เติมคำตอบให้ถูกต้อง

1. เรียงลำดับจากน้อยไปมาก 371 351 301 361

ตอบ

2. เรียงลำดับจากน้อยไปมาก 878 810 819 826

ตอบ

3. เรียงลำดับจากมากไปน้อย 580 570 528 556

ตอบ

4. เรียงลำดับจากมากไปน้อย 750 739 797 799

ตอบ

ชื่อ.....เลขที่.....

ใบงาน เรื่อง จำนวนคู่ จำนวนคี่

เติมคำตอบว่า “จำนวนใดเป็นจำนวนคู่” “จำนวนใดเป็นจำนวนคี่”

114 _____

999 _____

97 _____

154 _____

48 _____

89 _____

94 _____

186 _____

358 _____

452 _____




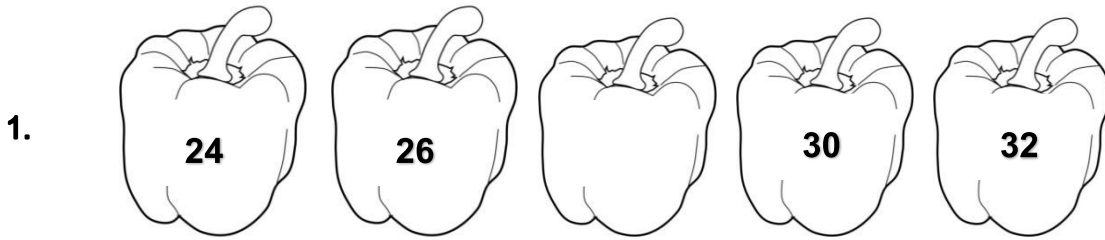
998 _____

548 _____

ชื่อ _____

เลขที่ _____

ใบงานที่ 11 เรื่อง แบบรูปของจำนวนที่เพิ่มขึ้นทีละ 2 และลดทีละ 2
เติมจำนวนที่หายไปในรูปแบบ



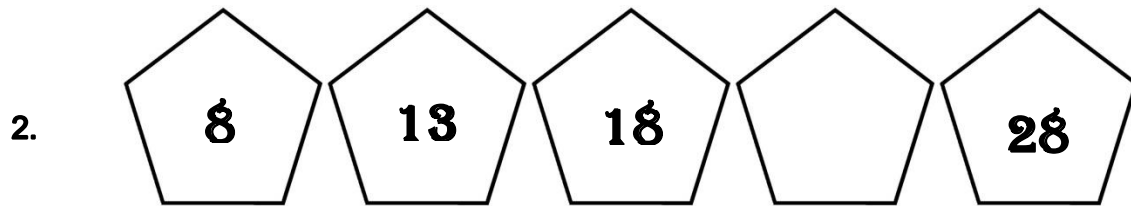



ชื่อ.....

เลขที่.....

ใบงานที่ 12 เรื่อง แบบรูปของจำนวนที่เพิ่มขึ้นทีละ 5 และลดลงทีละ 5

เติมตัวเลขที่หายไปในรูปแบบ


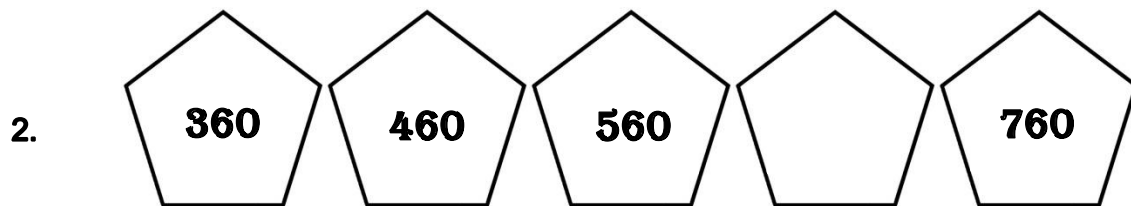



ชื่อ.....

เลขที่.....

ใบงานที่ 13 เรื่อง แบบรูปของจำนวนที่เพิ่มขึ้นทีละ 100 และลดลงทีละ 100

เติมตัวเลขที่หายไปในรูปแบบ



ชื่อ.....เลขที่.....