


ใบงานที่ 1 เรื่อง การหาผลลัพธ์การบวก ลบ คูณ หารระคน

หาผลลัพธ์ จากนั้นระบายสีให้สวยงาม

1 $(100 - 50) + 235 =$

$=$ $+ 235$


ตอบ



2 $(75 + 22) - 53 =$

$=$ $- 53$


ตอบ



3 $(25 \div 5) \times 7 =$

$=$ $\times 7$


ตอบ



4 $(12 \times 5) \div 12 =$


$=$ $\div 12$

ตอบ



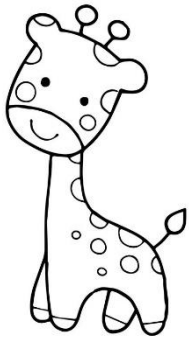
ใบงานที่ 2 เรื่อง สถานการณ์การบวก และการลบ 2 ขั้นตอน

เขียนประโยคสัญลักษณ์จากสถานการณ์



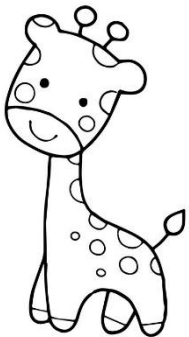
1. ในตู้มีหนังสือ 35 เล่ม ซื้อมาเพิ่มอีก 15 เล่ม ให้เพื่อนยืมไปอ่าน 10 เล่ม
เหลือหนังสือในตู้ 34 เล่ม

ประโยคสัญลักษณ์




2. หนูขามีเงินอยู่ 100 บาท ซื้อสมุด 20 บาท ซื้อขนม 50 บาท หนูขาเหลือเงิน 30 บาท

ประโยคสัญลักษณ์



3. แม่ค้ามีทุเรียนอยู่ 150 ผล ขายไป 100 ผล ซื้อมาเพิ่มอีก 60 ผล แม่ค้ามีทุเรียน 110 ผล

ประโยคสัญลักษณ์



4. ไฟฟ้ามีน้ำเขี้ยว 30 ขวด มีน้ำแดงมากกว่าน้ำเขี้ยว 10 ขวด มีน้ำส้มน้อยกว่าน้ำแดง 10 ขวด ไฟฟ้ามีน้ำส้ม 30 ขวด

ประโยคสัญลักษณ์


ชื่อ.....เลขที่.....

งานที่ 3 เรื่อง โจทย์ปัญหาการบวกและการลบ 2 ขั้นตอน
เขียนประโยคสัญลักษณ์และหาคำตอบ




1. ฟ้าใสออมเงินได้ 105 บาท หนูขาวออมเงินได้มากกว่าฟ้าใส 25 บาท หนูดี
ออมเงินได้น้อยกว่าหนูขาว 35 บาท หนูดีออมเงินได้กี่บาท
ประโยคสัญลักษณ์

ตอบ



2. ลุงทองดีมีทุเรียน 100 ผล นำไปให้ลุงแดง 50 ผล และให้ลุงดำ 25 ผล ลุง
ทองดีเหลือทุเรียนกี่ผล
ประโยคสัญลักษณ์

ตอบ



3. หนูขาวมีกระดาษ 915 แผ่น ใช้ไป 500 แผ่น แบ่งให้เพื่อน 70 แผ่น
หนูขาวเหลือกระดาษกี่แผ่น
ประโยคสัญลักษณ์

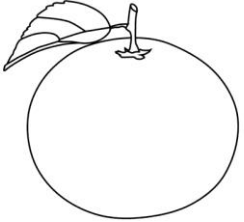
ตอบ

ชื่อ.....

เลขที่.....

ใบงานที่ 4 เรื่อง โจทย์ปัญหาการบวกและการลบ 2 ขั้นตอน


เขียนประโยคสัญลักษณ์และหาคำตอบ



1. ลุงพลขายส้ม 50 ผล ลุงทองดีขายส้ม 100 ผล และลุงทองดีขายส้ม 60 ผล
ทั้งสามคนขายส้มรวมกันได้กี่ผล

ประโยคสัญลักษณ์


ตอบ



2. หนูขาวมีปากกา 45 แท่ง มีดินสอ 100 แท่ง นำดินสอให้ฟ้าใส 56 แท่ง
หนูขาวเหลือปากกาและดินสอรวมกันกี่แท่ง

ประโยคสัญลักษณ์

ตอบ



3. หนูแดงมีแสตมป์ 146 ดวง หนูดำมีแสตมป์น้อยกว่าหนูแดง 7 ดวง ฟ้าใส
มีแสตมป์น้อยกว่าหนูดำ 15 ดวง ฟ้าใสมีแสตมป์กี่ดวง


ประโยคสัญลักษณ์

ตอบ

ชื่อ.....


เลขที่.....

ใบงานที่ 5 เรื่อง สถานการณ์การบวก การลบการคูณ และการหาร 2 ขั้นตอน
เขียนประโยคสัญลักษณ์จากสถานการณ์




1. แม่มีนมกล่องอยู่ 25 กล่อง ซื้อนมเพิ่ม 10 แพ็ก แพ็กละ 4 กล่อง แม่มีนม
กล่องทั้งหมด 100 กล่อง

ประโยคสัญลักษณ์




2. พ่อมีเงิน 200 บาท ซื้อทุเรียน 128 บาท เงินที่เหลือนำไปซื้อนม ราคา
กล่องละเท่า ๆ กันได้ 8 กล่อง นมราคากล่องละ 9 บาท

ประโยคสัญลักษณ์



3. พ้าไสมีสติกเกอร์รูปดาว 4 แผ่น แต่ละแผ่นมี 9 รูป แจกให้เพื่อน 6 คน คน
ละเท่า ๆ กัน เพื่อนจะได้สติกเกอร์รูปดาวคนละ 6 รูป

ประโยคสัญลักษณ์




4. แม่ค้ามีทุเรียน 50 ผล ซื้อมาอีก 5 ลัง ลังละ 12 ผล แม่ค้ามีทุเรียน ทั้งหมด 110 ผล

ประโยคสัญลักษณ์


ชื่อ.....เลขที่.....

ใบงานที่ 5 เรื่อง โจทย์ปัญหาการบวก การลบ การคูณและการหาร 2 ขั้นตอน
คำชี้แจง : เขียนประโยคสัญลักษณ์และหาคำตอบ



1. พ่อมีเงิน 150 บาท ซื้อปลาหมึกไป 120 บาท เงินที่เหลือให้ลูก 2 คน คนละเท่า ๆ กัน ลูกได้เงินคนละกี่บาท
ประโยคสัญลักษณ์

ตอบ



2. ลุงทองดีมีมะม่วง 3 ถาด ถาดละ 5 ผล แบ่งให้นักเรียน 5 คน คนละเท่า ๆ กัน
นักเรียนจะได้มะม่วงคนละกี่ผล
ประโยคสัญลักษณ์

ตอบ



3. ฟ้าใส่เก็บไข่ไก่ได้ 32 ฟอง จัดใส่ตะกร้า ตะกร้าละ 8 ฟอง นำไปขายตะกร้าละ 25 บาท ถ้าขายหมดฟ้าใส่จะได้เงินกี่บาท
ประโยคสัญลักษณ์

ตอบ

ใบงานที่ 6 เรื่อง โจทย์ปัญหาการบวก การลบ การคูณและการหาร 2 ขั้นตอน
เขียนประโยคสัญลักษณ์และหาคำตอบ




1. พ่อซื้อลูกฟุตบอล 275 ลูก นำไปให้หนูแดง 75 ลูก ที่เหลือแบ่งให้เด็ก 10 คน คนละเท่าๆ กัน เด็กจะได้ลูกฟุตบอลคนละกี่ลูก
ประโยคสัญลักษณ์

ตอบ



2. วันแรกลุงพลเก็บไข่ไก่ได้ 25 ฟอง วันที่สองเก็บได้ 15 ฟอง ลุงนำไข่ที่เก็บได้บรรจุกล่อง กล่องละ 5 ฟอง ลุงจะได้ไข่ไก่ทั้งหมดกี่กล่อง
ประโยคสัญลักษณ์

ตอบ



3. แม่ซื้อองุ่น 5 กิโลกรัม ราคา กิโลกรัมละ 25 บาท ให้เงินแม่ค้า 150 บาท แม่จะได้รับเงินทอนกี่บาท
ประโยคสัญลักษณ์

ตอบ

ชื่อ.....

เลขที่.....