



ใบงานที่ 1 เรื่อง การอ่านปฏิทิน

ตอบคำถาม




1. เดือนที่มี 30 วัน ได้แก่เดือนอะไรบ้าง มีกี่เดือน

ตอบ



2. เดือนที่มี 31 วัน ได้แก่เดือนอะไรบ้าง มีกี่เดือน

ตอบ



3. เดือนอะไรที่มีจำนวนวันน้อยกว่า วัน และเดือนนั้นมีกี่วัน

ตอบ



4. เดือนกันยายนอยู่ระหว่างเดือนอะไรกับเดือนอะไร

ตอบ


ชื่อ.....

เลขที่.....

ใบงานที่ 2 เรื่อง การอ่านปฏิทิน


ตอบคำถาม

ปฏิทิน																					
1 มกราคม							2 กุมภาพันธ์							3 มีนาคม							
อา	จ	อ	พ	พฤ	ศ	ส	อา	จ	อ	พ	พฤ	ศ	ส	อา	จ	อ	พ	พฤ	ศ	ส	
					1	2	1	2	3	4	5	6					1	2	3	4	5
3	4	5	6	7	8	9	7	8	9	10	11	12	13	6	7	8	9	10	11	12	
10	11	12	13	14	15	16	14	15	16	17	18	19	20	13	14	15	16	17	18	19	
17	18	19	20	21	22	23	21	22	23	24	25	26	27	20	21	22	23	24	25	26	
24	25	26	27	28	29	30	28	29						27	28	29	30	31			
31																					




1. ปฏิทินนี้เป็นปฏิทินของเดือนอะไรบ้าง

ตอบ



2. วันที่ 1 มกราคมตรงกับวันอะไร และวันที่ 31 มกราคมตรงกับวัน

ตอบ



3. ถ้าวันนี้เป็นวันที่ 30 มีนาคมพรุ่งนี้คือวันที่เท่าไร ตรงกับวันอะไร

ตอบ

ชื่อ

เลขที่

ใบงานที่ 3 เรื่อง การเขียนแสดง วัน เดือน ปี

ตอบคำถาม

1. หนูขาวเขียนว่า 15/01/64 ไปเที่ยวเขาหนุขาวไปเที่ยวห้างวันที่เท่าไร เดือนอะไร พ.ศ.

ตอบ

2. นมจืดเท่าไร เดือนอะไร ค.ศ.อะไร และควรบริโภคก่อน วันที่เท่าไร เดือนอะไร ค.ศ.อะไร



ตอบ

3. นมกล่องนี้ควรบริโภคให้หมดก่อนวันที่เท่าไร เดือนอะไร ค.ศ. อะไร



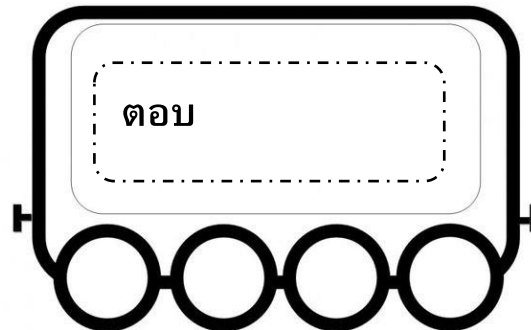
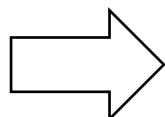
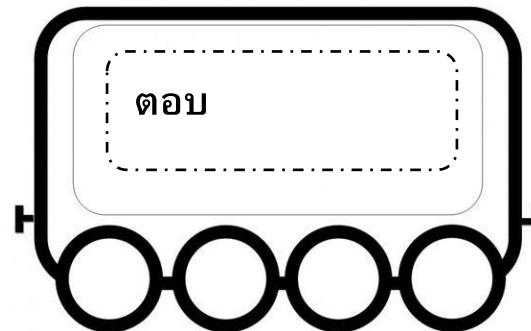
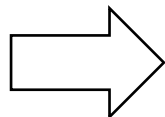
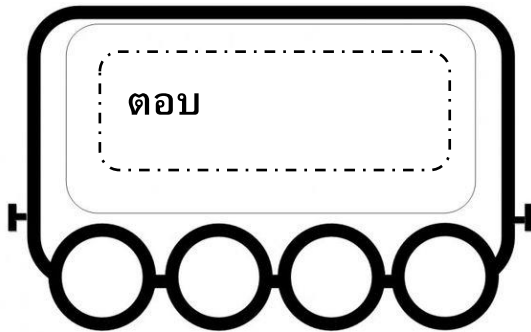
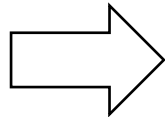
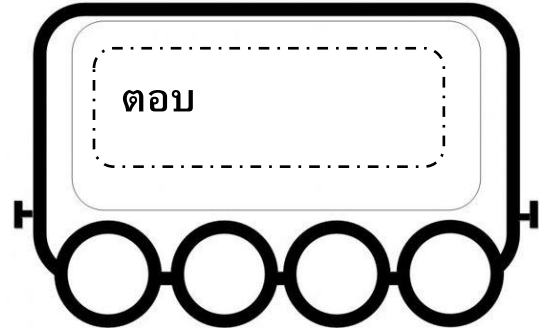
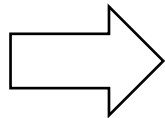

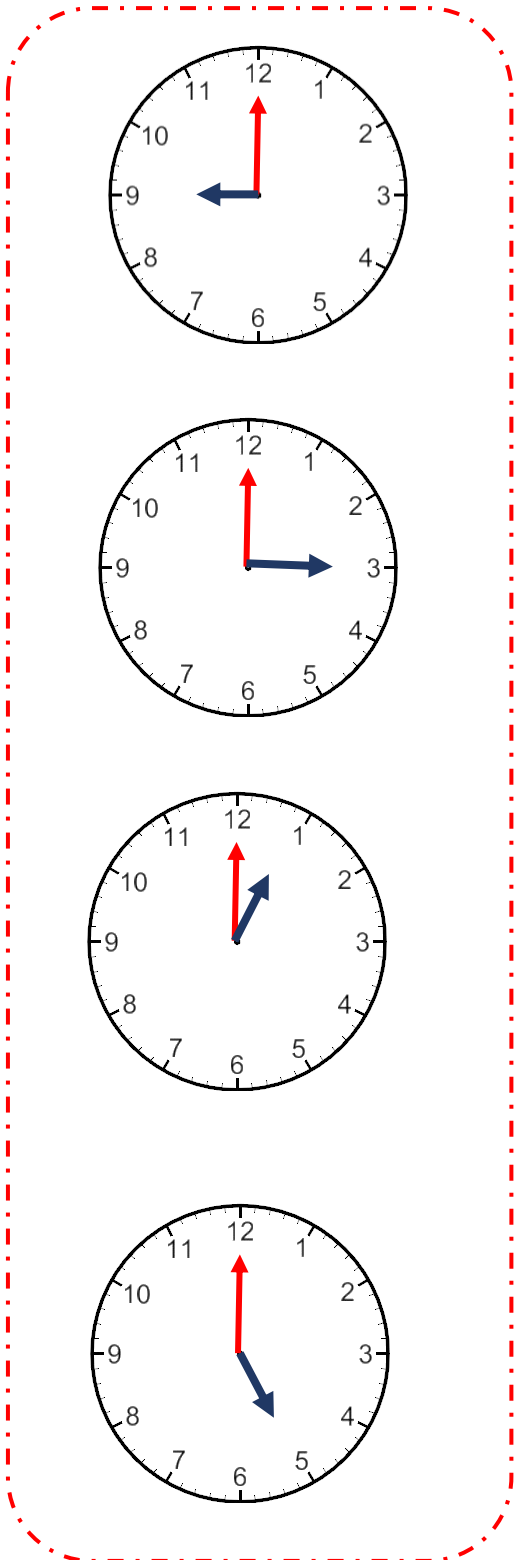
ตอบ

ชื่อ.....

เลขที่.....

ใบงานที่ 4 เรื่อง บอกเวลาเป็นนาฬิกา

บอกเวลาเป็นนาฬิกาช่วงกลางวัน

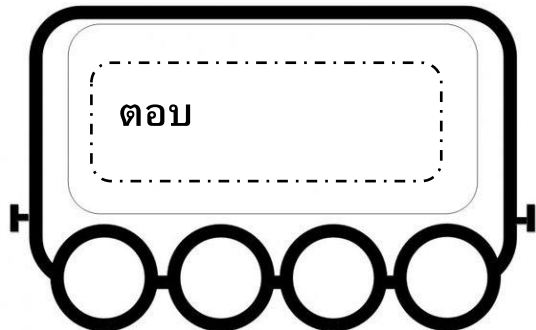
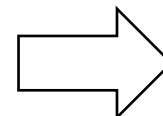
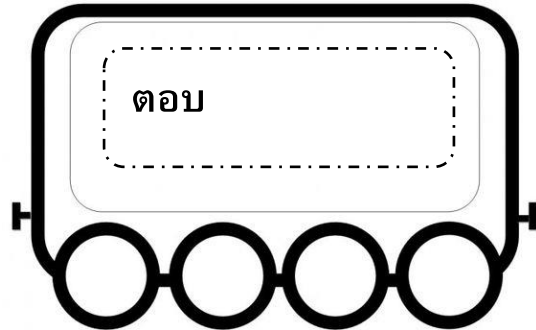
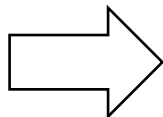
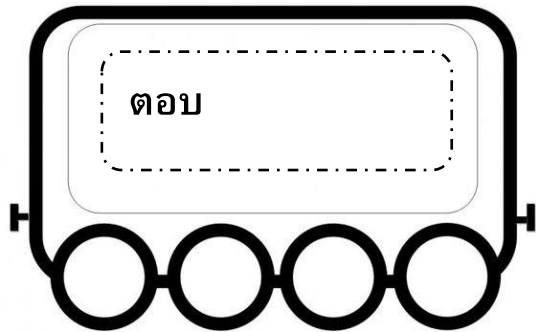
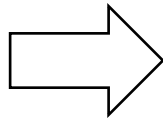
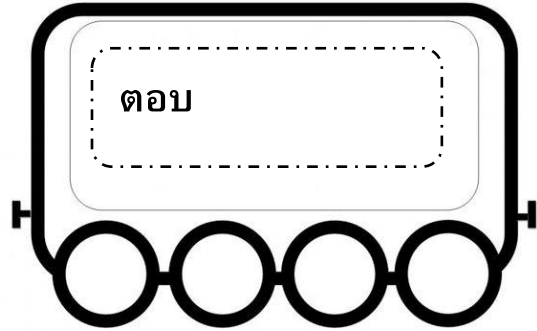
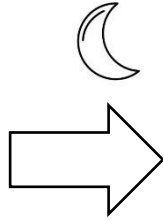
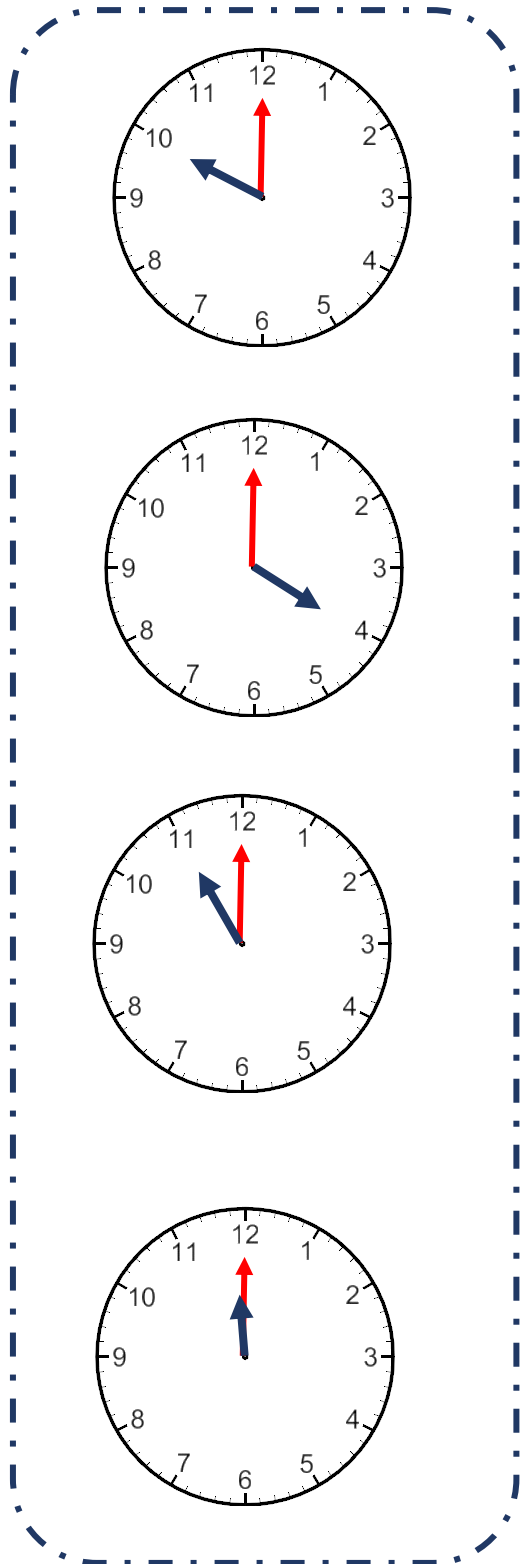


ชื่อ

เลขที่

ใบงานที่ 5 เรื่อง บอกเวลาเป็นนาฬิกา

บอกเวลาเป็นนาฬิกาช่วงกลางวัน




ชื่อ.....

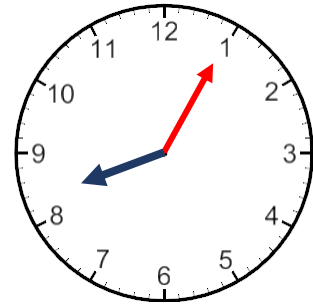
เลขที่.....

ใบงานที่ 6 เรื่อง การบอกเวลาเป็นนาฬิกาและนาที (ช่วง 5 นาที)

บอกเวลาเป็นนาฬิกา



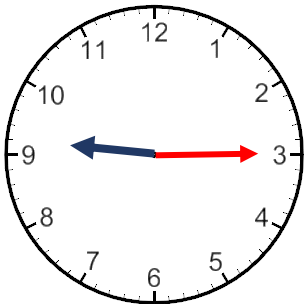
กลางวัน



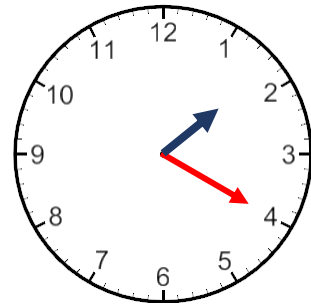
กลางคืน

ตอบ

ตอบ



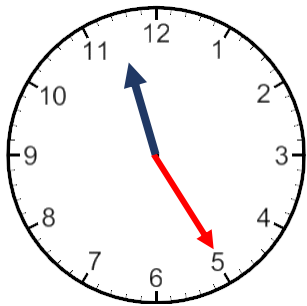
กลางวัน



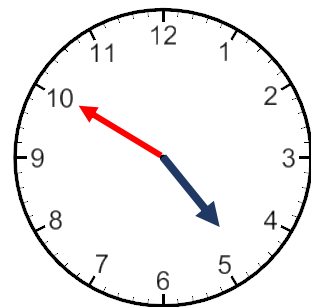
กลางคืน

ตอบ

ตอบ



กลางวัน



กลางคืน

ตอบ

ตอบ

ชื่อ

เลขที่

ใบงานที่ 7 เรื่อง การบอกระยะเวลาเป็นชั่วโมง เป็นนาที

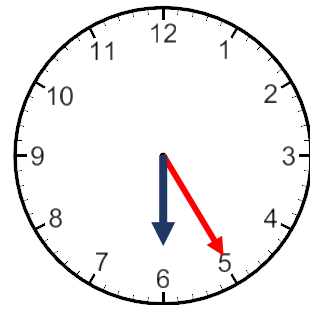
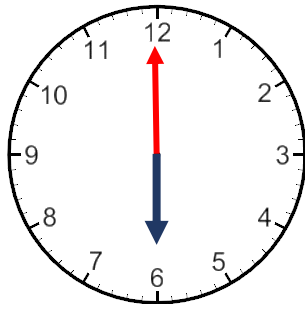
คำชี้แจง : บอกระยะเวลาที่ใช้ในการทำกิจกรรม

เริ่ม

เสร็จ

1. ทำการบ้าน

ตอบ

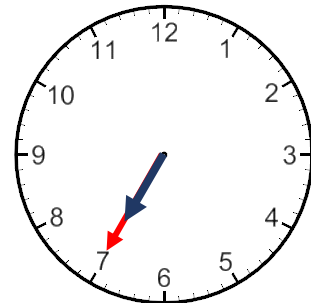
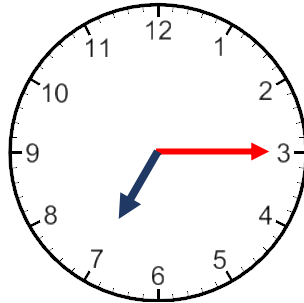


เริ่ม

เสร็จ

2. วาดเส้น

ตอบ

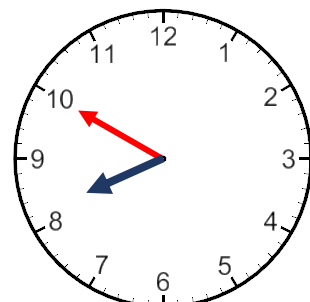
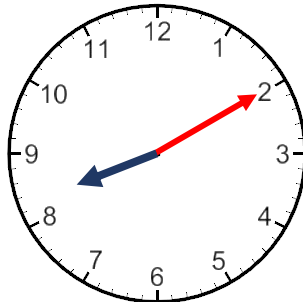


เริ่ม

เสร็จ

3. ดูทีวี

ตอบ



ชื่อ

เลขที่

ใบงานที่ 8 เรื่อง การบอกระยะเวลาเป็นชั่วโมง เป็นนาที

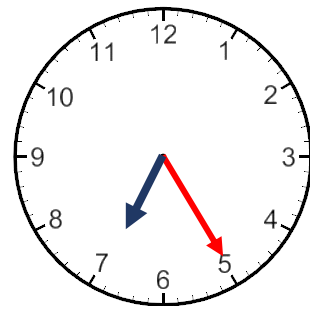
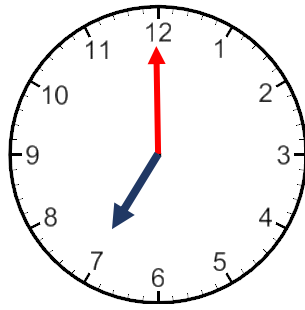
คำชี้แจง : บอกระยะเวลาที่ใช้ในการทำกิจกรรม

เริ่ม

เสร็จ

กินข้าว

ตอบ

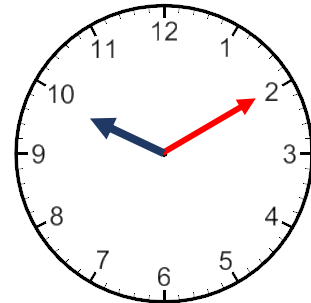
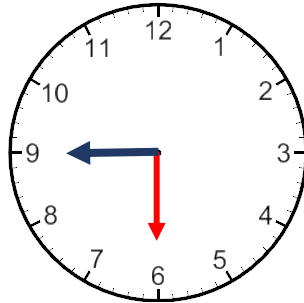


เริ่ม

เสร็จ

2. เล่นเกม

ตอบ

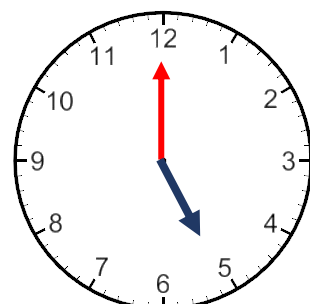
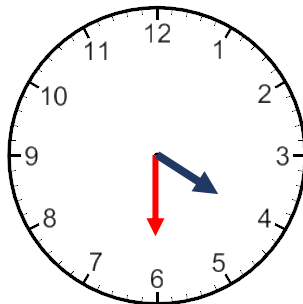


เริ่ม

เสร็จ

3. เดินทางกลับบ้าน

ตอบ




ชื่อ.....


เลขที่.....

ใบงานที่ 8 เรื่อง การบอกเวลาด้วยนาฬิกาแบบใช้ตัวเลข


บอกเวลาจากนาฬิกา




ตอบ



ตอบ



ตอบ



ตอบ



ตอบ

ชื่อ

เลขที่

ใบงาน 12 เรื่อง โจทย์ปัญหาเกี่ยวกับเวลา

แสดงวิธีหาคำตอบ

1. ลูกสิงโตอายุ 8 เดือน ลูกเสือดาวอายุมากกว่าลูกสิงโต 4 เดือน
ลูกเสือดาวอายุกี่เดือน

โจทย์ถาม :

โจทย์บอก :

ตอบ

2. พี่ไสต้องทำงานเป็นเวลา 28 วันพี่ทำงานไปแล้ว 25 วัน พี่ต้อง
ทำงานต่ออีกกี่วันจึงจะครบ 28 วัน

โจทย์ถาม :

โจทย์บอก :

ตอบ

ชื่อ.....

เลขที่.....