



เอกสารประกอบการเรียน


กลุ่มสาระการเรียนรู้สังคมศึกษา ศาสนา และวัฒนธรรม

ช่วงชั้นที่ ๑ ชั้นประถมศึกษาปีที่ ๑

หน่วยการเรียนรู้ที่ ๑ วัน เวลา และเรื่องราวทางประวัติศาสตร์

หน่วยการเรียนรู้ที่ ๒ การดำเนินชีวิต

หน่วยการเรียนรู้ที่ ๓ ชาติไทย



โดย อาจารย์ไพรพร แสงจันทร์

โรงเรียนสาธิตมหาวิทยาลัยราชภัฏสวนสุนันทา (ประถม)

ภาคเรียนที่ ๑

ชื่อ.....ชั้น.....เลขที่.....

คำนำ

เอกสารประกอบการเรียน การปฏิรูปการศึกษาใหม่ ตามพระราชบัญญัติ การศึกษาแห่งชาติ เพื่อพัฒนาการศึกษาของไทยให้มีความเจริญก้าวหน้าและเหมาะสม กับผู้เรียนมากขึ้น โดยในกลุ่มสาระการเรียนรู้ สังคมศึกษา ศาสนา และวัฒนธรรม ได้ กำหนดสาระการเรียนรู้ออกเป็น ๕ กลุ่มสาระดังนี้

สาระที่ ๑ ศาสนา ศีลธรรม จริยธรรม

สาระที่ ๒ หน้าที่พลเมือง วัฒนธรรม และการดำเนินชีวิตในสังคม

สาระที่ ๓ เศรษฐศาสตร์

สาระที่ ๔ ประวัติศาสตร์

สาระที่ ๕ ภูมิศาสตร์

หนังสือเสริมสาระการเรียนรู้ของชั้นประถมศึกษาปีที่ ๑ ได้จัดทำขึ้นตามเนื้อหา สาระมุ่งเน้นให้ผู้เรียนได้รับความรู้ และเกิดประโยชน์ทั้งเนื้อหา และแบบฝึกหัด

ผู้จัดทำหวังว่าคงเป็นประโยชน์อย่างมากให้กับนักเรียน ได้รับความรู้เพิ่มเติมจาก บทเรียนมากขึ้น

ผู้จัดทำ

อาจารย์ไพพร แสงจันทร์

สารบัญ

หน้า

หน่วยการเรียนรู้ที่ ๑ วัน เวลา และเรื่องราวทางประวัติศาสตร์

บทที่ ๑ การใช้ปฏิทินในชีวิตประจำวัน ๑

บทที่ ๒ ความเป็นมาของเรา ๘

หน่วยการเรียนรู้ที่ ๒ การดำเนินชีวิต

บทที่ ๑ ชีวิตที่เปลี่ยนแปลง ๑๓

บทที่ ๒ เหตุการณ์ในอดีตที่มีผลกับปัจจุบัน ๑๘

หน่วยการเรียนรู้ที่ ๓ ชาติไทย

บทที่ ๑ สัญลักษณ์ของชาติไทย ๒๓

หน่วยการเรียนรู้ที่ ๑ วัน เวลา และเรื่องราวทางประวัติศาสตร์
บทที่ ๑ การใช้ปฏิทินในชีวิตประจำวัน

ตอนที่ ๑ ให้นักเรียนเติมคำลงในช่องว่างของปฏิทิน

๑. ปอก.....

๒. ปอก.....

๓. ปอก.....

ปฏิทิน ปี พ.ศ.2562

1 มกราคม	2 กุมภาพันธ์	3 มีนาคม	4 เมษายน
อา จ อ พ พก ศ ส 1 2 3 4 5 6 7 8 9 10 11 12 13 14 15 16 17 18 19 20 21 22 23 24 25 26 27 28 29 30 31	อา จ อ พ พก ศ ส 1 2 3 4 5 6 7 8 9 10 11 12 13 14 15 16 17 18 19 20 21 22 23 24 25 26 27 28	อา จ อ พ พก ศ ส 1 2 3 4 5 6 7 8 9 10 11 12 13 14 15 16 17 18 19 20 21 22 23 24 25 26 27 28 29 30 31	อา จ อ พ พก ศ ส 1 2 3 4 5 6 7 8 9 10 11 12 13 14 15 16 17 18 19 20 21 22 23 24 25 26 27 28 29 30
5 พฤษภาคม	6 มิถุนายน	7 กรกฎาคม	8 สิงหาคม
อา จ อ พ พก ศ ส 1 2 3 4 5 6 7 8 9 10 11 12 13 14 15 16 17 18 19 20 21 22 23 24 25 26 27 28 29 30 31	อา จ อ พ พก ศ ส 1 2 3 4 5 6 7 8 9 10 11 12 13 14 15 16 17 18 19 20 21 22 23 24 25 26 27 28 29 30	อา จ อ พ พก ศ ส 1 2 3 4 5 6 7 8 9 10 11 12 13 14 15 16 17 18 19 20 21 22 23 24 25 26 27 28 29 30 31	อา จ อ พ พก ศ ส 1 2 3 4 5 6 7 8 9 10 11 12 13 14 15 16 17 18 19 20 21 22 23 24 25 26 27 28 29 30 31
9 กันยายน	10 ตุลาคม	11 พฤศจิกายน	12 ธันวาคม
อา จ อ พ พก ศ ส 1 2 3 4 5 6 7 8 9 10 11 12 13 14 15 16 17 18 19 20 21 22 23 24 25 26 27 28 29 30	อา จ อ พ พก ศ ส 1 2 3 4 5 6 7 8 9 10 11 12 13 14 15 16 17 18 19 20 21 22 23 24 25 26 27 28 29 30 31	อา จ อ พ พก ศ ส 1 2 3 4 5 6 7 8 9 10 11 12 13 14 15 16 17 18 19 20 21 22 23 24 25 26 27 28 29 30	อา จ อ พ พก ศ ส 1 2 3 4 5 6 7 8 9 10 11 12 13 14 15 16 17 18 19 20 21 22 23 24 25 26 27 28 29 30 31

๕. วันแรกของปีในปฏิทิน คือ วันที่.....เดือน.....

๖. วันสุดท้ายของปีในปฏิทิน คือ วันที่.....เดือน.....

๗. เดือนที่ลงท้ายด้วย “คม” มี.....วัน (มี.....เดือน)

๘. เดือนที่ลงท้ายด้วย “พันธ์” มี.....วัน (มี.....เดือน)

๙. เดือนที่ลงท้ายด้วย “ยน” มี.....วัน (มี.....เดือน)

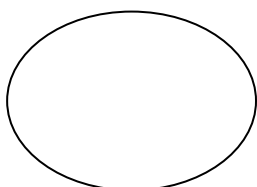
๔. ปอก.....

ตอนที่ ๒ ให้นักเรียนเขียนต่อย่อ แต่ละวันให้ถูกต้อง

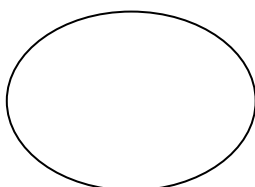
- | | |
|----------------|-------------|
| ๑. วันอาทิตย์ | ตัวย่อ..... |
| ๒. วันจันทร์ | ตัวย่อ..... |
| ๓. วันอังคาร | ตัวย่อ..... |
| ๔. วันพุธ | ตัวย่อ..... |
| ๕. วันพฤหัสบดี | ตัวย่อ..... |
| ๖. วันศุกร์ | ตัวย่อ..... |
| ๗. วันเสาร์ | ตัวย่อ..... |

ตอนที่ ๓ ให้นักเรียนระบายสีประจำวันให้ถูกต้อง

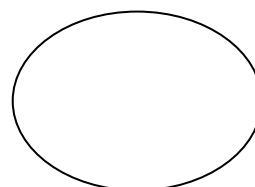
๑. วันอาทิตย์



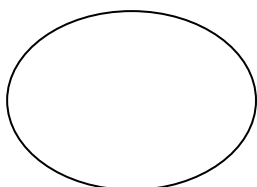
๒. วันจันทร์



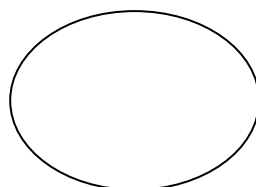
๓. วันอังคาร



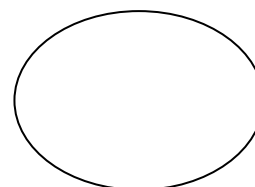
๔. วันพุธ



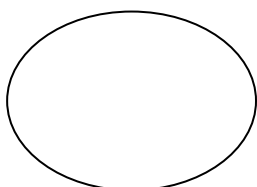
๕. วันพฤหัสบดี



๖. วันศุกร์



๗. วันเสาร์



ตอนที่ ๔ ให้นักเรียนเติมเดือนลงในวันสำคัญของปฏิทินประจำปี ๒๕๖๒

วันหยุดประจำปี 2562

เดือน.....
อ. 1 : วันขึ้นปีใหม่

กุมภาพันธ์
อ. 19 : วันมาฆบูชา

เดือน.....
ส. 6 : วันจักรี
จ. 8 : หยุดชดเชยวันจักรี
ศ. 12 : วันหยุดราชการพิเศษ
ส. 13 : วันสงกรานต์
อา. 14 : วันสงกรานต์
จ. 15 : วันสงกรานต์
อ. 16 : หยุดชดเชยวันสงกรานต์
*บางแห่งหยุดวันที่ 17 เมษายน ด้วย

เดือน.....
พ. 1 : วันแรงงาน
จ. 6 : วันพระราชพิธีบรมราชาภิเษก
พ. 9 : วันพืชมงคล
ส. 18 : วันวิสาขบูชา
จ. 20 : หยุดชดเชยวันวิสาขบูชา

เดือน.....
อ. 16 : วันอาสาฬหบูชา
พ. 17 : วันเข้าพรรษา
อา. 28 : วันเฉลิมพระชนมพรรษา ร.10
จ. 29 : หยุดชดเชยวันเฉลิมพระชนมพรรษา ร.10

เดือน.....
จ. 12 : วันแม่

เดือน.....
อา. 13 : วันคล้ายวันสวรรคต ร.9
จ. 14 : หยุดชดเชยวันคล้ายวันสวรรคต ร.9
พ. 23 : วันปิยมหาราช

เดือน.....
พ. 5 : วันคล้ายวันพระบรมราชสมภพ ร.9
วันชาติ และวันพ่อแห่งชาติ
อ. 10 : วันรัฐธรรมนูญ
อ. 31 : วันสิ้นปี

WWW.KAPOOK.COM
ข้อมูล ณ วันที่ 14 ก.พ. 62

ตอนที่ ๕ ให้นักเรียนเขียนชื่อเดือนแบบจันทรคติ ตัวย่อ ๑๒ เดือน พร้อมจำนวนวัน

จ.ค.	พ.ย.	มี.ค.	ต.ค.	ส.ค.	มิ.ย.
ก.ย.	พ.ค.	ก.ค.	เม.ย.	ก.พ.	ม.ค.

๑. มกราคม เดือน..... ตัวย่อ..... มี.....วัน
๒. กุมภาพันธ์ เดือน..... ตัวย่อ..... มี.....วัน
๓. มีนาคม เดือน..... ตัวย่อ..... มี.....วัน
๔. เมษายน เดือน..... ตัวย่อ..... มี.....วัน
๕. พฤษภาคม เดือน..... ตัวย่อ..... มี.....วัน
๖. มิถุนายน เดือน..... ตัวย่อ..... มี.....วัน
๗. กรกฎาคม เดือน..... ตัวย่อ..... มี.....วัน
๘. สิงหาคม เดือน..... ตัวย่อ..... มี.....วัน
๙. กันยายน เดือน..... ตัวย่อ..... มี.....วัน
๑๐. ตุลาคม เดือน..... ตัวย่อ..... มี.....วัน
๑๑. พฤศจิกายน เดือน..... ตัวย่อ..... มี.....วัน
๑๒. ธันวาคม เดือน..... ตัวย่อ..... มี.....วัน

ตอนที่ ๖ ให้นักเรียนเขียนปีนักษัตรให้ถูกต้องพร้อมระบายสี



๑. ปี.....



๒. ปี.....



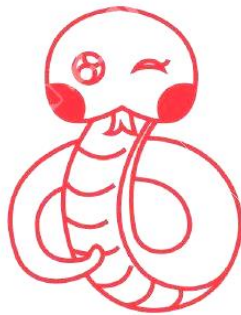
๓. ปี.....



๔. ปี.....



๕. ปี.....



๖. ปี.....



๗. ปี.....



๘. ปี.....




๙. ปี.....



๑๐. ปี.....




๑๑. ปี.....



๑๒. ปี.....

ตอนที่ ๗ ให้นักเรียนวาดรูปพร้อมระบายสีช่วงเวลาในชีวิตประจำวัน

เวลาเช้า




เวลาเที่ยง

เวลาบ่าย

เวลาเย็น

เวลาค่ำ



ตอนที่ ๘ ให้นักเรียนกา X คำตอบที่ถูกต้องที่สุด

๑. ใน ๑ สัปดาห์มีกี่วัน

ก. ๓ วัน

ข. ๕ วัน

ค. ๗ วัน

๒. วันนี้เป็นวันเสาร์ พรุ่งนี้จะเป็นวันอะไร

ก. วันศุกร์

ข. วันอาทิตย์

ค. วันจันทร์

๓. “วันนี้วันที่ ๒๘ เป็นวันสิ้นเดือน” ข้อความนี้กล่าวถึงเดือนอะไร

ก. กุมภาพันธ์

ข. พฤษภาคม

ค. กันยายน

๔. ใน ๑ ปีมีกี่วัน

ก. ๓๖๐ วัน

ข. ๓๖๒ วัน

ค. ๓๖๕ หรือ ๓๖๖ วัน

๕. ข้อใดเป็นการนับปีแบบสากล

ก. พุทธศักราช

ข. คริสต์ศักราช

ค. อีจเราะห์ศักราช

๖. เราจะเห็นดวงจันทร์เต็มดวงในวันใด

ก. วันขึ้น ๑ ค่ำ

ข. วันแรม ๑๔ ค่ำ

ค. วันขึ้น ๑๕ ค่ำ

๗. ปีนี้เป็นปีกุน ปีหน้าจะเป็นปีอะไร

ก. ชวด

ข. จอ

ค. วอก

๘. ถ้าต้องการดู วัน เดือน ปี เราจะดูได้จากสิ่งใด

ก. ปฏิทิน

ข. ภาพถ่าย

ค. นาฬิกาทราย

๙. ถ้าวันนี้เป็นวันที่ ๒๓ พฤษภาคม ๒๕๖๒ เมื่อก่อนนี้เป็นวันที่ตามข้อใด

ก. วันที่ ๒๒ พฤษภาคม

ข. วันที่ ๒๔ พฤษภาคม

ค. วันที่ ๒๕ พฤษภาคม

๑๐. จี๊เอ้อ่านหนังสือในตอนเช้า ส่วนตอนบ่ายไปเที่ยวสวนสัตว์ และตอนค่ำดู

การ์ตูน ข้อความนี้กำลังกล่าวถึงเรื่องอะไร

ก. การดูการ์ตูนของจี๊เอ้อ


ข. การอ่านหนังสือของจี๊เอ้อ

ค. ช่วงเวลาการทำกิจกรรมของจี๊เอ้อ

หน่วยการเรียนรู้ที่ ๑ วัน เวลา และเรื่องราวทางประวัติศาสตร์
บทที่ ๒ ความเป็นมาของเรา

ตอนที่ ๑ ให้นักเรียนใส่ข้อมูลเกี่ยวกับตัวเองลงในช่องว่าง

๑. ชื่อ.....นามสกุล.....
๒. วัน เดือน ปีเกิด.....
๓. ชื่อ-นามสกุล บิดา.....อาชีพ.....
๔. ชื่อ-นามสกุล มารดา.....อาชีพ.....
๕. อยู่บ้านเลขที่.....ซอย.....ถนน.....
ตำบล/แขวง.....อำเภอ/เขต.....
จังหวัด.....รหัสไปรษณีย์.....โทรศัพท์.....
๖. เชื้อชาติ.....สัญชาติ.....ศาสนา.....
๗. น้ำหนัก.....กิโลกรัม ส่วนสูง.....เซนติเมตร กลุ่มเลือด.....
๘. โรคประจำตัว.....
๙. ชื่อโรงเรียน.....
๑๐. ชื่อครูประจำชั้น.....
๑๑. ชื่อเพื่อนสนิท.....
๑๒. กิจกรรมที่ชอบทำในเวลาว่าง.....



ตอนที่ ๒ ให้นักเรียนใส่ข้อมูลเกี่ยวกับครอบครัวตัวเองลงในช่องว่าง

๑. สมาชิกในครอบครัวของฉันมี.....คน คือ

๑.

๒.

๓.

๔.

๕.

๒. สถานที่ท่องเที่ยวที่ครอบครัวชอบไปคือ.....

๓. กิจกรรมที่ทำร่วมกันภายในครอบครัว.....

.....

.....

๔. ความรู้สึกของฉันที่มีต่อครอบครัว.....

.....

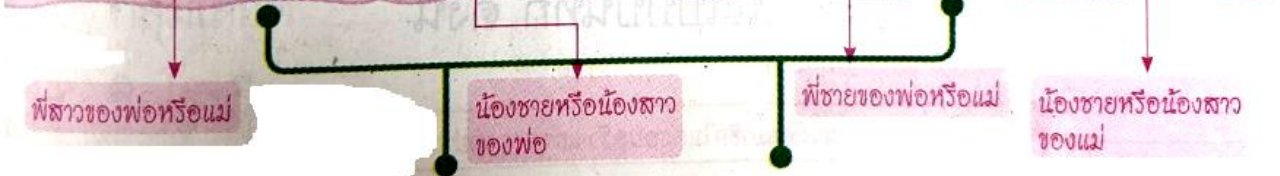
.....



ชื่อผู้บันทึกข้อมูล.....


วัน เดือน ปี ที่บันทึกข้อมูล.....

ตอนที่ ๓ ให้นักเรียนเติมคำลงในช่องว่างให้ถูกต้อง



ตอนที่ ๔ ให้นักเรียนตอบคำถามต่อไปนี้

๑. พ่อของพ่อ คือ.....
๒. แม่ของพ่อ คือ.....
๓. พ่อของแม่ คือ.....
๔. แม่ของแม่ คือ.....
๕. พี่ชายของพ่อหรือแม่ คือ.....
๖. พี่สาวของพ่อหรือแม่ คือ.....
๗. น้องของแม่ คือ.....
๘. น้องของพ่อ คือ.....



ตอนที่ ๕ ให้นักเรียนกา X คำตอบที่ถูกต้องที่สุด

๑. เราควรถามประวัติของตนเองจากใครจึงจะได้ข้อมูลถูกต้องที่สุด
 - ก. ครู
 - ข. เพื่อน
 - ค. พ่อแม่
๒. ประวัติของตัวเองในเรื่องใดที่ตัวเราน่าจะรู้ดีที่สุด
 - ก. ชื่อ นามสกุล
 - ข. โรงพยาบาลที่เกิด
 - ค. เคยป่วยเป็นโรคอะไร
๓. สิ่งใดที่เป็นประวัติของตนเอง
 - ก. อายุของตนเอง
 - ข. วันเกิดของเพื่อน
 - ค. ที่ทำงานพ่อกับแม่
๔. ข้อใดเป็นประวัติของครอบครัวตนเอง
 - ก. คุณครูมีลูกกี่คน
 - ข. พ่อประกอบอาชีพ
 - ค. เพื่อนของพ่ออายุ
๕. ใครต่อไปนี้ให้ข้อมูลเกี่ยวกับประวัติครอบครัวได้ถูกต้องที่สุด
 - ก. น้าอ
 - ข. ลุงป้า
 - ค. พ่อแม่
๖. บุคคลต่อไปนี้ใครที่เราควรถามประวัติความเป็นมาของเรา
 - ก. ครู
 - ข. พระสงฆ์
 - ค. ปู่ย่า ตายาย
๗. แหล่งข้อมูลใดให้ข้อมูลประวัติครอบครัว
 - ก. สุนัขบัตร
 - ข. หนังสือพิมพ์
 - ค. ทะเบียนบ้าน
๘. ข้อใดไม่ใช่คำถามเกี่ยวกับประวัติครอบครัว
 - ก. วันนี้วันที่เท่าใด
 - ข. เป็นคนจังหวัดอะไร
 - ค. เคยประกอบอาชีพใด
๙. ถ้าต้องการทราบอาชีพของปู่ย่า ควรสอบถามใคร
 - ก. น้า
 - ข. พ่อ
 - ค. ยาย
๑๐. ข้อใดเป็นผลดีของการศึกษาประวัติครอบครัว
 - ก. ทำให้มีฐานะมั่นคง
 - ข. ทำให้มีชื่อเสียงโด่งดัง
 - ค. เกิดความผูกพันในครอบครัว



หน่วยการเรียนรู้ที่ ๒ การดำเนินชีวิต

บทที่ ๑ ชีวิตที่เปลี่ยนแปลง

ตอนที่ ๑ ให้นักเรียนขีด ✓ ทับภาพสิ่งของเครื่องใช้ในสมัยอดีต

๑.



๒.



๓.



๖.




๗.



๘.



ตอนที่ ๒ ให้นักเรียนสังเกตภาพแล้วเปรียบเทียบการเปลี่ยนแปลงโดยขีด ✓ ลงใน ○



อดีต

ปัจจุบัน

สิ่งที่เปลี่ยนแปลง	อดีต	ปัจจุบัน
๑. บ้าน	<input type="radio"/> ไม้ <input type="radio"/> ปูน	<input type="radio"/> ไม้ <input type="radio"/> ปูน
๒. การเดินทาง	<input type="radio"/> แม่น้ำ <input type="radio"/> ถนน	<input type="radio"/> แม่น้ำ <input type="radio"/> ถนน
๓. ยานพาหนะ	<input type="radio"/> เรือ <input type="radio"/> รถยนต์	<input type="radio"/> เรือ <input type="radio"/> รถยนต์
๔. จำนวนผู้คน	<input type="radio"/> มาก <input type="radio"/> น้อย	<input type="radio"/> มาก <input type="radio"/> น้อย
๕. สิ่งแวดล้อม	<input type="radio"/> โปรง <input type="radio"/> แออัด	<input type="radio"/> โปรง <input type="radio"/> แออัด



ตอนที่ ๓ ให้นักเรียน ○ ทับหมายเลขของเล่นในสมัยอดีตที่นักเรียนเคยเล่น

๑.



๒.



๓.



๔.



๕.



๖.



๗.



๘.



ตอนที่ ๔ ให้นักเรียนกา X คำตอบที่ถูกต้องที่สุด

๑. ในสมัยของปู่ย่า ตายายมักจะสร้างบ้านด้วยวัสดุใด
 - ก. ไม้
 - ข. กระเบื้อง
 - ค. คอนกรีต
๒. ข้อใดเป็นสภาพแวดล้อมในสมัยปู่ย่า ตายาย
 - ก. มีตึกสูงๆจำนวนมาก
 - ข. มีสวนที่มีต้นไม้ร่มรื่นจำนวนมาก
 - ค. เต็มไปด้วยถนนร้านค้า และโรงงาน
๓. สิ่งใดเป็นเครื่องมือเครื่องใช้ในสมัยก่อน
 - ก. หม้อดิน
 - ข. เตารีดไฟฟ้า
 - ค. เครื่องคิดเลข
๔. ข้อใดเป็นสิ่งที่ของเครื่องใช้ที่นิยมในสมัยปัจจุบัน
 - ก. ตะเกียง
 - ข. เตารีดถ่าน
 - ค. เครื่องคิดเลข
๕. สิ่งของเครื่องใช้ในสมัยปัจจุบันมีลักษณะที่แตกต่างจากสมัยก่อนอย่างไร
 - ก. มีรูปแบบง่าย ๆ ไม่ซับซ้อน
 - ข. ทำจากวัสดุที่ได้จากธรรมชาติ
 - ค. ใช้งานง่าย ทุ่นเวลาในการทำงาน
๖. เพราะอะไรสิ่งของเครื่องใช้สมัยของเราจึงแตกต่างจากสมัยก่อน
 - ก. ความก้าวหน้าทางเทคโนโลยี
 - ข. คนในสมัยก่อนไม่สนใจความเจริญ
 - ค. คนในสมัยเราฉลาดกว่าคนสมัยก่อน
๗. การประกอบอาชีพของคนในสมัยก่อนต้องพึ่งพาสิ่งใดเป็นหลัก
 - ก. ธรรมชาติ
 - ข. คอมพิวเตอร์
 - ค. เครื่องจักรกลขนาดใหญ่
๘. การเดินทางในสมัยปัจจุบันนิยมใช้วิธีใด
 - ก. นั่งรถไฟ
 - ข. โดยสารรถยนต์
 - ค. พายเรือไปตามแม่น้ำลำคลอง

๙. ข้อใดเป็นผลจากการที่สังคมมีคนมากขึ้น

ก. ป่าไม้ถูกทำลาย

ข. มนุษย์สะดวกสบายขึ้น


ค. มีการตั้งบ้านเรือนอยู่อย่างกระจัดกระจาย

๑๐. เหตุการณ์ใดที่เป็นเหตุการณ์สำคัญในครอบครัว

ก. แม่คลอดน้องใหม่

ข. โรงเรียนจัดงานวันเด็ก

ค. เพื่อนของพ่อประสบอุบัติเหตุ



หน่วยการเรียนรู้ที่ ๒ การดำเนินชีวิต
บทที่ ๒ เหตุการณ์ในอดีตที่มีผลกับปัจจุบัน

ตอนที่ ๑ ให้นักเรียนดูภาพแล้วตอบคำถาม

อดีต

ปัจจุบัน

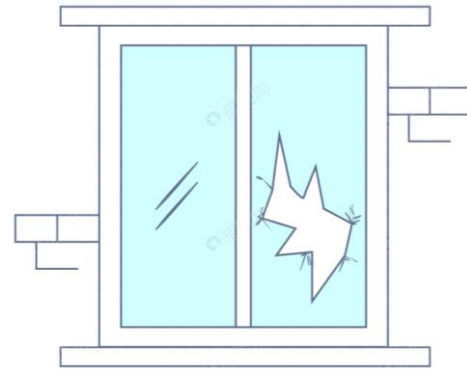
๑.



นักเรียนเล่นน้ำฝน

.....
.....

๒.



นักเรียนเตะฟุตบอลในห้อง

.....
.....

๓.



นักเรียนเหย่สุนัขจนโดนกัด

.....
.....

ตอนที่ ๒ ให้นักเรียนโยงเส้นจับคู่เหตุการณ์สำคัญในอดีตกับผลที่เกิดขึ้นที่สัมพันธ์กัน

๑.

แม่คลอดน้อง

เกิดความเศร้าโศก
เสียใจ

๒.

พ่อแม่ย้ายไปทำงาน
ที่จังหวัดอื่นดีใจและเกิดความ
ภาคภูมิใจ

๓.

นักเรียนต้องย้าย
โรงเรียนใหม่นักเรียนต้องย้าย
โรงเรียนตามไปด้วย

๔.

คุณปู่เสียชีวิต

พ่อแม่ต้องการปลูก
สร้างบ้านใหม่

๕.

นักเรียนสอบได้ที่
หนึ่งตื่นเต้นที่จะได้
สมาชิกใหม่

๖.

บ้านเดิมทรุดโทรม
และใกล้พังตื่นเต้นที่จะได้พบ
เพื่อนใหม่

ตอนที่ ๓ ให้นักเรียนดูภาพแล้วตอบคำถาม

อดีต



ปัจจุบัน



ภาพในอดีตคือ.....
.....

ภาพในปัจจุบันคือ.....
.....

เป็นการเปลี่ยนแปลงด้าน ที่อยู่อาศัย การคมนาคม

ทั้งสองภาพนี้เหมือนกันหรือแตกต่างกันอย่างไร

.....
.....
.....
.....
.....

ตอนที่ ๔ ให้นักเรียนกา X คำตอบที่ถูกต้องที่สุด

๑. แม่น้ำลำคลองในอดีตแตกต่างกับปัจจุบันอย่างไร
 - ก. อดีตน้ำไม่ท่วม ปัจจุบันน้ำท่วม
 - ข. อดีตน้ำสกปรก ปัจจุบันน้ำดื่มกิน
 - ค. อดีตน้ำใสสะอาด ปัจจุบันน้ำเน่าเสีย
๒. การประกอบใดต้องพึ่งพาธรรมชาติ
 - ก. ค้าขาย
 - ข. เพาะปลูก
 - ค. เลี้ยงสัตว์
๓. เพราะเหตุใดในปัจจุบันคนจึงนิยมเดินทางด้วยรถโดยสาร
 - ก. ประหยัดเวลา
 - ข. ไม่ต้องเสียค่าใช้จ่าย
 - ค. ไม่มีการเดินทางด้วยวิธีอื่นๆ
๔. ทำไมชาวนา ชาวไร่ ชาวนวนในปัจจุบันจึงน้อยลง
 - ก. เพราะคนไม่มีพื้นที่นา
 - ข. เพราะไม่มีทุนในการทำนา
 - ค. เพราะคนหันไปประกอบอาชีพอื่น
๕. ข้อใดเป็นผลจากการที่สังคมมีคนมากขึ้น
 - ก. ป่าไม้ถูกทำลาย
 - ข. มนุษย์สะดวกสบายขึ้น
 - ค. มีการตั้งบ้านเรือนอยู่อย่างกระจัดกระจาย
๖. เพราะอะไรคนในปัจจุบันจึงนิยมสร้างบ้านตามแนวถนน
 - ก. ค่ารถราคาถูก
 - ข. ประหยัดพื้นที่
 - ค. เดินทางสะดวก
๗. บ้านในปัจจุบันนิยมมุงหลังคาด้วยอะไร
 - ก. ไม้
 - ข. จาก
 - ค. กระเบื้อง
๘. เมื่อมีคนเข้ามาอาศัยทำงานในเมืองมากขึ้นมีผลกระทบต่อความเป็นอยู่อย่างไร
 - ก. เกิดชุมชนแออัด
 - ข. แย่งกันไปทำงาน
 - ค. มีการช่วยเหลือกันในชุมชน

๙. ข้อใดเป็นสิ่งที่เครื่องใช้ในปัจจุบัน

ก. ลูกคิด

ข. ตะเกียง


ค. เต้าแก๊ส

๑๐. เหตุการณ์สำคัญในครอบครัวใดไม่ใช่เรื่องน่ายินดี

ก. คุณน้าไม่สบาย

ข. แม่คลอดน้องใหม่

ค. พ่อได้เลื่อนตำแหน่ง



หน่วยการเรียนรู้ที่ ๓ ประเทศไทย
บทที่ ๑ สัญลักษณ์ของชาติไทย

ตอนที่ ๑ ให้นักเรียนดูสัญลักษณ์ของชาติ แล้วตอบคำถามต่อไปนี้

๑.



ชาติ.....
.....

๒.



ศาสนา.....
.....
.....

๓.



พระมหากษัตริย์.....
.....
.....
.....

ตอนที่ ๒ ให้นักเรียนเติมเนื้อเพลงชาติไทยให้สมบูรณ์ แล้วตอบคำถาม

เพลงชาติไทย

ประเทศ.....รวมเลือดเนื้อชาติ.....

เป็นประชารัฐไทท.....ไทยทุกส่วน

อยู่.....คงไว้ได้.....มวล

ด้วยไทยล้วน.....รัก.....

ไทยนี้.....แต่ถึงรบไม่ขลาด

.....จะไม่ให้ใครข่มขี่

สละ.....ทุกหยาด.....ชาติพลี

เถลิงประเทศ.....ทวีมีชัย ชโย

๑. เราจะได้ยินเพลงชาติในเวลาใดบ้าง.....

๒. เมื่อได้ยินเพลงชาติ เราต้องปฏิบัติตนอย่างไร.....




ตอนที่ ๓ ให้นักเรียนระบายสีธงชาติไทย แล้วตอบคำถาม

๑. สีแดง หมายถึง.....
๒. สีขาว หมายถึง.....
๓. สีน้ำเงิน หมายถึง.....

ตอนที่ ๔ ให้นักเรียนเติมคำลงในสัญลักษณ์อื่นๆของประเทศไทย

แผนที่ประเทศไทย	ช้าง	วัดพระศรีรัตนศาสดาราม (วัดพระแก้ว)
เงินตราไทย	ต้นราชพฤกษ์ (ต้นคูณ)	อาหารไทย (ต้มยำกุ้ง)
การแต่งกายแบบไทย	ภาษาไทย	ศาลาไทย



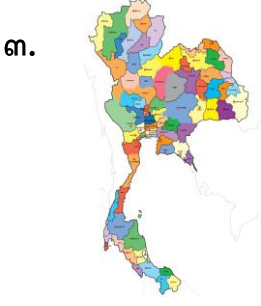
.....

.....



.....

.....



.....

.....



.....

.....



.....

.....



.....

.....




.....

.....



.....

.....



.....

.....

ตอนที่ ๕ ให้นักเรียนกา X คำตอบที่ถูกต้องที่สุด

๑. สิ่งใดเป็นสัญลักษณ์ของชาติไทย

ก. ธงชาติ	ข. โรงเรียน	ค. เพลงสากล
-----------	-------------	-------------
๒. ขณะอยู่ที่โรงเรียนเมื่อถึงเวลา ๘.๐๐ นาฬิกา เราต้องทำอะไร

ก. สวดมนต์ไหว้พระ	ข. รับประทานอาหารเช้า	ค. เข้าแถวยืนตรงเพื่อเคารพธงชาติ
-------------------	-----------------------	----------------------------------
๓. เมื่อได้ยินเสียงเพลงชาติเราต้องปฏิบัติตนอย่างไร

ก. ยืนตรง	ข. โคนิ่งคำนับ	ค. ยืนก้มศีรษะ
-----------	----------------	----------------
๔. ข้อใดไม่ใช่สัญลักษณ์เกี่ยวกับชาติ

ก. ธงชาติไทย	ข. อาหารไทย	ค. เพลงชาติไทย
--------------	-------------	----------------
๕. “ข้าวรพุทธเจ้า เอามโนและศิระกราน...” เป็นเนื้อร้องของเพลงใด

ก. เพลงชาติไทย	ข. เพลงสดุดีมหาราชา	ค. เพลงสรรเสริญพระบารมี
----------------	---------------------	-------------------------
๖. ธงมหาราชมีอะไรอยู่บนพื้นธง

ก. ช้าง	ข. ครุฑ	ค. ธรรมจักร
---------	---------	-------------
๗. เพลงใดเป็นเครื่องหมายแทนพระมหากษัตริย์

ก. เพลงไทยเดิม	ข. เพลงสามัคคีชุมนุม	ค. เพลงสรรเสริญพระบารมี
----------------	----------------------	-------------------------
๘. ประเทศไทยมีรูปร่างคล้ายกับอะไร

ก. ดาบ	ข. ปืน	ค. ขวานโบราณ
--------	--------	--------------
๙. ข้อใดเป็นประเพณีไทย

ก. แข็งเม็ง	ข. คริสต์มาส	ค. สงกรานต์
-------------	--------------	-------------
๑๐. สิ่งใดที่แสดงถึงความเป็นเอกราชของชาติไทย

ก. อาหารไทย	ข. ธงชาติไทย	ค. แผนที่ประเทศไทย
-------------	--------------	--------------------