



เอกสารประกอบสอน
วิชาคณิตศาสตร์
ชั้นประถมศึกษาปีที่ 3

หน่วยที่ 1

เรื่อง จำนวนนับไม่เกิน 100,000



ชื่อ-นามสกุล

ชื่อเล่น

ชั้นประถมศึกษาปีที่ 3/..... เลขที่.....

ภาคเรียนที่..... ปีการศึกษา.....

โรงเรียนสาธิตมหาวิทยาลัยราชภัฏสวนสุนันทา (ประถม)
สังกัดกระทรวงการอุดมศึกษา วิทยาศาสตร์ วิจัยและนวัตกรรม

หน้า 2

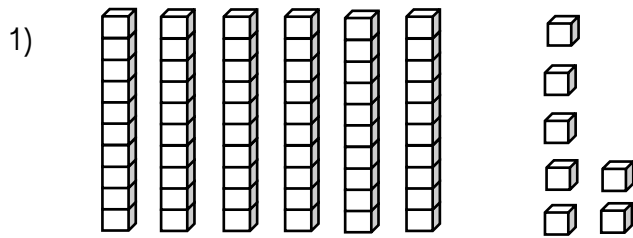
คำนำ

สารบัญ

เรื่อง	หน้า
1) ทบทวนจำนวนนับไม่เกิน 1,000	4
2) จำนวนนับไม่เกิน 10,000	9
3) การเขียนตัวเลขและตัวหนังสือแทนจำนวน	11
4) จำนวนนับไม่เกิน 100,000	17
5) ค่าของตัวเลขในแต่ละหลักและการเขียนในรูปกระจาย	19
6) การเปรียบเทียบจำนวน	23
7) การเรียงลำดับจำนวน	24
8) การนับเพิ่ม	26
9) การนับลด	27
10) แบบรูปและความสัมพันธ์ของจำนวน	28

 ทบทวนจำนวนนับไม่เกิน 1,000

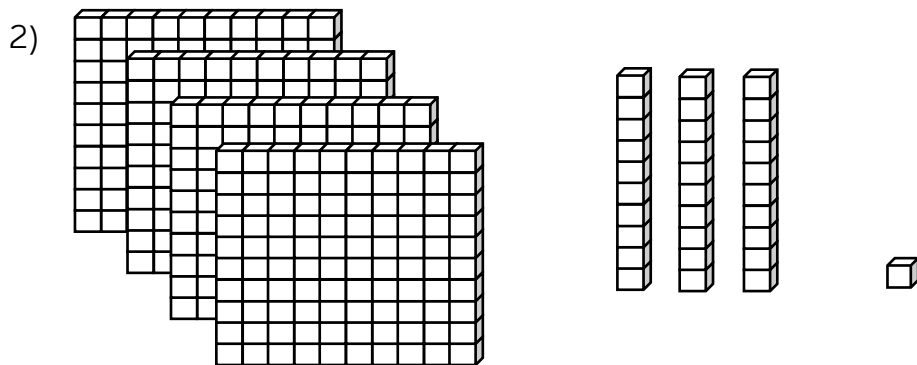
จากรูป จงเขียนเป็นตัวเลขฮินดูอารบิก ตัวเลขไทย และตัวหนังสือ



ตัวเลขฮินดูอารบิก

ตัวเลขไทย

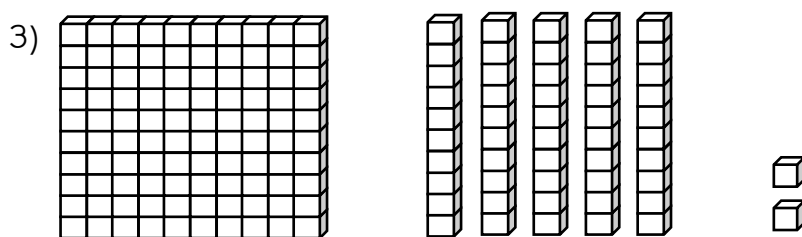
ตัวหนังสือ



ตัวเลขฮินดูอารบิก

ตัวเลขไทย

ตัวหนังสือ

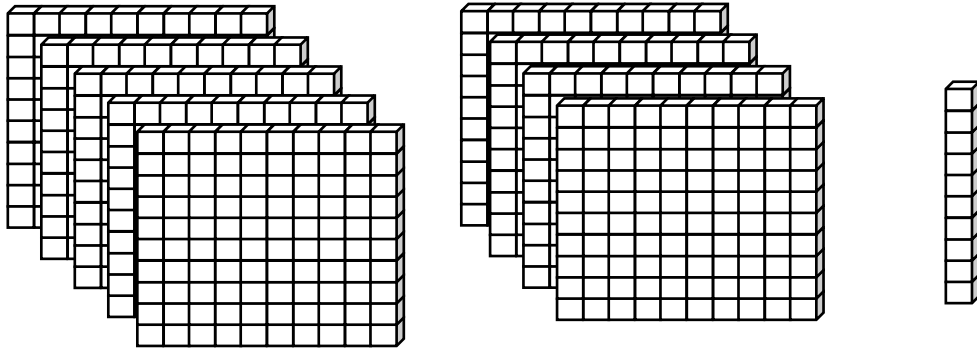


ตัวเลขฮินดูอารบิก

ตัวเลขไทย

ตัวหนังสือ

4)

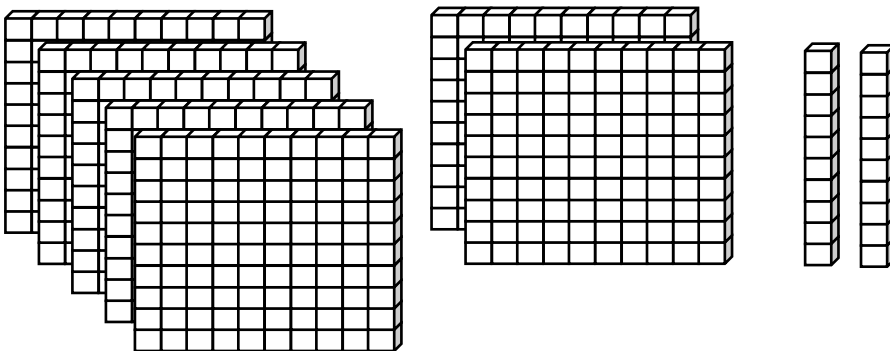


ตัวเลขฮินดูอารบิก

ตัวเลขไทย

ตัวหนังสือ

5)

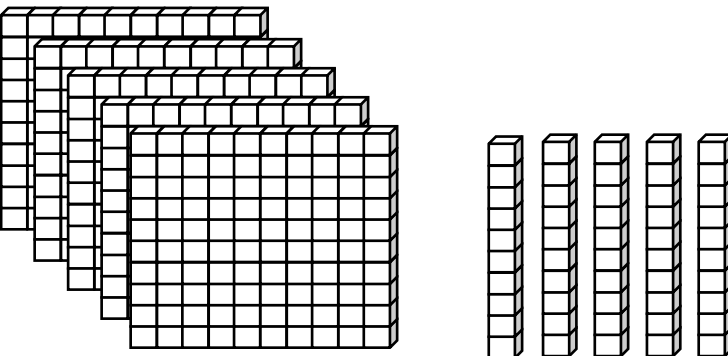


ตัวเลขฮินดูอารบิก

ตัวเลขไทย

ตัวหนังสือ

6)



ตัวเลขฮินดูอารบิก

ตัวเลขไทย

ตัวหนังสือ

จงเขียนเป็นตัวเลขไทยและตัวหนังสือ

1) 58

ตัวเลขไทย

ตัวหนังสือ

2) 740

ตัวเลขไทย

ตัวหนังสือ

3) 103

ตัวเลขไทย

ตัวหนังสือ

4) 296

ตัวเลขไทย

ตัวหนังสือ

5) 961

ตัวเลขไทย

ตัวหนังสือ

6) 785

ตัวเลขไทย

ตัวหนังสือ

7) 542

ตัวเลขไทย

ตัวหนังสือ

8) 331

ตัวเลขไทย

ตัวหนังสือ

จงเขียนเป็นตัวเลขฮินดูอารบิก

1) ๑๓

ตัวเลขฮินดูอารบิก.....

2) ๙๘๗

ตัวเลขฮินดูอารบิก.....

3) ๖๗๕

ตัวเลขฮินดูอารบิก.....

4) ๕๔๑

ตัวเลขฮินดูอารบิก.....

5) ๓๒๔

ตัวเลขฮินดูอารบิก.....

6) ๕๕๖

ตัวเลขฮินดูอารบิก.....

7) ๓๒๒

ตัวเลขฮินดูอารบิก.....

8) ๕๖๗

ตัวเลขฮินดูอารบิก.....

9) ๕๐๖

ตัวเลขฮินดูอารบิก.....

10) ๒๔๐

ตัวเลขฮินดูอารบิก.....

จงเขียนเป็นตัวเลขฮินดูอารบิก

1) เจ็ดสิบหก

ตัวเลขฮินดูอารบิก.....

2) แปดร้อยยี่สิบ

ตัวเลขฮินดูอารบิก.....

3) สองร้อยเจ็ดสิบสาม

ตัวเลขฮินดูอารบิก.....

4) สี่ร้อยแปด

ตัวเลขฮินดูอารบิก.....

5) สี่ร้อยห้าสิบเอ็ด

ตัวเลขฮินดูอารบิก.....

6) หกร้อยสามสิบห้า

ตัวเลขฮินดูอารบิก.....

7) เก้าร้อยเก้าสิบ

ตัวเลขฮินดูอารบิก.....

8) หนึ่งพัน

ตัวเลขฮินดูอารบิก.....

9) ห้าร้อยเอ็ด

ตัวเลขฮินดูอารบิก.....

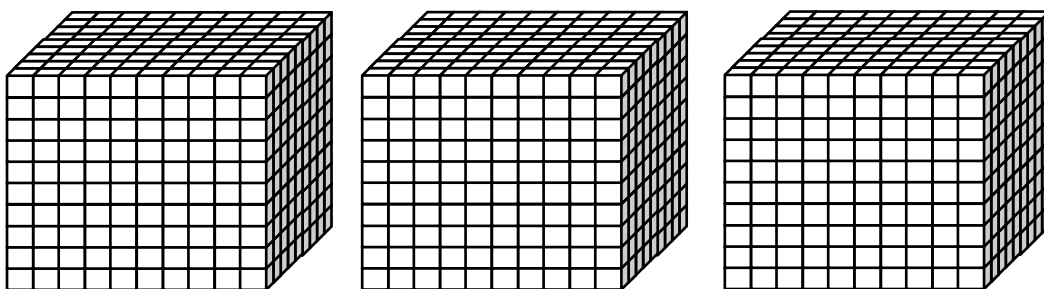
10) หกร้อยหกสิบ

ตัวเลขฮินดูอารบิก.....

✿ จำนวนนับไม่เกิน 10,000

จากภาพ จงเขียนเป็นตัวเลขฮินดูอารบิก ตัวเลขไทย และตัวหนังสือ

1)

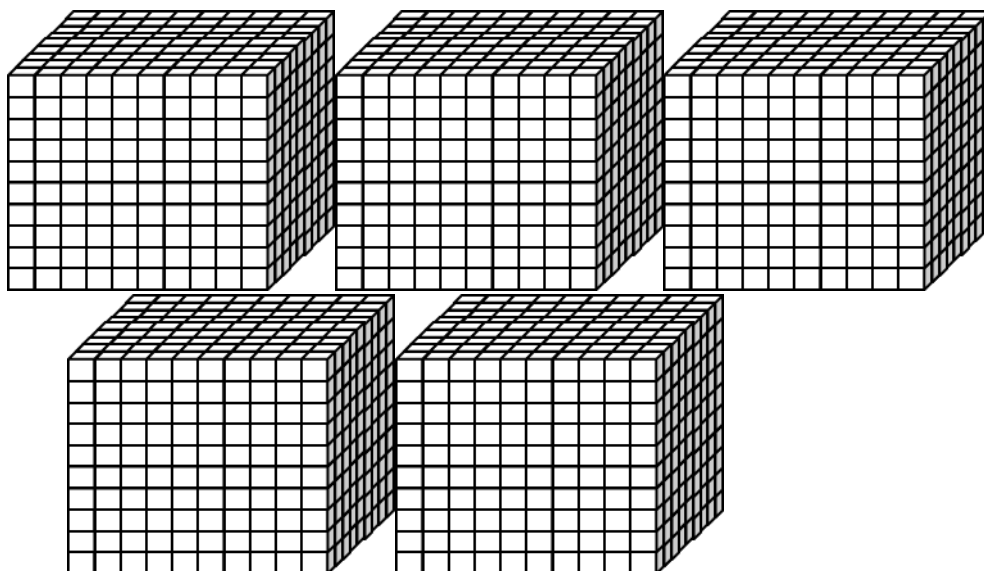


ตัวเลขฮินดูอารบิก

ตัวเลขไทย

ตัวหนังสือ

2)

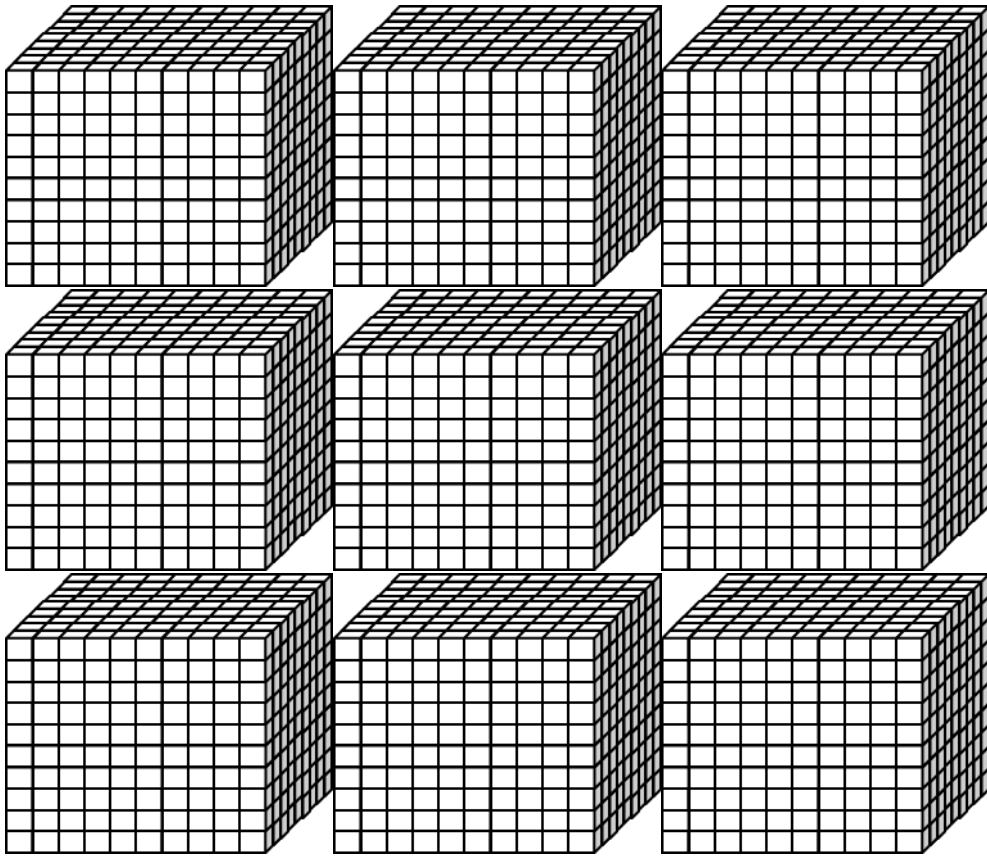


ตัวเลขฮินดูอารบิก

ตัวเลขไทย

ตัวหนังสือ

3)

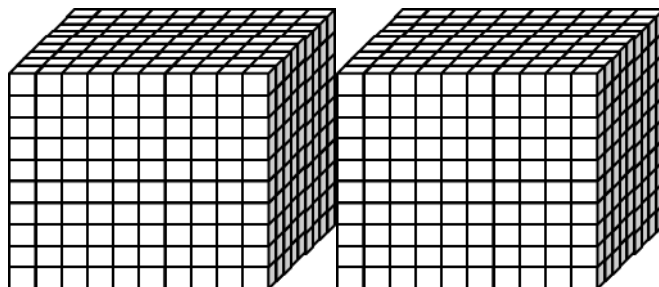


ตัวเลขฮินดูอารบิก

ตัวเลขไทย

ตัวหนังสือ

4)



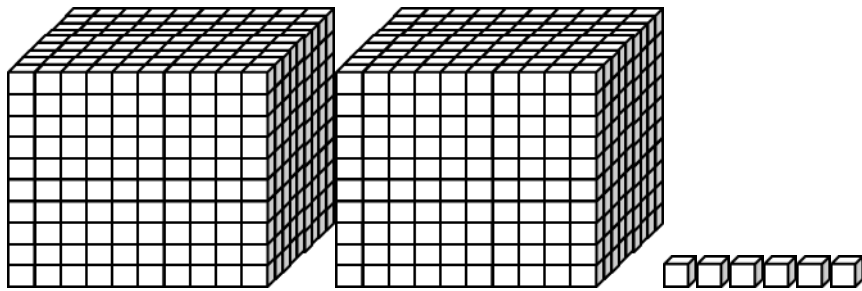
ตัวเลขฮินดูอารบิก

ตัวเลขไทย

ตัวหนังสือ

✿ การเขียนตัวเลขและตัวหนังสือแทนจำนวน

1)

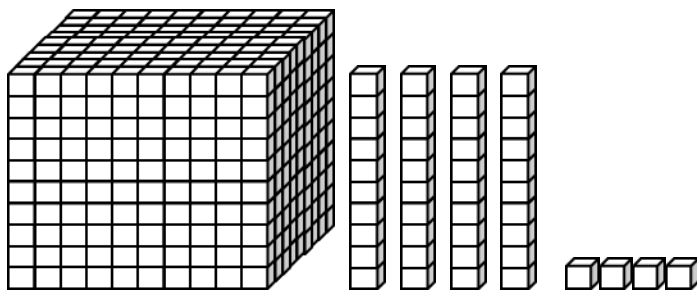


ตัวเลขฮินดูอารบิก

ตัวเลขไทย

ตัวหนังสือ

2)

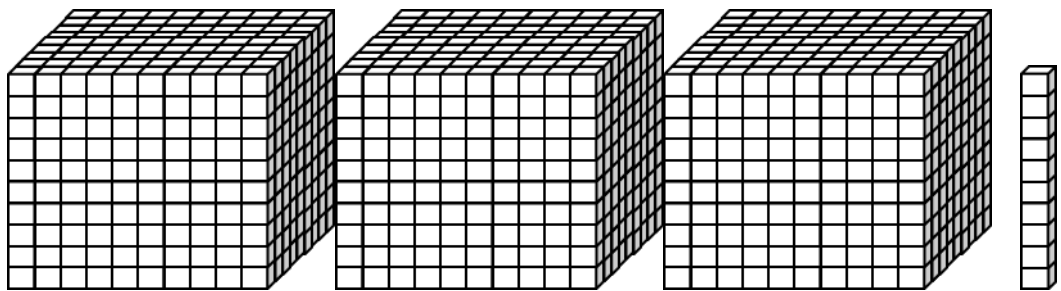


ตัวเลขฮินดูอารบิก

ตัวเลขไทย

ตัวหนังสือ

3)

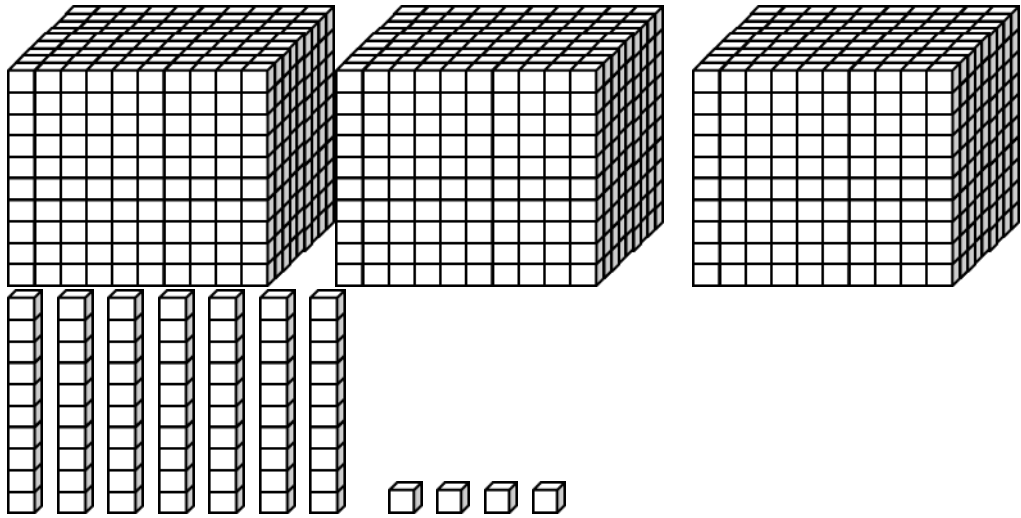


ตัวเลขฮินดูอารบิก

ตัวเลขไทย

ตัวหนังสือ

4)

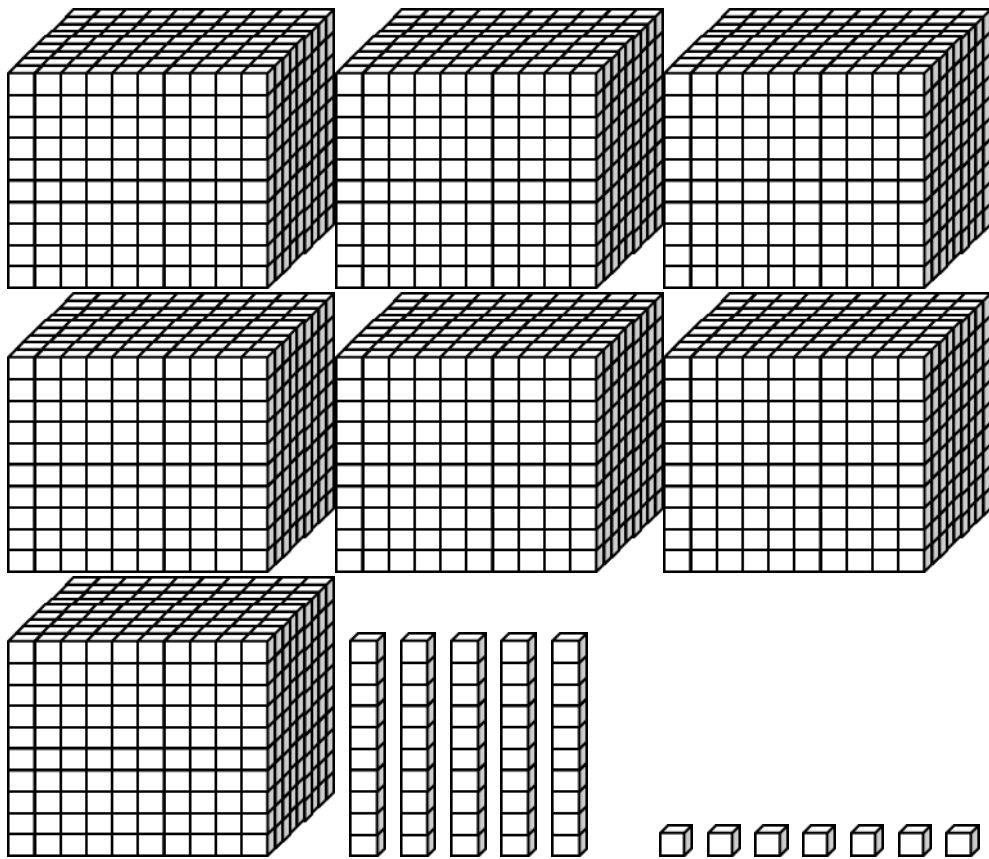


ตัวเลขฮินดูอารบิก _____

ตัวเลขไทย _____

ตัวหนังสือ _____

5)

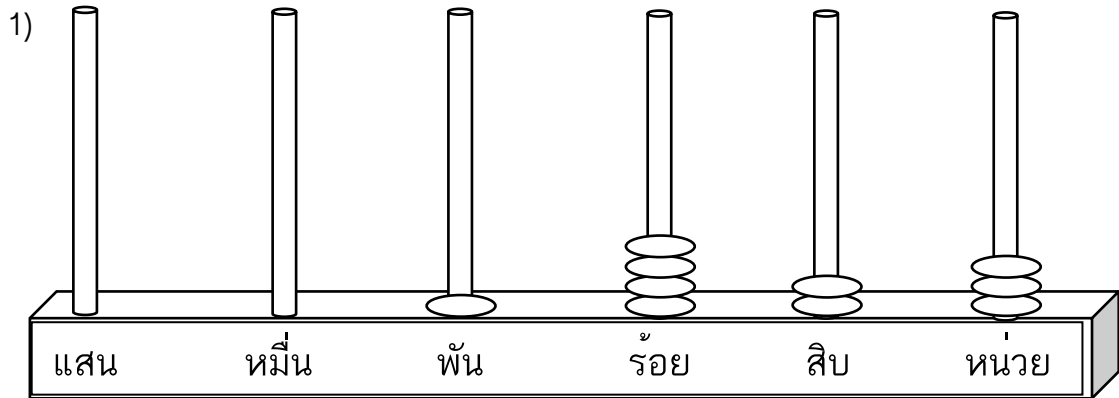


ตัวเลขฮินดูอารบิก _____

ตัวเลขไทย _____

ตัวหนังสือ _____

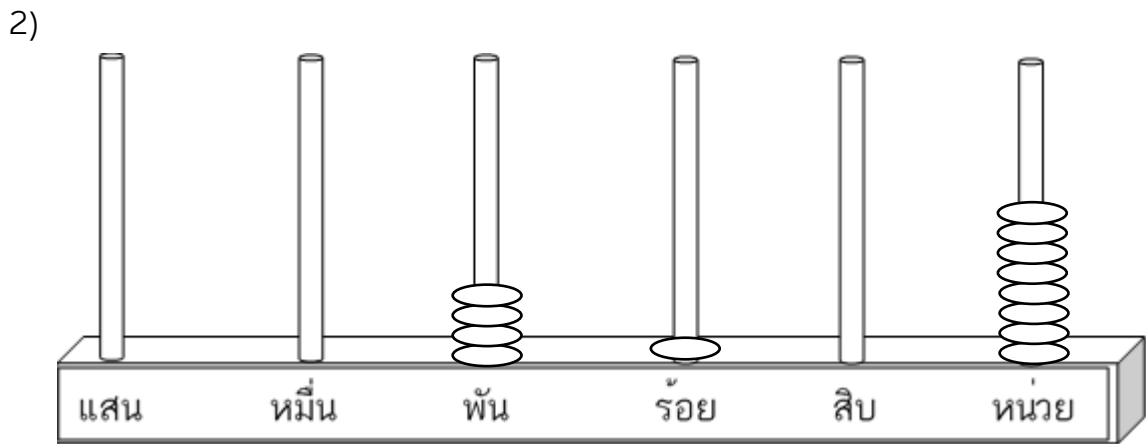
จากรูป จงเขียนเป็นตัวเลขฮินดูอารบิก ตัวเลขไทย และตัวหนังสือ



ตัวเลขฮินดูอารบิก

ตัวเลขไทย

ตัวหนังสือ

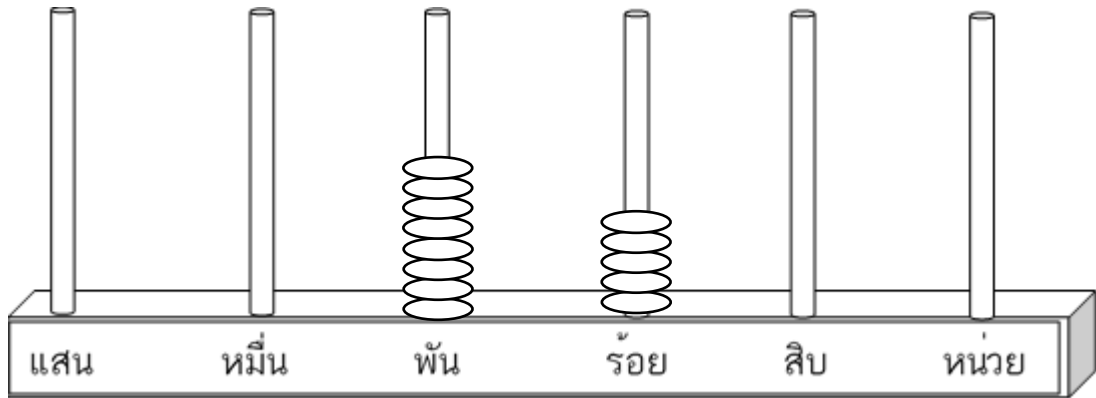


ตัวเลขฮินดูอารบิก

ตัวเลขไทย

ตัวหนังสือ

3)

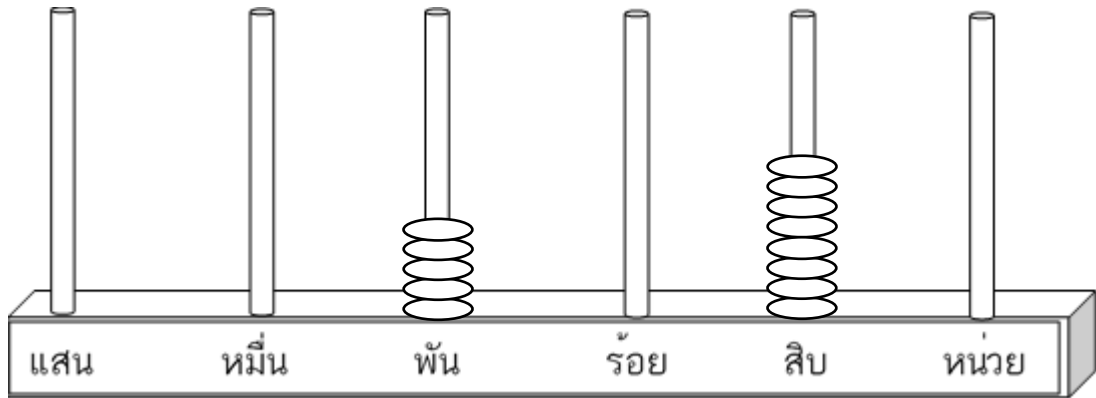


ตัวเลขฮินดูอารบิก

ตัวเลขไทย

ตัวหนังสือ

4)



ตัวเลขฮินดูอารบิก

ตัวเลขไทย

ตัวหนังสือ

จงเขียนเป็นตัวหนังสือ

1) 2,735

2) 6,408

3) 6,135

4) 7,009

5) ๕,๖๑๘

6) ๓,๘๑๕

7) ๗,๓๙๐

8) ๑,๐๕๕

9) ๕,๐๐๖

10) ๑,๐๑๐

จงเขียนเป็นตัวเลขฮินดูอารบิก

1) เจ็ดพันสามร้อยยี่สิบหก

2) สามพันหกร้อยเอ็ด

3) สามพันสอง

4) แปดพันแปดร้อยแปด

5) หกพันเจ็ดสิบ

6) ห้าพันสองร้อยยี่สิบแปด

7) สองพันสองร้อย

8) หกพันห้าสิบเอ็ด

9) สี่พันสามสิบสาม

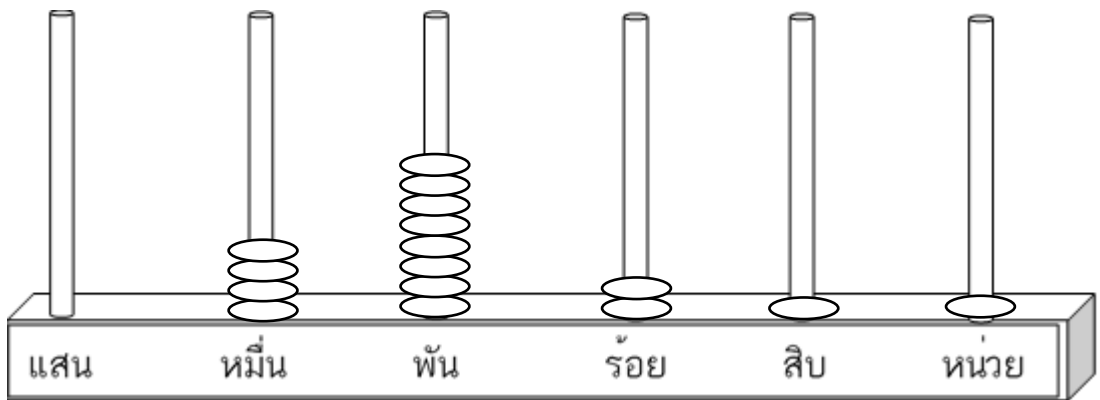
10) หนึ่งหมื่น

✿ จำนวนนับไม่เกิน 100,000

✱ การเขียนตัวเลขและตัวหนังสือแทนจำนวน

จากรูป จงเขียนเป็นตัวเลขฮินดูอารบิกและตัวเลขไทย

1)

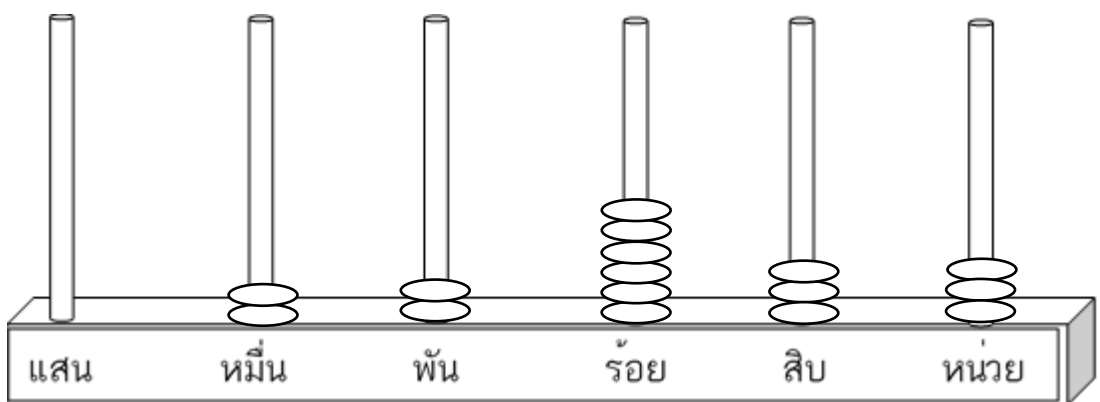


ตัวเลขฮินดูอารบิก

ตัวเลขไทย

ตัวหนังสือ

2)



ตัวเลขฮินดูอารบิก

ตัวเลขไทย

ตัวหนังสือ

จเขียนเป็นตัวหนังสือ

1) 71,612

2) 90,000

3) 35,701

4) 14,013

5) ๕๐,๖๓๕

6) ๗๒,๑๖๔

7) ๔๓,๖๐๐

8) ๘๐,๗๙๐

9) ๖๕,๐๐๑

10) ๒๓,๑๑๒

❁ ค่าของตัวเลขในแต่ละหลักและการเขียนจำนวนในรูปกระจาย

จงหาค่าของตัวเลขในแต่ละหลักและเขียนในรูปกระจาย

1) 1,608

..... ในหลัก มีค่า

..... ในหลัก มีค่า

..... ในหลัก มีค่า

..... ในหลัก มีค่า

2) 17,316

..... ในหลัก มีค่า

..... ในหลัก มีค่า

..... ในหลัก มีค่า

..... ในหลัก มีค่า

..... ในหลัก มีค่า

3) 45,018

..... ในหลัก มีค่า

..... ในหลัก มีค่า

..... ในหลัก มีค่า

..... ในหลัก มีค่า

..... ในหลัก มีค่า

4) 90,005

..... ในหลัก มีค่า

..... ในหลัก มีค่า

..... ในหลัก มีค่า

..... ในหลัก มีค่า

..... ในหลัก มีค่า

5) 2,0130

..... ในหลัก มีค่า

..... ในหลัก มีค่า

..... ในหลัก มีค่า

..... ในหลัก มีค่า

6) 16,403

..... ในหลัก มีค่า

..... ในหลัก มีค่า

..... ในหลัก มีค่า

..... ในหลัก มีค่า

..... ในหลัก มีค่า

7) 60,006

..... ในหลัก มีค่า

..... ในหลัก มีค่า

..... ในหลัก มีค่า

..... ในหลัก มีค่า

..... ในหลัก มีค่า

8) 68,671

..... ในหลัก มีค่า

..... ในหลัก มีค่า

..... ในหลัก มีค่า

..... ในหลัก มีค่า

..... ในหลัก มีค่า

ตัวเลขที่ขีดเส้นใต้อยู่ในหลักใด มีค่าเท่าใด

1) 6,815

ตอบ ในหลัก มีค่า

2) 3,957

ตอบ ในหลัก มีค่า

3) 8,463

ตอบ ในหลัก มีค่า

4) 5,279

ตอบ ในหลัก มีค่า

5) 1,306

ตอบ ในหลัก มีค่า

6) 1,510

ตอบ ในหลัก มีค่า

7) 91,875

ตอบ ในหลัก มีค่า

8) 60,137

ตอบ ในหลัก มีค่า

9) 59,703

ตอบ ในหลัก มีค่า

10) 58,733

ตอบ ในหลัก มีค่า

จงเขียนในรูปกระจาย

1) 5,178

ตอบ _____

2) 3,492

ตอบ _____

3) 6,089

ตอบ _____

4) 4,903

ตอบ _____

5) 32,146

ตอบ _____

6) 13,389

ตอบ _____

7) 20,723

ตอบ _____

8) 68,870

ตอบ _____

9) 61,542

ตอบ _____

10) 55,050

ตอบ _____

***การเปรียบเทียบจำนวนนับสองจำนวนที่มีจำนวนหลักเท่ากันและ
จำนวนหลักไม่เท่ากัน**

จงเติมเครื่องหมาย > หรือ < ลงใน

1) 612 648

2) 4,576 4,374

3) 8,321 8,335

4) 191 9,213

5) 15,376 3,976

6) 86,647 96,648

7) 34,200 24,300

8) 37,345 27,328

9) 24,457 24,587

10) 61,129 61,329

 การเรียงลำดับจำนวน

จงเรียงลำดับจำนวนจากมากไปน้อย

1) 3,221 2,258 2,806

ตอบ

2) 7,742 75,204 7,558

ตอบ

3) 5,127 64,52 49,014 426

ตอบ

4) 24,535 9,610 3,201 67,174

ตอบ

5) 26,535 2,608 26,797 264

ตอบ

จงเรียงลำดับจำนวนจากน้อยไปมาก

1) 9,143 9,185 9,128

ตอบ

2) 5,378 32,584 53,654

ตอบ

3) 1,418 67,859 43,221 9,530

ตอบ

4) 1,296 10,044 7,245 32,581

ตอบ

5) 57,532 57,017 5,749 57,301

ตอบ

✿การนับเพิ่ม

จงบอกความสัมพันธ์ของจำนวนจากแบบรูปที่กำหนดให้

1) 1,259 1,262 1,265 1,268

ตอบ

2) 31,369 31,373 31,377 13,381

ตอบ

3) 6,663 6,688 6,713 6,738

ตอบ

4) 8,754 8,804 8,854 8,904

ตอบ

5) 99,922 99,947 99,972 99,997

ตอบ

 การนับสด

จงบอกความสัมพันธ์ของจำนวนจากแบบรูปที่กำหนดให้

1) 4,041 4,036 4,031 4,026

ตอบ -----

2) 4,776 4,772 4,768 4,764

ตอบ -----

3) 96,615 96,612 96,609 96,60

ตอบ -----

4) 8,593 8,568 8,543 8,518

ตอบ -----

5) 18,429 18,379 18,329 18,279

ตอบ -----

 แบบรูปซ้ำ

จงพิจารณาแบบรูปของจำนวนต่อไปนี้ จำนวนใน คือจำนวนใด

1) 18 19 20 21 22 25 26 27 28 29

2) 6 6 1 6 6 1 6 6 1 6

3) 2 4 6 2 4 6 2 4 6

4) 7 6 5 7 6 5 7 6 5

5) 4 2 8 4 3 12 4 4 16

6) 5 6 7 5 6 7 5 6 7

7) 10 8 6 10 8 6 10 8 6 10

8) 25 20 15 25 20 15 25 20 15 25

9) 5 6 6 6 6 6 7 6 6 8

10) 5 10 15 5 10 15 5 10 15

หน้า 29

เอกสารอ้างอิง