

ใบงานคณิตศาสตร์ ชั้นประถมศึกษาปีที่ 3  
หน่วยการเรียนรู้ที่ 4 รูปเรขาคณิต (มฐ. ค 2.2 ป.3/1)

คะแนน

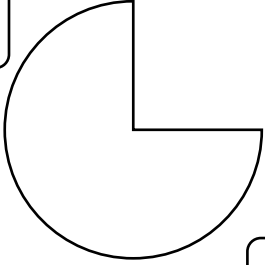
เรื่อง รูปที่มีแกนสมมาตร

ชื่อ \_\_\_\_\_ ชั้น \_\_\_\_\_ เลขที่ \_\_\_\_\_




คำชี้แจง : เขียน ✓ ใน  ที่มีแกนสมมาตร และ ✗ ใน  ที่ไม่มีแกนสมมาตร


1



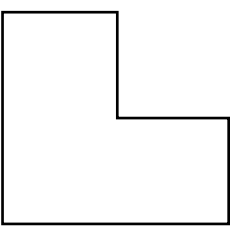
2



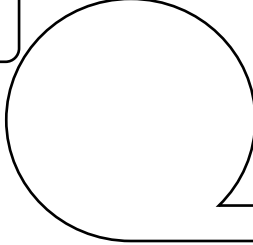
3




4



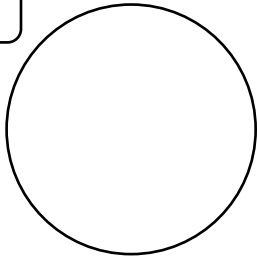
5




6




8



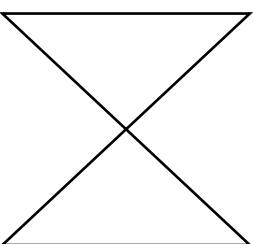
8



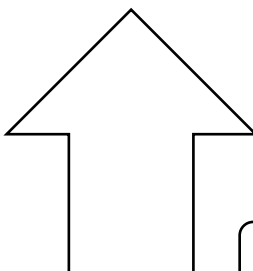
9



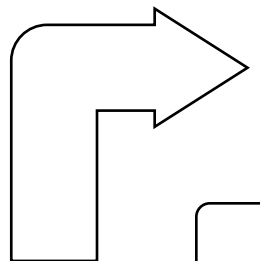
10



11



12



ใบงานคณิตศาสตร์ ชั้นประถมศึกษาปีที่ 3  
หน่วยการเรียนรู้ที่ 4 รูปเรขาคณิต (มฐ. ค 2.2 ป.3/1)

คะแนน

เรื่อง รูปที่มีแกนสมมาตรหลายแกน

ชื่อ \_\_\_\_\_

ชั้น \_\_\_\_\_

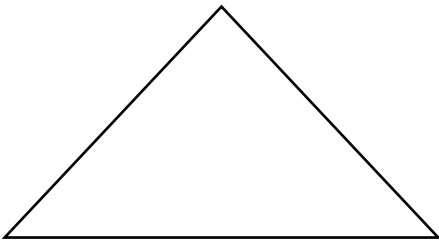
เลขที่ \_\_\_\_\_



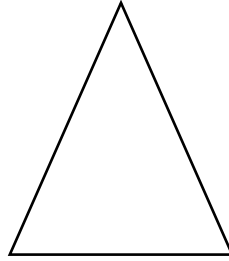
เติมคำตอบ

1

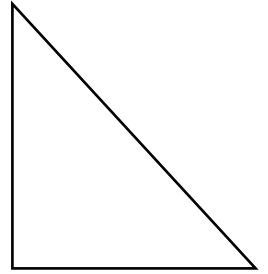
รูปที่กำหนดให้เป็นรูป .....



มีแกนสมมาตร \_\_\_\_\_ แกน




มีแกนสมมาตร \_\_\_\_\_ แกน




มีแกนสมมาตร \_\_\_\_\_ แกน

2


รูปที่กำหนดให้เป็นรูป .....



มีแกนสมมาตร \_\_\_\_\_ แกน



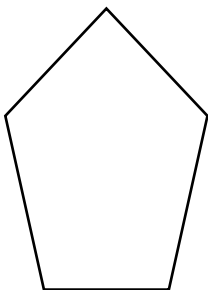
มีแกนสมมาตร \_\_\_\_\_ แกน



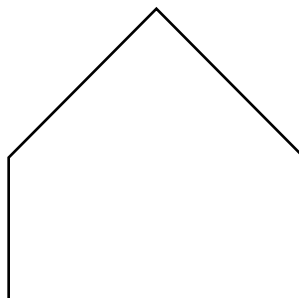
มีแกนสมมาตร \_\_\_\_\_ แกน

3

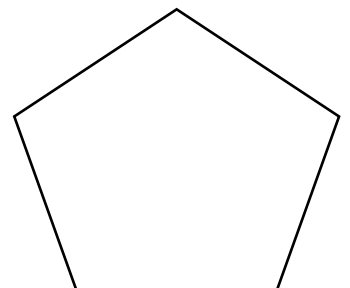
รูปที่กำหนดให้เป็นรูป .....



มีแกนสมมาตร \_\_\_\_\_ แกน



มีแกนสมมาตร \_\_\_\_\_ แกน



มีแกนสมมาตร \_\_\_\_\_ แกน

ใบงานคณิตศาสตร์ ชั้นประถมศึกษาปีที่ 3  
หน่วยการเรียนรู้ที่ 4 รูปเรขาคณิต (มฐ. ค 2.2 ป.3/1)

คะแนน

เรื่อง รูปที่มีแกนสมมาตรหลายแกน

ชื่อ \_\_\_\_\_

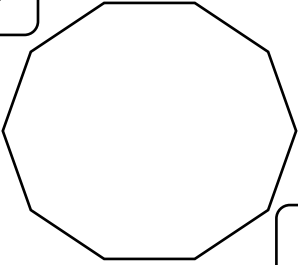
ชั้น \_\_\_\_\_

เลขที่ \_\_\_\_\_

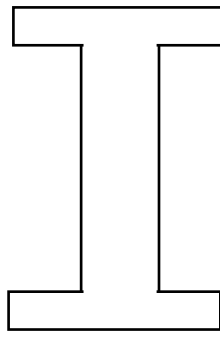


รูปต่อไปนี้ มีแกนสมมาตรกี่แกน


1



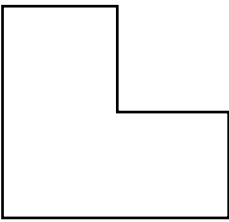
2



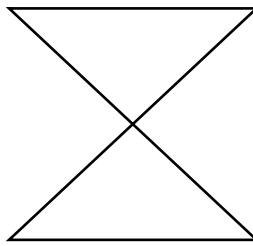
3




4




5




6




8




8



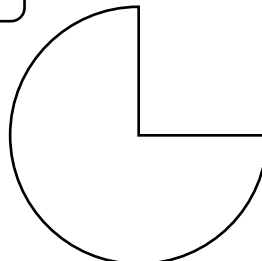
9




10



11



12




ใบงานคณิตศาสตร์ ชั้นประถมศึกษาปีที่ 3  
หน่วยการเรียนรู้ที่ 4 รูปเรขาคณิต (มฐ. ค 2.2 ป.3/1)

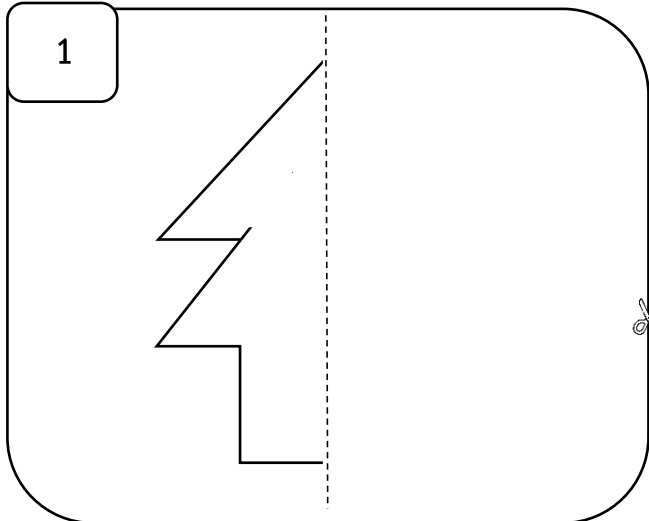
คะแนน

เรื่อง การประยุกต์ใช้รูปที่มีแกนสมมาตร (1)

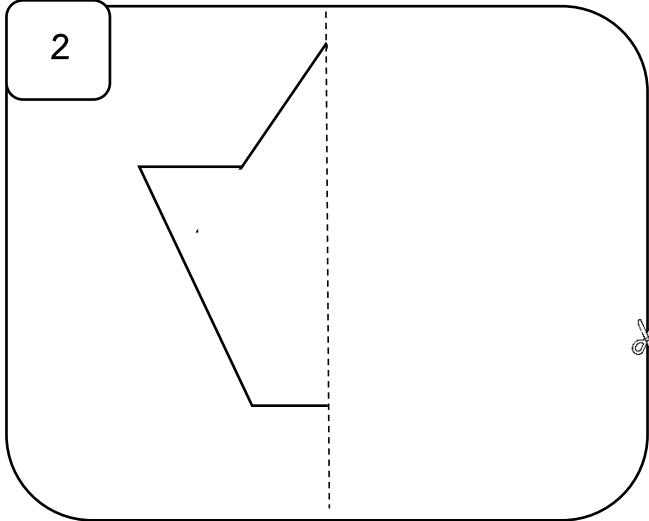
ชื่อ \_\_\_\_\_ ชั้น \_\_\_\_\_ เลขที่ \_\_\_\_\_

 ตัดแต่ละข้อออกมา พับตามรอยประ และตัดตามรอยขีดอ็กรอบ และนำไปเติมให้เป็นรูปที่สวยงามในใบงานถัดไป

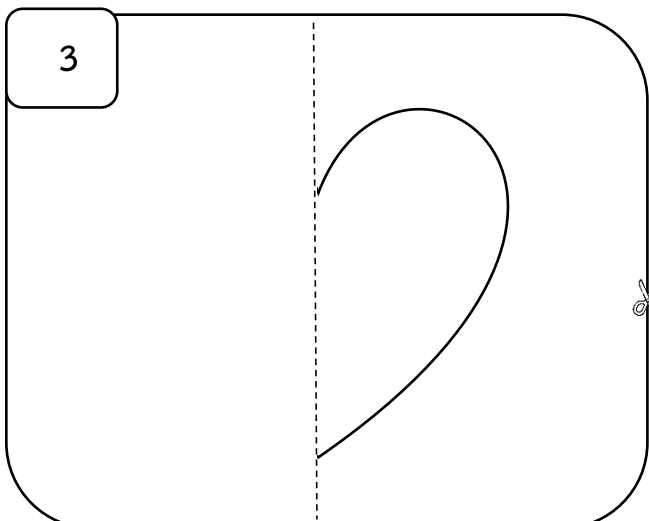
1



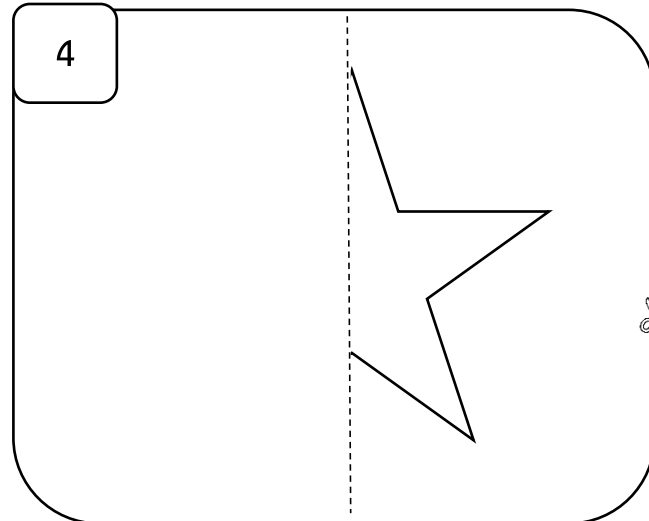
2



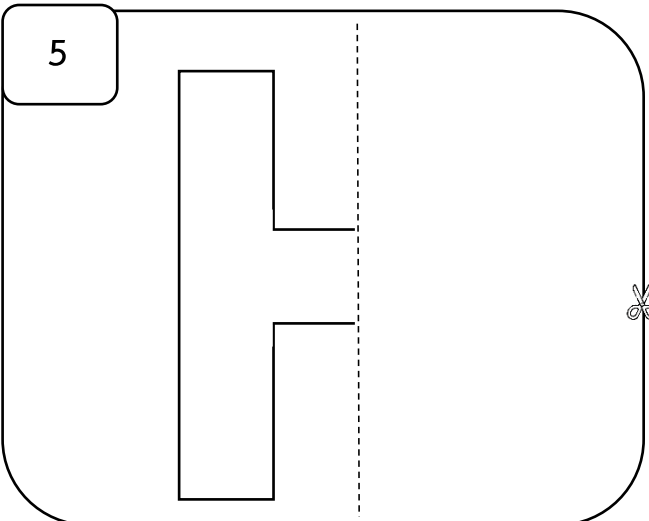
3



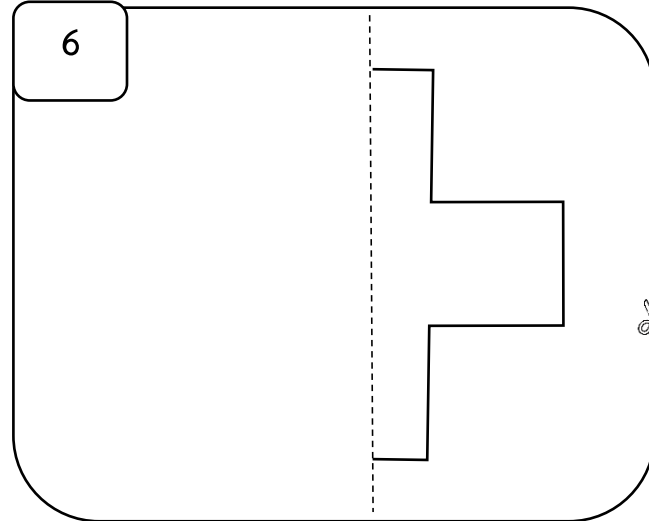
4



5



6



ใบงานคณิตศาสตร์ ชั้นประถมศึกษาปีที่ 3  
หน่วยการเรียนรู้ที่ 4 รูปเรขาคณิต (มฐ. ค 2.2 ป.3/1)  
เรื่อง การประยุกต์ใช้รูปที่มีแกนสมมาตร (2)

คะแนน

ชื่อ \_\_\_\_\_ ชั้น \_\_\_\_\_ เลขที่ \_\_\_\_\_



นำภาพที่ตัดได้จากใบงานก่อนหน้า มาติดและเติมให้เป็นรูปที่สวยงาม

ใบงานคณิตศาสตร์ ชั้นประถมศึกษาปีที่ 3  
หน่วยการเรียนรู้ที่ 4 รูปเรขาคณิต (มฐ. ค 2.2 ป.3/1)

คะแนน

เรื่อง การประยุกต์ใช้รูปที่มีแกนสมมาตร (3)

ชื่อ \_\_\_\_\_

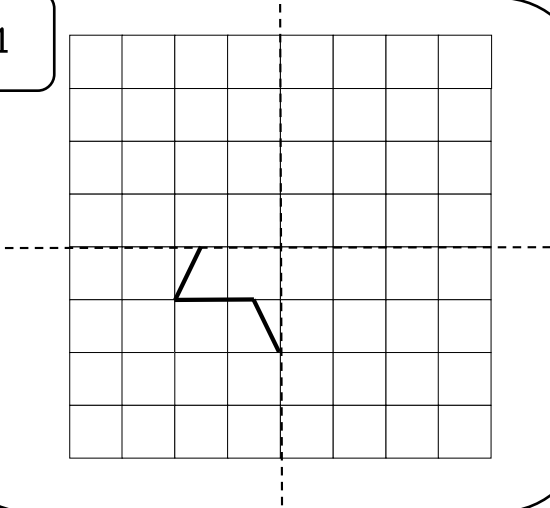
ชั้น \_\_\_\_\_

เลขที่ \_\_\_\_\_

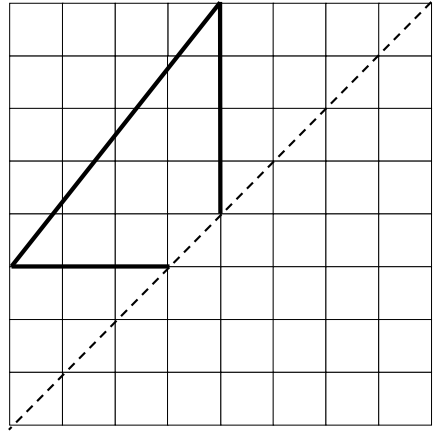


วาดรูปอีกข้างหนึ่งของแกนสมมาตร

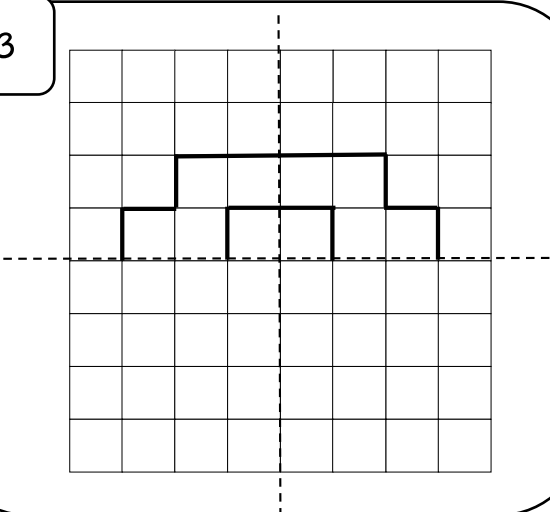
1



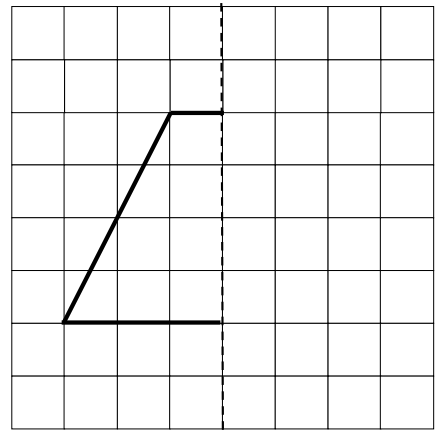
2



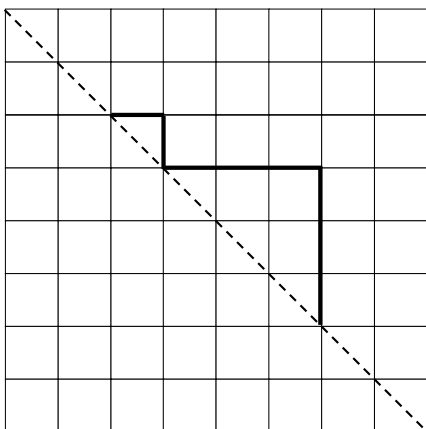
3



4



5



6

