

ชื่อ \_\_\_\_\_

ชั้น \_\_\_\_\_

เลขที่ \_\_\_\_\_



คำชี้แจง : จำแนกสัตว์ต่อไปนี้ และระบายสีให้สวยงาม



1 สัตว์บก ได้แก่

ตอบ

2 สัตว์น้ำ ได้แก่

ตอบ

3 สัตว์ปีก ได้แก่

ตอบ

4 สัตว์ประเภทใดมีจำนวนมากที่สุด และน้อยที่สุด

ตอบ

ใบงานคณิตศาสตร์ ชั้นประถมศึกษาปีที่ 3

คะแนน


หน่วยการเรียนรู้ที่ 5 แผนภูมิรูปภาพ และตารางทางเดียว (มฐ. ค 3.1 ป.3/1)


เรื่อง การอ่านแผนภูมิภาพ

ชื่อ \_\_\_\_\_ ชั้น \_\_\_\_\_ เลขที่ \_\_\_\_\_



คำชี้แจง : เต็มคำตอบ

1 ถ้าให้  แทนจำนวนหมึก 40 ตัว




เท่ากับ หมึก ..... ตัว

2 ถ้าให้  แทนจำนวนดินสอ 100 แท่ง





เท่ากับ ดินสอ ..... แท่ง

3 ถ้าให้  แทนจำนวนเต่า 12 ตัว





เท่ากับ เต่า ..... ตัว

4 ถ้าให้  แทนจำนวนมด 50 ตัว



เท่ากับ มด ..... ตัว

5 ถ้าให้  แทนจำนวนแอปเปิ้ล 20 ผล



เท่ากับ แอปเปิ้ล ..... ผล

6 ถ้าให้  แทนจำนวนไก่ 15 ตัว



เท่ากับ ไก่ ..... ตัว

# ใบงานคณิตศาสตร์ ชั้นประถมศึกษาปีที่ 3

คะแนน

หน่วยการเรียนรู้ที่ 5 แผนภูมิรูปภาพ และตารางทางเดียว (มฐ. ค 3.1 ป.3/1)


เรื่อง การอ่านแผนภูมิภาพ

ชื่อ \_\_\_\_\_ ชั้น \_\_\_\_\_ เลขที่ \_\_\_\_\_




คำชี้แจง : ตอบคำถาม


จำนวนสุกรที่ฟาร์มโชคดีจำหน่ายในแต่ละเดือน




มกราคม




กุมภาพันธ์



มีนาคม



เมษายน



พฤษภาคม

กำหนดให้



แทนจำนวนสุกร 60 ตัว

1 เดือนกุมภาพันธ์จำหน่ายสุกรได้เป็นจำนวนกี่ตัว

ตอบ



2 เดือนใดบ้างที่มียอดจำหน่ายเท่ากันเป็นจำนวนกี่ตัว

ตอบ



3 เดือนที่จำหน่ายได้มากที่สุดคือเดือนใด จำนวนกี่ตัว

ตอบ



4 เดือนที่มียอดจำหน่ายมากที่สุด ต่างกับเดือนที่มียอดจำหน่ายน้อยที่สุดอยู่เท่าไร

ตอบ



5 ยอดจำหน่ายสุกรของฟาร์มโชคดีรวมทั้งหมด 5 เดือนเป็นจำนวนกี่ตัว

ตอบ




ใบงานคณิตศาสตร์ ชั้นประถมศึกษาปีที่ 3

คะแนน

หน่วยการเรียนรู้ที่ 5 แผนภูมิรูปภาพ และตารางทางเดียว (มฐ. ค 3.1 ป.3/1)

เรื่อง การเขียนแผนภูมิภาพ

ชื่อ \_\_\_\_\_ ชั้น \_\_\_\_\_ เลขที่ \_\_\_\_\_

 คำชี้แจง : เขียนแผนภูมิภาพแสดงจำนวนนักเรียนที่เลี้ยงสัตว์ต่างๆ โดยกำหนดรูป 1 รูป แทนจำนวนนักเรียน 4 คน

เลี้ยงสุนัข

34 คน

เลี้ยงกระต่าย

12 คน

เลี้ยงหนูแฮมเตอร์

16 คน

เลี้ยงแมว


22 คน

เลี้ยงนก

10 คน

เลี้ยงปลา

24 คน



กำหนด .....

--	--	--	--	--	--

สุนัข



กระต่าย



แมว



ปลา



หนูแฮมเตอร์



นก



กำหนด .....

หน่วยการเรียนรู้ที่ 5 แผนภูมิรูปภาพ และตารางทางเดียว (มฐ. ค 3.1 ป.3/2)


เรื่อง การอ่านตารางทางเดียว

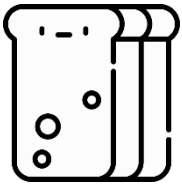

ชื่อ \_\_\_\_\_ ชั้น \_\_\_\_\_ เลขที่ \_\_\_\_\_



คำชี้แจง : ตอบคำถาม

จำนวนอาหารกล่องที่ร้านค้าขายได้วันจันทร์

อาหาร	จำนวน (กล่อง)
 ข้าวเหนียวหมูทอด	45
ข้าวผัด	39
ขนมปังปิ้ง	22
แซนด์วิช	30
ขนมจีบ	28



1 ตารางทางเดียวแสดงข้อมูลเกี่ยวกับอะไร

ตอบ .....



2 ร้านค้าขายแซนด์วิชได้กี่กล่อง

ตอบ .....



3 ร้านค้าขายข้าวผัดได้กี่กล่อง

ตอบ .....



4 ร้านค้าขายข้าวเหนียวหมูทอดรวมกับข้าวผัด  
ได้กี่กล่อง

ตอบ .....



5 ถ้าขายขนมปังปิ้งกล่องละ 10 บาท จะ  
ขายได้เงินกี่บาท

ตอบ .....



6 ร้านค้าขายอาหารกล่องชนิดใดได้น้อยกว่า  
ข้าวเหนียวหมูทอด 15 กล่อง

ตอบ .....



# ใบงานคณิตศาสตร์ ชั้นประถมศึกษาปีที่ 3

คะแนน

หน่วยการเรียนรู้ที่ 5 แผนภูมิรูปภาพ และตารางทางเดียว (มฐ. ค 3.1 ป.3/2)

เรื่อง การเขียนตารางทางเดียว

ชื่อ \_\_\_\_\_ ชั้น \_\_\_\_\_ เลขที่ \_\_\_\_\_



คำชี้แจง : เขียนตารางทางเดียวจากข้อมูลที่กำหนดให้

1

จำนวนนักเรียนระดับชั้นต่างๆ ของโรงเรียนแห่งหนึ่ง ดังนี้

ป. 1 จำนวน 87 คน


ป. 2 จำนวน 115 คน

ป. 3 จำนวน 78 คน

ป. 4 จำนวน 106 คน

ป. 5 จำนวน 95 คน

ป. 6 จำนวน 128 คน



2

จำนวนเห็ดชนิดต่างๆ ที่ร้านค้าขายได้ 1 สัปดาห์ ดังนี้

เห็ดหูหนู 18 กิโลกรัม

เห็ดฟาง 124 กิโลกรัม

เห็ดเข็มทอง 90 กิโลกรัม

เห็ดนางฟ้า 52 กิโลกรัม

เห็ดออริจินิ 65 กิโลกรัม

เห็ดหอม 76 กิโลกรัม

