

เรื่อง การบอกเวลาเป็นนาฬิกาและนาทีก

ชื่อ _____

ชั้น _____

เลขที่ _____



คำชี้แจง : ให้บอกเวลาเป็นนาฬิกา นาที

1



.....นาฬิกา.....นาทีก



.....นาฬิกา.....นาทีก

2



.....นาฬิกา.....นาทีก



.....นาฬิกา.....นาทีก

3




.....นาฬิกา.....นาทีก



.....นาฬิกา.....นาทีก

4



.....นาฬิกา.....นาทีก



.....นาฬิกา.....นาทีก

5



.....นาฬิกา.....นาทีก



.....นาฬิกา.....นาทีก

6




.....นาฬิกา.....นาทีก



.....นาฬิกา.....นาทีก

7



.....นาฬิกา.....นาทีก



.....นาฬิกา.....นาทีก

8



.....นาฬิกา.....นาทีก



.....นาฬิกา.....นาทีก

9



.....นาฬิกา.....นาทีก



.....นาฬิกา.....นาทีก

ใบงานคณิตศาสตร์ ชั้นประถมศึกษาปีที่ 3
หน่วยการเรียนรู้ที่ 3 เวลา (มฐ. ค 2.1 ป.3/2)

คะแนน

เรื่อง การอ่านและเขียนบอกเวลาที่มีมหัพภาค (.) หรือทวิภาค (:)

ชื่อ _____

ชั้น _____

เลขที่ _____



คำชี้แจง : อ่านเวลา

1

8.57 น.

อ่านว่า



2

0.20 น.

อ่านว่า



3

15.09 น.

อ่านว่า



4

22.33 น.

อ่านว่า



5

4.00 น.

อ่านว่า



6

23.45 น.

อ่านว่า



7

3.37 น.

อ่านว่า



8

16.55 น.

อ่านว่า



9

09.06 น.

อ่านว่า



10

10.02 น.

อ่านว่า



11

9.30 น.

อ่านว่า



12

00.08 น.

อ่านว่า



ใบงานคณิตศาสตร์ ชั้นประถมศึกษาปีที่ 3
 หน่วยการเรียนรู้ที่ 3 เวลา (มฐ. ค 2.1 ป.3/2)

คะแนน

เรื่อง การอ่านและเขียนบอกเวลาที่มีมหัพภาค (.) หรือทวิภาค (:)

ชื่อ _____ ชั้น _____ เลขที่ _____



คำชี้แจง : เขียนบอกเวลาแบบใช้มหัพภาค (.) และทวิภาค (:)

ข้อ	เวลา	เขียนบอกเวลา	
		แบบใช้มหัพภาค (.)	แบบใช้ทวิภาค (:)
1	 น. น. น. น.
2	 น. น. น. น.
3	 น. น. น. น.
4	 น. น. น. น.
5	 น. น. น. น.

ใบงานคณิตศาสตร์ ชั้นประถมศึกษาปีที่ 3
 หน่วยการเรียนรู้ที่ 3 เวลา (มฐ. ค 2.1 ป.3/2)
 เรื่อง การบอกระยะเวลาเป็นชั่วโมงและนาที (1)

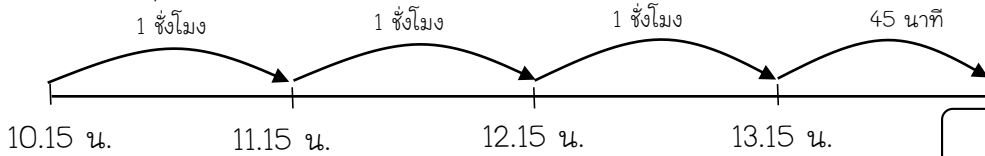
คะแนน

ชื่อ _____ ชั้น _____ เลขที่ _____

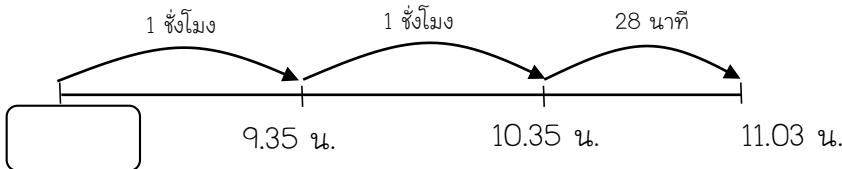


คำชี้แจง : บอกเวลาเริ่มต้นหรือเวลาสิ้นสุด

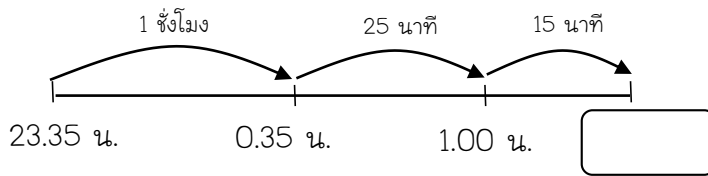
1 ปกรณเที่ยวสวน 3 ชั่วโมง 45 นาที



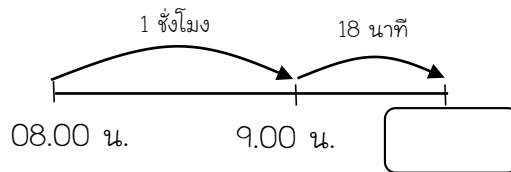
2 มะลิใช้เวลาทำขนม 2 ชั่วโมง 28 นาที




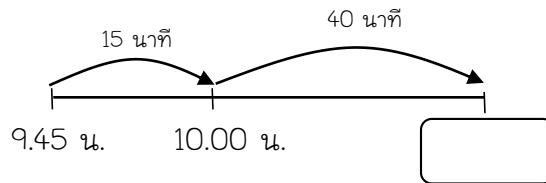
3 พลอยทานอาหารเย็น 1 ชั่วโมง 40 นาที




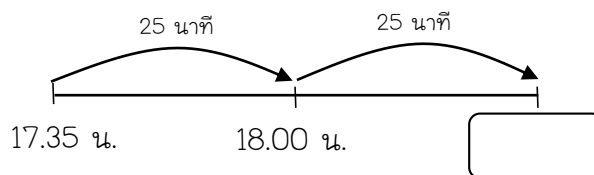
4 บอมใช้เวลาล้างรถ 1 ชั่วโมง 18 นาที



5 มะลิใช้เวลาล้างจาน 55 นาที



6 กมลใช้เวลาอ่านหนังสือ 50 นาที



ใบงานคณิตศาสตร์ ชั้นประถมศึกษาปีที่ 3
หน่วยการเรียนรู้ที่ 3 เวลา (มฐ. ค 2.1 ป.3/2)
เรื่อง การบอกระยะเวลาเป็นชั่วโมงและนาที (2)

คะแนน

ชื่อ _____ ชั้น _____ เลขที่ _____



คำชี้แจง : บอกเวลาเริ่มต้นหรือเวลาสิ้นสุด

1 พ่อเริ่มทำงานเวลา 13.30 น. ทำงานเสร็จ เวลา 21.30 น. พ่อใช้เวลาทำงาน

ตอบ

ชั่วโมง



2 ป้าดาเริ่มขายของที่ตลาดเวลา 14.00 น. กลับบ้านเวลา 20.00 ป้าดาใช้เวลาขายของ

ตอบ

ชั่วโมง



3 รถตู้ออกจากสถานีเวลา 11.45 น. ถึง กรุงเทพฯ เวลา 19.45 น. รถตู้ใช้เวลาเดินทาง

ตอบ

ชั่วโมง



4 แอนออกจากบ้านเวลา 8.00 น. ถึงบ้านเพื่อน เวลา 10.00 น. แอนใช้เวลาเดินทาง

ตอบ

ชั่วโมง



5 จอยเริ่มอบขนมเวลา 7.15 น. ถึงเวลา 8.28 น. จอยใช้เวลาอบขนม

ตอบ

ชั่วโมง

นาที



6 แนนรีดผ้าเวลา 14.00 น. ถึงเวลา 16.15 น. แนนใช้เวลารีดผ้า

ตอบ

ชั่วโมง

นาที



7 ออมสินใช้เวลา 20.45 น. ตื่นนอนเวลา 5.56 น. ออมสินใช้เวลานาน

ตอบ

ชั่วโมง

นาที



8 แม่เริ่มทำงานเวลา 08.05 น. ถึงเวลา 16.25 น. แม่ใช้เวลาทำงาน

ตอบ

ชั่วโมง

นาที



9 ต้นกล้าเริ่มตัดหญ้าเวลา 09.15 น. ถึงเวลา 11.28 น. ต้นกล้าใช้เวลาตัดหญ้า

ตอบ

ชั่วโมง

นาที



10 เจนนี่เริ่มเล่นเปียโนเวลา 08.45 น. ถึงเวลา 10.15 น. เจนนี่ใช้เวลาเล่นเปียโน

ตอบ

ชั่วโมง

นาที



เรื่อง การเปรียบเทียบระยะเวลา (1)

ชื่อ _____ ชั้น _____ เลขที่ _____



คำชี้แจง : เติมคำว่า มากกว่า น้อยกว่า หรือเท่ากับ

1

1 ชั่วโมง 45 นาที

1 ชั่วโมง 30 นาที



2

2 ชั่วโมง 45 นาที

150 นาที



3

5 ชั่วโมง 9 นาที

5 ชั่วโมง 55 นาที



4

3 ชั่วโมง 5 นาที

190 นาที



5

4 ชั่วโมง 35 นาที

6 ชั่วโมง 25 นาที



6

260 นาที

4 ชั่วโมง 15 นาที



7

7 ชั่วโมง 41 นาที

6 ชั่วโมง 48 นาที



8

300 นาที

5 ชั่วโมง 30 นาที



9

5 ชั่วโมง 25 นาที

4 ชั่วโมง 31 นาที



10

1 ชั่วโมง 45 นาที

105 นาที



เรื่อง การเปรียบเทียบระยะเวลา (2)

ชื่อ _____ ชั้น _____ เลขที่ _____



คำชี้แจง : เติมคำว่า มากกว่า น้อยกว่า หรือเท่ากับ

กิจกรรมของแก้วตา	ระยะเวลา	กิจกรรมของแก้วตา	ระยะเวลา
ปลูกต้นไม้	1 ชั่วโมง 55 นาที	อ่านหนังสือ	90 นาที
เล่นคอมพิวเตอร์	95 นาที	เล่นกีฬา	2 ชั่วโมง 17 นาที
ซ้อมดนตรี	1 ชั่วโมง 39 นาที		

1 เวลาที่ใช้เล่นคอมพิวเตอร์

เวลาที่ใช้เล่นกีฬา



2 เวลาที่ใช้ปลูกต้นไม้

เวลาที่ใช้อ่านหนังสือ



3 เวลาที่ใช้ซ้อมดนตรี

เวลาที่ใช้เล่นคอมพิวเตอร์




4 เวลาที่ใช้เล่นคอมพิวเตอร์

เวลาที่ใช้ปลูกต้นไม้



5 เวลาที่ใช้ซ้อมดนตรี

เวลาที่ใช้เล่นกีฬา




6 เวลาที่ใช้เล่นกีฬา

เวลาที่ใช้อ่านหนังสือ




7 เวลาที่ใช้อ่านหนังสือ

เวลาที่ใช้ซ้อมดนตรี



8 เวลาที่ใช้ปลูกต้นไม้

เวลาที่ใช้เล่นกีฬา



ใบงานคณิตศาสตร์ ชั้นประถมศึกษาปีที่ 3
หน่วยการเรียนรู้ที่ 3 เวลา (มฐ. ค 2.1 ป.3/2)

คะแนน

เรื่อง โจทย์ปัญหาเกี่ยวกับเวลาและระยะเวลา

ชื่อ _____ ชั้น _____ เลขที่ _____




คำชี้แจง : แสดงวิธีหาคำตอบ

1 คุณยายใช้เวลาทอผ้า 2 ชั่วโมง 5 นาที ใช้เวลาทอผ้ามากกว่าคุณยาย 1 ชั่วโมง 45 นาที
คุณยายใช้เวลาทอผ้าเท่าไร

วิธีทำ _____

ชั่วโมง	นาที
<input type="text"/>	<input type="text"/>
<input type="text"/>	<input type="text"/>
<input type="text"/>	<input type="text"/>

ตอบ คุณยายใช้เวลาทอผ้า _____ ชั่วโมง _____ นาที



2 การแข่งขันฟุตบอล ครั้งแรกใช้เวลา 45 นาที ครั้งหลังใช้เวลาอีก 45 นาที การแข่งขันฟุตบอลใช้เวลาทั้งหมดกี่ชั่วโมง กี่นาที

วิธีทำ _____

ชั่วโมง	นาที
<input type="text"/>	<input type="text"/>
<input type="text"/>	<input type="text"/>
<input type="text"/>	<input type="text"/>
<input type="text"/>	<input type="text"/>

ตอบ การแข่งขันฟุตบอลใช้เวลาทั้งหมด _____ ชั่วโมง _____ นาที



3 วันเสาร์เก่งว่ายน้ำ 1 ชั่วโมง 45 นาที วันอาทิตย์เก่งใช้เวลาว่ายน้ำน้อยกว่า วันเสาร์ 50 นาที วันอาทิตย์เก่งใช้เวลาว่ายน้ำเท่าไร

วิธีทำ _____

ชั่วโมง	นาที
<input type="text"/>	<input type="text"/>
<input type="text"/>	<input type="text"/>
<input type="text"/>	<input type="text"/>

ตอบ กววันอาทิตย์เก่งใช้เวลาว่ายน้ำ _____ นาที



ใบงานคณิตศาสตร์ ชั้นประถมศึกษาปีที่ 3
 หน่วยการเรียนรู้ที่ 3 เวลา (มฐ. ค 2.1 ป.3/2)
 เรื่อง โจทย์ปัญหาเกี่ยวกับเวลาและระยะเวลา (2)

คะแนน

ชื่อ _____ ชั้น _____ เลขที่ _____



คำชี้แจง : แสดงวิธีหาคำตอบ (คุณหรือหาร)

1 จูเน่เล่นแบดมินตันสัปดาห์ละ 3 ชั่วโมง 25 นาที เป็นเวลา 4 สัปดาห์ จูเน่เล่นแบดมินตันทั้งหมดกี่ ชั่วโมง กี่นาที


วิธีทำ

.....

 หรือ

ชั่วโมง	นาที
<input type="text"/>	<input type="text"/>
<input type="text"/>	<input type="text"/>
<input type="text"/>	<input type="text"/>
<input type="text"/>	<input type="text"/>


สัปดาห์



ตอบ จูเน่เล่นแบดมินตันทั้งหมด ชั่วโมง นาที

2 ปราโมทย์ทำกิจกรรมจิตอาสาทั้งหมด 105 นาที วันจันทร์ถึงวันวันศุกร์ ปราโมทย์ทำกิจกรรมจิตอาสาวันละกี่นาที

.....




ตอบ ปราโมทย์ทำกิจกรรมจิตอาสาวันละ นาที

3 มะลิทำดอกไม้ผ้าได้ 9 ดอก ใช้เวลา 81 นาที ถ้ามะลิทำดอกไม้ผ้าแต่ละดอกใช้เวลาเท่ากัน มะลิทำดอกไม้ผ้าแต่ละดอกใช้เวลากี่นาที

.....

ตอบ มะลิทำดอกไม้ผ้าแต่ละดอกใช้เวลา นาที



ใบงานคณิตศาสตร์ ชั้นประถมศึกษาปีที่ 3
หน่วยการเรียนรู้ที่ 3 เวลา (มฐ. ค 2.1 ป.3/2)
เรื่อง โจทย์ปัญหาเกี่ยวกับเวลาและระยะเวลา (3)

คะแนน

ชื่อ _____ ชั้น _____ เลขที่ _____




คำชี้แจง : แสดงวิธีหาคำตอบ

1 รถตู้เริ่มออกเดินทางเวลา 10 นาฬิกา 20 นาที ถึงแม่กลองเวลา 12 นาฬิกา 45 นาที รถตู้ใช้เวลาเดินทางไปแม่กลองนานเท่าไร

.....
.....
.....
.....
.....
.....
.....
.....

ตอบ รถตู้ใช้เวลาเดินทางไปแม่กลองนาน ชั่วโมง นาที



2 นักวิ่งใช้เวลาวิ่ง 2 ชั่วโมง 20 นาที เข้าเส้นชัยเวลา 07.40 น. นักวิ่งวิ่งจากจุดเริ่มต้นเวลาใด

.....
.....
.....
.....
.....
.....
.....
.....

ตอบ นักวิ่งวิ่งจากจุดเริ่มต้นเวลา น.



3 มาลีใช้เวลาสอบ 2 ชั่วโมง 30 นาที สอบเสร็จเวลา 15.30 น. มาลีเริ่มสอบเวลาใด

.....
.....
.....
.....
.....
.....
.....
.....

ตอบ มาลีเริ่มสอบเวลา น.

